




مجموعه آزمون های مداد کاغذی و عملکردی پیشرفت تحصیلی

## پایه ششم دبستان

# آزمون ماهیهانه



# ارزشیابی دی ماه (نوبت اول)

## پایه ششم

تاریخ آزمون:

مدت آزمون:

نام و نام خانوادگی:

نام دبستان:

اجتماعی: (تا آخر درس ۱۳)

درست نادرست

<input type="checkbox"/>	<input type="checkbox"/>
<input type="checkbox"/>	<input type="checkbox"/>
<input type="checkbox"/>	<input type="checkbox"/>
<input type="checkbox"/>	<input type="checkbox"/>

الف) درستی یا نادرستی عبارتهای زیر را مشخص کنید.

- ۱- اوج شکوفایی اصفهان مربوط به دوره صفویه است.
- ۲- مبدأ تاریخ مسلمانان هجرت پیامبر (ص) از مدینه به مکه بود.
- ۳- دانشگاه جندی شاپور از مراکز مهم علمی دوره اسلامی در زمان سامانیان بود.
- ۴- باید از دوستی‌های افراطی پرهیز کنیم زیرا باعث می‌شود آرامش ما به هم بریزد.

ب) گزینه صحیح را انتخاب کنید.

۵- کدام یک از انرژی‌های زیر، غیر قابل تجدید است؟

- انرژی خورشیدی       انرژی باد       انرژی هسته‌ای       انرژی آب

۶- در قسمت جنوبی میدان نقش جهان اصفهان، کدام یک از بناهای زیر قرار گرفته است؟

- مسجد شیخ لطف‌الله       کاخ عالی قاپو       بازار قیصریه       مسجد امام

۷- معروف‌ترین بیمارستان دوره اسلامی توسط چه کسی و در کدام شهر ساخته شد؟

- عضد الدوله در بغداد       جندی شاپور در بغداد
- خواجه نظام الملک در نیشابور       ابوعلی سینا در اهواز

۸- بخش وسیعی از کشورمان ایران در کدام منطقه‌ی آب‌وهوایی است؟

- معتدل و مرطوب       سرد کوهستانی       خشک و نیمه‌خشک       گرم کوهستانی

پ) جاهای خالی را با عبارتهای مناسب پر کنید.

۹- به هر ..... یک قرن می‌گوییم.

۱۰- در شمال ایران غذای مردم خیلی به ..... وابسته است.

۱۱- مؤسس سلسله‌ی صفوی ..... نام داشت.

۱۲- اولین مرحله‌ی تصمیم‌گیری ..... و ..... است.

ت) پاسخ کوتاه بدهید.

۱۳- نام چند تن از قهرمانان ایرانی در مبارزه با استعمار را بنویسید. (چهار مورد)

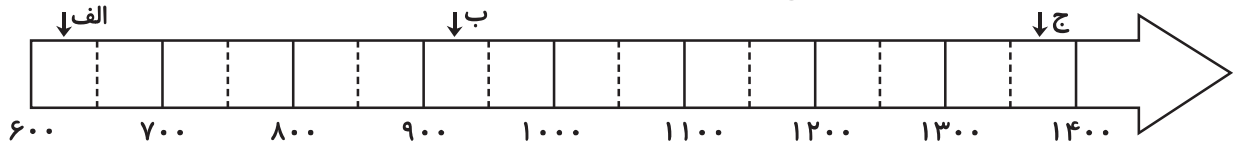
۱۴- چرا انتخاب دوست موضوع مهمی است؟

۱۵- چند گروه اجتماعی یا شغلی که لباس مخصوص به تن می کنند را نام ببرید. (چهار مورد)

۱۶- برای خرید لباس چه ملاک هایی باید داشته باشیم؟ (دو مورد)

ث) پاسخ کامل بدهید.

۱۷- با توجه به خطّ زمان، جاهای خالی را مانند نمونه کامل کنید.



الف) حمله ی مغول به ایران (سال ۶۱۶ هجری): نیمه ی اول قرن هفتم هجری

ب) تأسیس سلسله ی صفوی (سال ۹۰۷):

ج) پایان جنگ ایران و عراق (سال ۱۳۶۷):

۱۸- نمودار علت و معلولی زیر را کامل کنید.

علت ها

معلول

حمله ی نظامی  
عراق به ایران

مجهز نبودن ارتش و نداشتن آمادگی کافی برای دفاع

۱۹- در یک مکان عمومی مثل پارک چه مقرراتی را باید رعایت کنیم؟ (سه مورد)

۲۰- به کدام منطقه «انبار نفت جهان» گفته می شود؟ چرا؟



خیلی خوب    خوب    قابل قبول    نیاز به تلاش بیشتر

توضیحات آموزگار: .....

# ارزشیابی دی ماه (نوبت اول)

## پایه هشتم

نام و نام خانوادگی:

تاریخ آزمون:

مدت آزمون:

علوم: (تا آخر درس ۸)

نام دبستان:

درست نادرست

<input type="checkbox"/>	<input type="checkbox"/>
<input type="checkbox"/>	<input type="checkbox"/>
<input type="checkbox"/>	<input type="checkbox"/>
<input type="checkbox"/>	<input type="checkbox"/>

الف) درستی یا نادرستی عبارتهای زیر را مشخص کنید.

- ۱- نیروی بالابری، از نیروهای تماسی است.
- ۲- نیروی اصطکاک همواره در جهت حرکت بر جسم اثر می گذارد.
- ۳- آلومینیوم فلزی سمی است که باید از تماس طولانی دست با آن پرهیز کرد.
- ۴- ساقه، تنه‌ی محکم و شاخه‌های چوبی درختان برای تهیه‌ی کاغذ مناسب است.

ب) گزینه‌ی صحیح را انتخاب کنید.

۵- موتور الکتریکی انرژی الکتریکی را به چه نوع انرژی تبدیل می کند؟

- گرمایی       صوتی و تصویری       حرکتی       همه‌ی موارد

۶- کدام یک از موارد زیر برای کم کردن اصطکاک نیست؟

- استفاده از چرخ       زبر و ناصاف کردن سطوح  
 استفاده از روغن       هر سه مورد اصطکاک را کم می کنند

۷- استفاده از نیروسنج و ترازو به ترتیب برای اندازه گیری چه مواردی است؟

- وزن - جرم       وزن - حجم       وزن - جرم       جرم - وزن

۸- منشأ بیشتر آتش فشان‌ها و زمین لرزه‌ها کدام یک از لایه‌های زمین است؟

- سنگ کره       هسته‌ی داخلی       گوشته‌ی زیرین       خمیر کره

پ) جاهای خالی را با عبارتهای مناسب پر کنید.

- ۹- حداقل دو جسم باید بر هم اثر کنند تا ..... ایجاد شود.
- ۱۰- ملخ یا پروانه‌ی هواپیما نیروی ..... را به وجود می آورد.
- ۱۱- به موادی مانند چرم، پوست و سنگ که در طبیعت یافت می شوند ..... می گوئیم.
- ۱۲- در تهیه کاغذ از ..... برای پر کردن فضاهای خالی کاغذ و تولید کاغذ غیر شفاف استفاده می کنیم.

ت) پاسخ کوتاه بدهید.

۱۳- یاخته چیست؟

۱۴- زنجیره‌ی غذایی چیست؟

۱۵- فتوسنتز به چه عملی گفته می‌شود؟

۱۶- به چه درخت‌هایی بومی گفته می‌شود؟

ث) پاسخ کامل بدهید.

۱۷- با کامل کردن جاهای خالی انواع رابطه‌ی های همزیستی را توضیح داده و برای هر کدام مثال بزنید.

..... : ..... مثل ..... و .....	انواع رابطه های همزیستی
..... : یکی سود می برد و ..... مثل ..... و .....	
هم سنگی : ..... مثل شیر و کرکس	

۱۸- با نوشتن نام یک گیاه جدول زیر را کامل کنید.

دانه‌ی نشاسته دار	دانه‌ی روغن دار	ساقه‌ی نشاسته دار	میوه‌ی نشاسته دار	میوه روغن دار
.....	.....	.....	.....	.....



۱۹- نام قسمت‌های مشخص شده میکروسکوپ مقابل را نوشته

و بگویید قسمت ۲ چه کاری انجام می‌دهد؟

۲۰- بر یک هواپیمای در حال حرکت چه نیروهایی وارد می‌شود؟ یکی از آنها را به دلخواه توضیح دهید.

.....

خیلی خوب    خوب    قابل قبول    نیاز به تلاش بیشتر

..... توضیحات آموزگار:

# ارزشیابی فروردین ماه

## پایه ششم

نام و نام خانوادگی:

نام دبستان:

تاریخ آزمون:

مدت آزمون:

ریاضی: (تا آخر فصل ۷)

نادرست	درست	الف) درستی یا نادرستی عبارتهای زیر را مشخص کنید.
<input type="checkbox"/>	<input type="checkbox"/>	۱- پنجاه درصد اعداد طبیعی یک رقمی، فرد هستند.
<input type="checkbox"/>	<input type="checkbox"/>	۲- وقتی ساعت سه و نیم است، زاویه‌ی بین دو عقربه ۹۰ درجه می باشد.
<input type="checkbox"/>	<input type="checkbox"/>	۳- اعدادی که هم بر ۳ و هم بر ۵ بخش پذیر باشند حتماً بر ۱۵ نیز بخش پذیرند.
<input type="checkbox"/>	<input type="checkbox"/>	۴- فاصله‌ی نقطه تا خط برابر با طول پاره‌خطی است که نقطه را به خط وصل می کند.

ب) گزینه‌ی مناسب را انتخاب کنید.

۵- یک هکتار برابر است با مساحت مربعی که اندازه‌ی هر ضلع آن چند متر باشد؟

- ۱۰ متر     
  ۱۰۰ متر     
  ۱۰۰۰ متر     
  ۱۰۰۰۰ متر

۶- عدد کدام گزینه را اگر با تقریب کمتر از  $\frac{1}{10}$  بنویسیم، قطع شده یا گرد شده‌ی آن باهم تفاوتی ندارد؟

- $\frac{3}{284}$      
   $\frac{12}{653}$      
   $\frac{21}{539}$      
   $\frac{75}{92}$

۷- کسر  $\frac{5}{9}$  را به روش گرد کردن و با تقریب کمتر از  $\frac{1}{10}$  به شکل کدام عدد اعشاری می نویسیم؟

- $0.5$      
   $0.6$      
   $0.55$      
   $0.56$

۸- سکه‌ای را ۹ بار پرتاب کرده‌ایم و هر دفعه پشت سکه آمده است احتمال این که دفعه‌ی دهم روی سکه

بیاید کدام است؟

- ۱ به ۲     
  ۱۰ به ۱     
  ۱۰ به ۱۰     
  ۱۰ به ۹

پ) جاهای خالی را با عدد یا عبارت مناسب پر کنید.

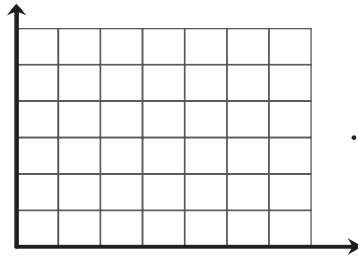
۹- تفاضل متمم و مکمل هر زاویه‌ای همواره ..... درجه است.

۱۰- « $\frac{2}{0.04}$  متر مربع» برابر با ..... سانتی متر مربع می باشد.

۱۱- کوچک ترین عدد فرد پنج رقمی که بر ۳ بخش پذیر باشد، عدد ..... است.

۱۲- اگر قرینه نقطه‌ای به مختصات  $\begin{bmatrix} 2 \\ 3 \end{bmatrix}$  را نسبت به مرکز تقارن به مختصات  $\begin{bmatrix} 3 \\ 2 \end{bmatrix}$  رسم کنیم، مختصات

قرینه  $\begin{bmatrix} \quad \\ \quad \end{bmatrix}$  خواهد بود.



۱۳- روی صفحه‌ی مختصات مقابل مثلثی رسم کنید که:

الف) مختصات دو رأس آن  $\begin{bmatrix} 1 \\ 5 \end{bmatrix}$  و  $\begin{bmatrix} 4 \\ 2 \end{bmatrix}$  بوده و مساحتش  $4\frac{1}{2}$  واحد مربع باشد.

ب) نام این مثلث را بنویسید.

پ) مثلث را دو واحد به سمت راست و ۱ واحد به سمت پایین انتقال داده و مختصات محل جدید مثلث را بنویسید.

ت) مساحت قسمت مشترک بین دو مثلث چند واحد مربع است؟

۱۴- یک لوله را مطابق شکل داخل یک جعبه قرار داده‌ایم.

و محاسبه کنید که تقریباً چه مقدار از فضای این جعبه خالی است؟

( عدد پی را ۳ در نظر بگیرید )



۱۵- اعداد جدول را تقریب بنویسید.

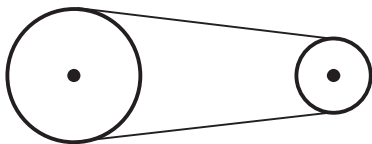
عدد	قطع کردن	گرد کردن
$617/3$		
$7/254$		

→ با تقریب کمتر از ۱۰

→ با تقریب کمتر از ۰/۱

۱۶- محیط چرخ بزرگ  $3/6$  متر و محیط چرخ کوچک  $0/72$  متر است. اگر چرخ کوچک در هر ۳ دقیقه

۶۰ دور بزند چرخ بزرگ در ۱ دقیقه چند دور خواهد زد؟



۱۷- نسبت طول به عرض مستطیلی ۴ می باشد. اگر محیط این مستطیل ۶۰ سانتی‌متر باشد، مساحت این

مستطیل چند سانتی‌متر مربع خواهد بود؟



خیلی خوب    خوب    قابل قبول    نیاز به تلاش بیشتر

توضیحات آموزگار: .....

# ارزشیابی بهمن ماه

## پایه ششم

تاریخ آزمون:

مدت آزمون:

نام و نام خانوادگی:

نام دبستان:

فارسی: (تا آخر درس ۱۲)

درست نادرست

<input type="checkbox"/>	<input type="checkbox"/>
<input type="checkbox"/>	<input type="checkbox"/>
<input type="checkbox"/>	<input type="checkbox"/>
<input type="checkbox"/>	<input type="checkbox"/>

الف) درستی یا نادرستی عبارتهای زیر را مشخص کنید.

- ۱- بوعلی سینا از شاگردان بهمنیار بود.
- ۲- «همی طلب» به معنی «بطلب» می باشد.
- ۳- «آب در هاون کوییدن» به معنی کار بیهوده کردن است.
- ۴- یکی از کتاب های با ارزش مولانا جلال الدین «مثنوی معنوی» می باشد.

ب) گزینه ی مناسب را انتخاب کنید.

۵- شعر «شیر خدا» از سروده های کدام یک از افراد زیر می باشد؟

- مصطفی علی پور       شهریار       ایرج میرزا       نادر ابراهیمی

۶- کدام قالب های شعری شباهت بیشتری با یکدیگر دارند؟

- غزل و رباعی       قصیده و غزل       مثنوی و قصیده       رباعی و مثنوی

۷- در جمله، برای جدا کردن اسم های اشخاص از کدام علامت نگارشی استفاده می کنیم؟

- ویرگول       نقطه ویرگول       نقطه       هیچکدام

۸- اگر کلمه ای کدام نشانه ی زیر را داشته باشد به آن «منادا» می گوئیم؟

- ای       ا       یا       همه ی موارد

پ) جاهای خالی را با عبارتهای مناسب پر کنید.

- ۹- رستم در خان ..... با دیو سپید به جنگ می پردازد.
- ۱۰- «خیز و غنیمت شمار» یک جمله ی ..... می باشد.
- ۱۱- در عبارت «زخم کاری» واژه ی «کاری» به معنی ..... می باشد.
- ۱۲- در زبان فارسی معمولاً «فعل» در ..... جمله و «نهاد» در ..... جمله می آید.



ت) پاسخ دهید.

۱۳- در جمله های زیر شکل درست واژه های داخل کمانک را انتخاب کنید و بنویسید.

- مشورت کردن در کارها از ( غوی رایبی / قوی رایبی / قوی رعیی ) باشد.

- چهل سال برای ( تألیف / تعلیف / طعلیف ) این کتاب کوشش کرد.

- آن ( تهی مفز / تهی مغز / تهی مغذ ) را چه علم و خبر.

۱۴- مصراع دوم بیت زیر را نوشته و سپس مفهوم این بیت را بنویسید.

فجر تا سینه ی آفاق، شکافت  
.....

۱۵- با توجه به کاربرد امروزی فعل ها، جمله های زیر را بازنویسی کنید.

هیچ کار بی خرد نتوان کرد ←

دوستان کهن را برجای همی دار ←

۱۶- فهم خود از ضرب المثل «هر که بامش بیش، برفش بیشتر» را در یک بند بنویسید.

۱۷- جدول را کامل کنید.

جمله	نهاد	گزاره	فعل
بهمنیار با چشمان نیمه باز خود نگاهی کرد			
محمد و پدرش بهاء الدین به نیشابور نرسیده بودند			
	آن ها		رفته بودند



خیلی خوب  خوب  قابل قبول  نیاز به تلاش بیشتر

توضیحات آموزگار: .....

# ارزشیابی اردیبهشت ماه ( نوبت دوم )

## پایه ی ششم

نام و نام خانوادگی:

نام دبستان:

تاریخ آزمون:

مدت آزمون:

فارسی

درست نادرست

<input type="checkbox"/>	<input type="checkbox"/>
<input type="checkbox"/>	<input type="checkbox"/>
<input type="checkbox"/>	<input type="checkbox"/>
<input type="checkbox"/>	<input type="checkbox"/>

الف) درستی یا نادرستی عبارتهای زیر را مشخص کنید.

- ۱- دو واژه ی «جرم و جنایت» هم خانواده هستند.
- ۲- در گذشته گاهی از کلمه ی «را» در معنای «به» استفاده شده است.
- ۳- برای جمع بستن تمام کلمه های فارسی می توانیم از «ان» استفاده کنیم.
- ۴- به کلمه ای که در آخر هر دو مصراع، عیناً تکرار می شوند ردیف گفته می شود.

ب) گزینه ی مناسب را انتخاب کنید.

۵- املاى کدام کلمه با توجه به معنی، صحیح نمی باشد؟

- لایق: سزاوار     
  مقرّب: نزدیک شده     
  ذوال: نیستی     
  اعتدال: میانه روی

۶- شعر «میوه ی هنر» از سروده های کدام یک از شاعران زیر می باشد؟

- پروین اعتصامی     
  نظامی     
  استاد شهریار     
  ابوالقاسم حالت

۷- در کدام یک از گزینه های زیر به ترتیب مترادف دو کلمه ی (الف - تیمار) نوشته شده است؟

- نوعی گیاه - غمخواری     
  همدمی - بیمار     
  تلف شدن - نوعی مار     
  دوستی - پرستاری

۸- رابطه ی دو واژه ی «سهل و آسان» مانند رابطه ی دو کلمه ی کدام یک از گزینه ها نیست؟

- ضد و نقیض     
  ازل و ابد     
  صبر و تحمل     
  بحث و مجادله

پ) جاهای خالی را با عبارتهای مناسب پُر کنید.

- ۹- به قسمتی از جمله که درباره ی آن خبر می دهیم ..... گفته می شود.
- ۱۰- دو واژه ی ..... و ..... با کلمه ی «شورا» هم خانواده هستند.
- ۱۱- عبارت «خدایا افسوس که قدر نعمت هایت را ندانستم» دارای ..... جمله می باشد.
- ۱۲- در مصراع «سعدیا مرد نکونام نمیرد هرگز»، منادا ..... و حرف ندا ..... می باشد.

ت) پاسخ دهید.

۱۳- با استفاده از (ای - که - این - را - از) جاهای خالی را کامل کنید و سپس در هر  یکی از علائم (: « ! » ؟) را قرار دهید.

..... مرد گفت  ..... حکیم  ..... من چه رنج آمد تو ..... چنین تنگدل گشتی

۱۴- جمع مکسر هر یک از کلمه های زیر را بنویسید.

تصویر  اثر  علت  عالم

۱۵- در جاهای خالی واژه ی مناسب بنویسید تا ترکیب وصفی یا اضافی داشته باشیم.

ترکیب وصفی: مردم ..... ، پدر .....  
ترکیب اضافی: مردم ..... ، پدر .....

۱۶- عبارت زیر را به نثر امروزی بنویسید.

از دروغ گفتن دور باشید که دروغ زن، ارچه گواهی راست دهد، نپذیرند.

۱۷- «مناظره» چه نوع شیوه ای در نوشته یا شعر است؟

۱۸- هر یک از عبارت های ردیف اول را به یکی از کادریهای مناسب در ردیف دوم وصل کنید.

● غنچه لبخند زد ● آفرین ● پروردگارا ● دستش کج است ● صدبار مردم و زنده شدم

● کنایه ● مبالغه ● شخصیت بخشی ● منادا ● شبه جمله

خیلی خوب  خوب  قابل قبول  نیاز به تلاش بیشتر

توضیحات آموزگار: .....

# مشخصات کتاب

آزمون ماهیانه ۶

عنوان کتاب

ششم دبستان

گروه سنی

سید جواد تزرقی

مؤلف

رحلی

قطع کتاب

۸۰

تعداد صفحات