




مجموعه آزمون‌های مداد کاغذی و عملکردی پیشرفت تحصیلی

پایه پنجم دبستان

آزمون ماهیهانه



ارزشیابی مهر ماه

پایه پنجم

نام و نام خانوادگی:

نام دبستان:

تاریخ آزمون:

مدت آزمون:

هدیه های آسمان: (تا آخر درس ۳)

درست نادرست

الف) پاسخ مناسب را با علامت (✓) مشخص کنید.

۱- اولین سوره‌ی قرآن سوره بقره می‌باشد.

۲- حضرت مریم (س) خدمتگزار مسجدالحرام شدند.

۳- نجاشی پادشاه حبشه مسلمانان را به دلیل قرائت سوره‌ی مریم از دست کفار نجات دادند.

۴- در اذان و نماز «اشهد أن لا اله الا الله» یکتایی خداوند را نشان می‌دهد.

ب) گزینه‌ی مناسب را انتخاب کنید.

۱- قوی‌ترین حیوانات خشکی کدام یک از گزینه‌های زیر می‌باشد؟

مار مورچه موش فیل

۲- سوره‌ای به نام یکی از قسمت‌های نماز.

قیام سلام قنوت سجده

۳- عبارت «اجتنبوا کثیراً مِنَ الظَّنِّ» بیانگر کدام یک از موارد می‌باشد؟

پرهیزگاری و عبادت اندیشه‌ی نیک مهر و محبت رفتار زیبا

۴- نظم و هماهنگی بین موجودات، طبیعت و نشانه چیست؟

داشتن فقط یک خدا قدرت خدا اراده‌ی خدا همکاری خدا و کائنات

پ) جاهای خالی را با عبارت‌های مناسب کامل کنید.

۱- سوره‌ی تین به نام میوه نام گذاری شده است.

۲- امام علی (ع) می‌فرماید: مانند دریایی است که هیچ‌گاه خشک نمی‌شود.

۳- پیامبری که در گهواره سخن گفت می‌باشند.

۴- سوره‌ی نوزدهم قرآن سوره‌ی نام دارد.

ت) پاسخ کوتاه بدهید.

۱- شهرهایی که امام حسن عسگری در آن‌ها زندگی کردند را نام ببرید.

۲- در خطبه‌های نماز جمعه، چه موضوعاتی بیان می‌شود؟

۳- از نظر امام علی (ع) بهترین ماه و بهترین شب سال کدام اند؟

ث) پاسخ کامل دهید.

۱- چرا خلیفه‌ی عباسی از آزادی امام حسن عسگری (ع) و ارتباط او با مردم می‌ترسید؟

۲- سخن امام هادی (ع) درباره‌ی ناکامی در موفقیت و جبران آن، را بیان کنید.

۳- «مَنْ كُنْتُ مَوْلَاهُ فَهَذَا عَلِيٌّ مَوْلَاهُ» در چه روزی و به چه دلیلی عنوان شد؟

۴- نماز جمعه و نماز دورکعتی را مقایسه کنید.

در یک نماز دورکعتی	در نماز جمعه
۱-	۱-
۲-	۲-
۳-	۳-
۴-	۴-

موفق باشید

خیلی خوب خوب قابل قبول نیاز به تلاش بیشتر

توضیحات آموزگار:

.....

ارزشیابی اردیبهشت ماه

(نوبت دوم)

پایه پنجم

تاریخ آزمون:

مدت آزمون:

نام و نام خانوادگی:

نام دبستان:

فارسی: (تا آخر درس ۱۷)

درست نادرست

<input type="checkbox"/>	<input type="checkbox"/>
<input type="checkbox"/>	<input type="checkbox"/>
<input type="checkbox"/>	<input type="checkbox"/>
<input type="checkbox"/>	<input type="checkbox"/>

الف) پاسخ مناسب را با علامت (✓) مشخص کنید.

- ۱- آتش نشانان جزء افراد شجاع می باشند.
- ۲- بار سنگین، پشت مورچه را خمیده کرده است.
- ۳- «به راهی در، سلیمان دید موری» در این جمله ترکیب کلمات درست است.
- ۴- راه‌های دانش‌اندوزی و یادگیری، فقط خوب دیدن و نگاه کردن است.

ب) گزینه‌ی مناسب را انتخاب کنید.

۱- در کدام جمله غلط املائی وجود دارد؟

- تازه از بستر بیماری بر خواسته بود.
- گوسفندی را نذر کردم.
- کار را به من واگذار کن.
- گروه مؤثری داریم.

۲- حکایت « غلامی که از دریا می ترسید و او را به دریا انداختن » با کدام ضرب‌المثل ارتباط دارد؟

- سواره از پیاده خبر ندارد.
- زبان سرخ سرسبز می دهد بر باد.
- قدر عافیت کسی داند که به مصیبتی گرفتار آید.
- هر چه کنی به خود کنی.

۳- کدام گزینه از راه‌های یادگیری می باشد؟

- مطالعه و خوب گوش کردن.
- خوب گوش کردن و خوب دیدن.
- مطالعه و خوب دیدن.
- مطالعه

۴- کدام گزینه هم خانواده دفاع نیست؟

- مدافع
- دفع
- دفعات
- مدافعین

پ) جاهای خالی را با عبارت‌های مناسب کامل کنید.

- ۱- من فر... ت و آگاهی آن را ندارم که به حسین چیزی بیاموزم.
- ۲- ...یبب کمی اندیشید و ...یرت زده می کوشید پاسخی کودکانه به او بدهد.
- ۳- ...لام هرگز دریا ندیده بود و ...نت کشتی نیازموده بود.
- ۴- تلخی دارو و رنج جزا...ی ، سلامت آنها را ت...مین می کند.

ت) پاسخ کوتاه بدهید. (واژه‌های هر جمله را مرتب کنید و بنویسید)

۱- مکش بیهوده این بار گران را:

چنان بگرفته راه سعی در پیش:

بیازین ره به قصر پادشاهی:

ث) پاسخ کامل دهید.

۱- کلمات هم‌خانواده را پیدا کرده و هم‌رنگ کنید.

تجسم عاقل قناعت تدبیر اجسام عقل مدبر جسم معقول تدابیر قانع مجسم

۲- در جملات زیر (فعل، مفعول و فاعل) را مشخص کنید.

حسین کتاب‌های داستان را می‌خواند.

فاعل	مفعول	فعل

سارا آرزوی سفر به مشهد را در سر داشت.

فاعل	مفعول	فعل

۳- متن زیر را با «که»، «تا»، «و» و «اما» کامل کنید.

نَجّار پیری بود، می‌خواست بازنشسته شود. پسرش به او اصرار کرد، کارش

را ادامه دهد. مجسمه‌ای بزرگ به یادماندنی، برای میدان شهر، بسازند. نجار پیر

تصمیم گرفت آخرین کارش را به کمک پسرش، انجام دهد.

۴- با استفاده از جملات زیبا و احساسی از هم‌کلاسی هایتان خداحافظی کنید. (دو جمله)

موفق باشید

<input type="radio"/> خیلی خوب	<input type="radio"/> خوب	<input type="radio"/> قابل قبول	<input type="radio"/> نیاز به تلاش بیشتر
توضیحات آموزگار:			
.....			

ارزشیابی دی ماه (نوبت اول)

پایه پنجم

تاریخ آزمون:

مدت آزمون:

نام و نام خانوادگی:

نام دبستان:

اجتماعی: (تا آخر درس ۱۱)

درست نادرست

<input type="checkbox"/>	<input type="checkbox"/>
<input type="checkbox"/>	<input type="checkbox"/>
<input type="checkbox"/>	<input type="checkbox"/>
<input type="checkbox"/>	<input type="checkbox"/>

الف) پاسخ مناسب را با علامت (✓) مشخص کنید.

۱- بخش عمده‌ی صادرات و واردات از طریق بنادر به وسیله کشتی صورت می‌گیرد.

۲- بیشتر شهرهای ایران فرودگاه بین‌المللی دارند.

۳- رئیس قوه‌ی مقننه، رئیس‌جمهور است.

۴- اولین رهبر کشور ما آیت‌الله خامنه‌ای است.

ب) گزینه‌ی مناسب را انتخاب کنید.

۱- کدام یک جزء صادرات کشورمان می‌باشد؟

کاغذ دارو مس ماشین‌آلات

۲- روز جمهوری اسلامی در ایران نامیده می‌شود.

۱۲ فروردین ۱۳۵۷ ۱۲ بهمن ۱۳۵۷ ۱۱ فروردین ۱۳۵۸ ۱۲ فروردین ۱۳۵۸

۳- کم وسعت‌ترین همسایه ایران کدام کشور است؟

ترکیه ترکمنستان ارمنستان آذربایجان

۴- کدام یک از همسایگان ایران، نوروز را مانند ایرانیان جشن می‌گیرند؟

آذربایجان ترکیه ارمنستان عراق

پ) جاهای خالی را با عبارت‌های مناسب کامل کنید.

۱- نمایندگان مجلس شورای اسلامی هر سال یک‌بار، با رأی مردم انتخاب می‌شوند. (۴ سال ، ۸ سال)

۲- وظیفه‌ی قوه‌ی اجرای قانون و تأمین رفاه مردم و پیشرفت کشور است. (قوه‌ی مجریه ، قوه مقننه)

۳- مردم کشور ارمنستان پیرو دین هستند. (اسلام ، مسیح)

۴- پایتخت آذربایجان است. (ایروان ، باکو)

ت) پاسخ کوتاه بدهید.

۱- قوای سه گانه ایران را نام ببرید؟

۲- دو رود آذربایجان که به دریای خزر می ریزند؟

۳- بزرگ ترین دریاچه ی آب شیرین ارمنستان را نام ببرید؟

۴- دو مورد از صادرات عمده ی ایران به دیگر کشورها را نام ببرید؟

ث) پاسخ کامل دهید.

۱- یک مورد از مزایا و معایب وسایل حمل و نقل را بنویسید.

حمل و نقل هوایی		حمل و نقل آبی		حمل و نقل زمینی	
معایب	مزایا	معایب	مزایا	معایب	مزایا

۲- بر اساس قانون اساسی، رهبر در جمهوری اسلامی باید چگونه فردی باشد؟

۳- وظیفه ی قوه قضاییه را به طور کامل توضیح دهید.

۴- وظایف حکومت را به طور کامل بنویسید.

موفق باشید

خیلی خوب خوب قابل قبول نیاز به تلاش بیشتر

توضیحات آموزگار:

.....

ارزشیابی بهمن ماه

پایه پنجم

نام و نام خانوادگی:

نام دبستان:

تاریخ آزمون:

مدت آزمون:

علوم: (تا آخر درس ۸)

درست نادرست

<input type="checkbox"/>	<input type="checkbox"/>
<input type="checkbox"/>	<input type="checkbox"/>
<input type="checkbox"/>	<input type="checkbox"/>
<input type="checkbox"/>	<input type="checkbox"/>

الف) پاسخ مناسب را با علامت (✓) مشخص کنید.

- ۱- مزه‌ی غذا توسط برجستگی‌های زبان مشخص می‌شود.
- ۲- ماهیچه‌ی پلک انسان یک ماهیچه‌ی ارادی است.
- ۳- غضروف به راحتی حرکت مفصل کمک می‌کند.
- ۴- نخاع بخشی از مغز است که در ستون مهره‌ها قرار دارد.

ب) گزینه‌ی مناسب را انتخاب کنید.

- ۱- پیام شنیدن صدا، چگونه به مغز می‌رسد؟
 توسط حلزونی توسط پرده گوش توسط رشته‌های عصبی توسط مجرای شنوایی
- ۲- ماهیچه‌ای که به جویدن غذا در دهان و مخلوط شدن آن با بزاق کمک می‌کند کدام یک از گزینه‌های زیر است؟

ماهیچه‌ی فک ماهیچه‌ی صورت زبان ماهیچه‌های دهان

۳- کدام گزینه با بقیه متفاوت است؟

فرغون فندق شکن در بازکن پنس

۴- تصویر مقابل شبیه کدام یک از وسایل زیر است؟

یخ گیر فندق شکن انبردست فرغون



پ) جاهای خالی را با عبارتهای مناسب کامل کنید.

- ۱- در بازی الاکلنگ دو نفر که یکی سنگین تر است، نزدیک شدن فرد سنگین به به راحتی بازی آن‌ها کمک می‌کند.
- ۲- سلول‌های نور را دریافت می‌کند و از طریق عصب بینایی به مغز می‌فرستند.
- ۳- افراد نابینا با استفاده از حس کتاب می‌خوانند.
- ۴- برای این که جسمی را ببینیم باید نور از بگذرد.

ارزشیابی مهر ماه

پایه پنجم

نام و نام خانوادگی:

نام دبستان:

تاریخ آزمون:

مدت آزمون:

ریاضی: (فصل اول)

درست نادرست

الف) پاسخ مناسب را با علامت (✓) مشخص کنید.

۱- ارزش مکانی کوچک ترین رقم در عدد ۸۳۴۹۵۹۲۱۹ دهگان میلیون است.

۲- ۳۶ دقیقه برابر با ۶ ساعت است.

۳- به رابطه‌ی بین عددهای یک مجموعه الگوی عددی می‌گویند.

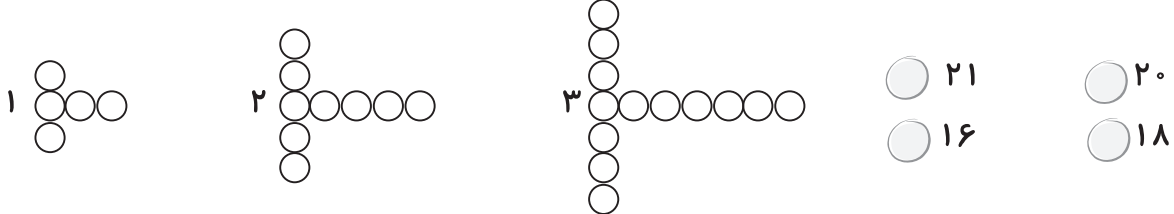
۴- شش صد میلیارد و شصت میلیون و شش ← ۶۰۰۰۰۰۶۰۶۰۰۰۰

ب) گزینه‌ی مناسب را انتخاب کنید.

۱- کدام نامساوی درست است؟

- $۹۰۰۰۰۵۰۰۰۰۰ <$ نه میلیارد و پانصد هزار
 $۱۰۵۰۰۰۰۱۰۰ <$ یک صد و پنج میلیون و صد
 $۶۲۰۰۰۰۰۰۰۰۸۰ >$ شصت و دو میلیارد و هشتاد
 $۴۷۰۰۰۰۰۰۰۰۰۰۳ <$ چهل و هفت میلیارد و سه

۲- با توجه به الگوی زیر، شکل پنجم از چند دایره تشکیل می‌شود؟



۳- اتومبیلی در ساعت $۳۷':۲۵":۹$ به طرف بندر انزلی حرکت کرد و پس از $۵۸":۲۹':۵$ به مقصد رسید. چه ساعتی به آنجا رسیده است؟

- $۱۳':۵۴":۳۵$
 $۱۴':۵۵":۳۵$
 $۱۳':۵۵":۳۵$
 $۱۴':۵۴":۳۵$
 ۴- $۲۵":۱۷':۱$ برابر با چند ثانیه است؟
 ۴۶۰۰ ثانیه
 ۴۰۴۵ ثانیه
 ۴۶۴۵ ثانیه
 ۱۰۴۵ ثانیه

پ) جاهای خالی را با عبارتهای مناسب کامل کنید.

۱- در عدد ۱۲۴۳۵۰۰۷۶۲۱ طبقه‌ی میلیارد آن است.

۲- در الگوی هر عدد جدید از حاصل ضرب عدد شماره‌ی شکل ضرب در خودش به دست می‌آید.

۳- $\frac{۲}{۳}$ ساعت برابر است با دقیقه.

۴- ۳۵ دقیقه قبل از ساعت $۱۵':۴$ می‌شود.

ت) پاسخ بدهید.

۱- با توجه به عدد ۶۰۱۳۴۹۱۷۰۰۰ به سوالات پاسخ دهید.

الف) چه رقم‌هایی در مرتبه‌ی میلیارد قرار دارد؟ (ب) عدد ۹ در چه مرتبه‌ای قرار دارد؟

۲- حاصل جمع و تفریق‌های زیر را به دست آورید.

$$\begin{array}{r} 6:15:39 \\ + 2:35:52 \\ \hline \end{array}$$

$$\begin{array}{r} 8:34:41 \\ - 2:47:55 \\ \hline \end{array}$$

۳- با توجه به الگوی شکل زیر مشخص کنید شکل پانزدهم چند دایره می‌تواند داشته باشد؟



۴- هواپیمایی ساعت ۵۵:۱۰ صبح از تهران به مقصد اصفهان حرکت کرد، اگر طول زمان پرواز ۱۰' باشد،

این هواپیما چه ساعتی به اصفهان می‌رسد؟

۵- قیمت فروش یک اتومبیل در سال ۱۳۹۴ توسط یک شرکت خودروسازی ۳۸ میلیون و پانصد هزار تومان

اعلام شده است. اگر شرکتی بخواهد ۱۵ تا از این اتومبیل‌ها را بفروشند، چه قدر دریافت می‌شود؟

۶- دانش‌آموزان مدرسه‌ی امید برای اردوی علمی به یکی از مناطق دیدنی کشوری روند. اگر آن‌ها ساعت

یک ربع به شش صبح حرکت کرده باشند و در دو و نیم بعد از ظهر به مقصد رسیده باشند. چه مدت زمانی

را در راه بوده‌اند؟

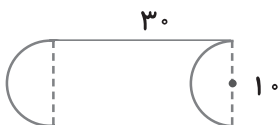
موفق باشید

خیلی خوب خوب قابل قبول نیاز به تلاش بیشتر

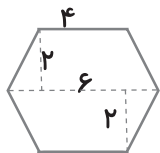
توضیحات آموزگار:

.....

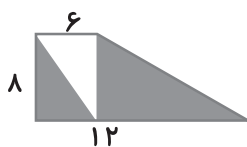
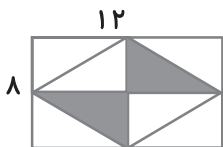
۲- محیط شکل رو به رو را به دست آورید.



۳- مساحت شکل رو به رو را به دست آورید.



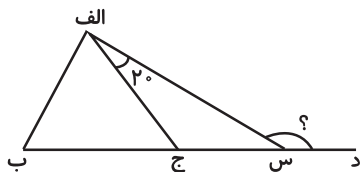
۴- مساحت قسمت رنگ شده را در هر شکل به دست آورید؟



۵- محیط شکل های زیر را به دست آورید.



۶- در شکل زیر مثلث « الف ب ج » متساوی الاضلاع است. با این توضیح اندازه‌ی زاویه « الف س د » چند درجه است.



۷- حاصل عبارت‌های زیر را به دست آورید.

$$5/298 + 13/2 + 4/002 =$$

$$4/8 + 3/025 =$$

$$9 - 3 \frac{4}{7} =$$

موفق باشید

خیلی خوب خوب قابل قبول نیاز به تلاش بیشتر

توضیحات آموزگار:

.....

مشخصات کتاب

آزمون ماهیانه ۵

عنوان کتاب

پنجم دبستان

گروه سنی

معصومه شمس آبادی

مؤلف

رحلی

قطع کتاب

۸۰

تعداد صفحات