

هرگونه کپی برداری به صورت کلی یا جزئی از این محصول از لحاظ قانونی و شرعی ممنوع می باشد.



پایه سوم دبستان



درس آزمون ریاضی

مجموعه آزمون های مدادکاغذی
پیشرفت تحصیلی درس به درس

مدیرفروش: ۰۹۱۰۲۰۱۵۲۰۰

salampub.com

با اسکن QR کد محصولات جذاب این پایه را مشاهده کنید.



آزمون ریاضی پایه سوم

الگوسازی - معرفی عدد هزار

نام و نام خانوادگی: نام دبستان: کلاس: آموزگار:

درست نادرست

<input type="checkbox"/>	<input type="checkbox"/>
<input type="checkbox"/>	<input type="checkbox"/>
<input type="checkbox"/>	<input type="checkbox"/>

الف) پاسخ درست را با علامت (✓) مشخص کنید.

۱- با عددهای (۸ و ۳ و ۰) فقط می توان ۶ عدد سه رقمی بدون رقم های تکراری ساخت.

۲- عدد ۱۰۰۰ از ۹۹۰ بزرگتر است.

۳- ۱۰ بسته ی ۱۰۰ تایی با ۱۰۰ بسته ی ۱۰ تایی برابر است.

ب) گزینه صحیح را انتخاب کنید.

۴- عدد ۱۰۰۰ چند رقم دارد؟

الف) ۲ ب) ۳ ج) ۱ د) ۴

۵- ۲ دسته ی هزارتایی برابر است با

الف) ۲۰ تا هزارتایی ب) ۲۰۰ تا یکی ج) ۲۰ تا ۲۰ تایی د) ۱۰ تا ۱۰ تایی

۶- اگر علی هر روز بابت مزد کارش یک سکه ی ۵۰۰۰ ریالی و دو سکه ی ۱۰۰ ریالی دریافت کند. در پایان ۳ روز چه قدر مزد می گیرد؟

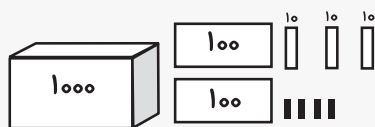
الف) ۱۵۳۰ ریال ب) ۱۶۳۰ ریال ج) ۱۵۶۰ ریال د) ۱۰۶۰ ریال

پ) جاهای خالی را با کلمه یا عبارت مناسب کامل کنید.

۷- بزرگترین عدد ۳ رقمی است.

۸- شکل رو به رو عدد را نشان می دهد.

۹- در الگوی ... و ۱۵۰۰ و ۱۰۰۰ و ۵۰۰ پنجمین عدد است.



ت) پاسخ کامل دهید.

۱۰- الگوهای عددی رو به رو را تا ۳ مرحله ادامه دهید.

..... و و و ۹۸۰ و ۹۷۰ و ۹۶۰

..... و و و ۷۵۰ و ۵۰۰ و ۲۵۰

..... و و و ۲۱۶۰ و ۲۱۸۰ و ۲۲۰۰

آزمون ریاضی پایه سوم

فصل پنجم

نام و نام خانوادگی: نام دبستان: کلاس: آموزگار:

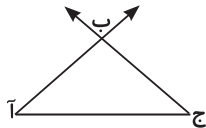
درست نادرست

<input type="checkbox"/>	<input type="checkbox"/>
<input type="checkbox"/>	<input type="checkbox"/>
<input type="checkbox"/>	<input type="checkbox"/>

الف) پاسخ درست را با علامت (✓) مشخص کنید.

- ۱- کف هر شکل را «محیط» آن شکل می گویند.
- ۲- عرض ضلع کوچک مستطیل است و به آن پهنا هم می گویند.
- ۳- به قسمتی از یک خط راست که دو سر آن بسته است خط راست می گویند.

ب) گزینه صحیح را انتخاب کنید.



۴- در شکل روبه‌رو چند نیم خط وجود دارد؟

- الف) ۳ () ب) ۵ () ج) ۲ () د) ۴ ()

۵- اگر محیط مربعی ۴ سانتی‌متر باشد مساحت آن چند سانتی‌متر مربع می‌شود؟

- الف) ۱ () ب) ۴ () ج) ۸۹ () د) ۱۶ ()

۶- کدام یک از شکل‌های زیر قطر ندارند؟

- الف) () ب) () ج) () د) ()

پ) جاهای خالی را با کلمه یا عبارت مناسب کامل کنید.

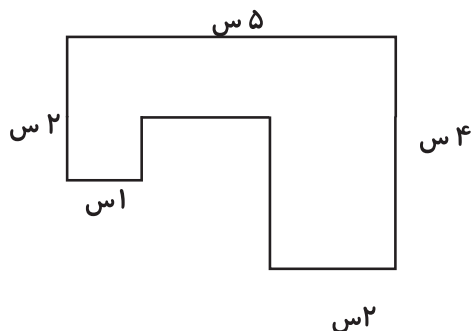
۷- به ۴ ضلعی که هم ضلع‌های آن برابرند و هم قطرهای با هم برابرند نام دارد.

۸- به اندازه‌ی سطح هر شکل آن شکل می گویند.



۹- (س ب) در شکل روبه‌رو نام دارد.

ت) پاسخ کامل دهید.



۱۰- محیط شکل روبه‌رو را به دست آورید.

هر گونه کپی برداری به صورت کلی یا جزئی از این محصول از لحاظ قانونی و شرعی ممنوع می باشد.



پایه سوم دبستان

درس نمونه فارسی

مجموعه آزمون های مادداکاغذی
پیشرفت تحصیلی درس به درس

مدیرفروش: ۰۹۱۰۲۰۱۵۲۰۰
salampub.com



با اسکن QR کد محصولات جذاب این پایه را مشاهده کنید.



ت) پاسخ کوتاه دهید.

۱۰ - هم معنی واژه های زیر را بنویسید.

افق = کبود = دل گشا = پهناور =

۱۱ - مخالف واژه های زیر را بنویسید.

رام \neq گرم \neq پیدا \neq روشن \neq

۱۲ - دوهم خانواده برای واژه های «موج» را بنویسید.

ث) پاسخ کامل دهید.

۱۳ - با کلمات زیر جمله بسازید.

ساحل =

آرام =

۱۴ - مفهوم عبارت «می برد لذت از نوازش آب / ساحل بی خیال خواب آلود» چیست؟

۱۵ - مفهوم عبارت «آب، آینه ای است پهناور / صورت آسمان، در آن پیداست» چیست؟

۱۶ - درباره ی «دریا» دو خط بنویسید.



خودسنجی



نیاز به تلاش بیشتر

قابل قبول

خوب

خیلی خوب

ارزشیابی معلم



آزمون فارسی پایه سوم

نوبت دوم



نام و نام خانوادگی: نام دبستان: کلاس: آموزگار:

- | درست | نادرست | |
|--------------------------|--------------------------|---|
| <input type="checkbox"/> | <input type="checkbox"/> | الف) پاسخ درست را با علامت (✓) مشخص کنید. |
| <input type="checkbox"/> | <input type="checkbox"/> | ۱- جمله‌ی «نشاط همه‌ی وجودم را فراگرفته بود» مربوط آینده است. |
| <input type="checkbox"/> | <input type="checkbox"/> | ۲- گام اول برای نوشتن یک بند انتخاب یک «موضوع مناسب» است. |
| <input type="checkbox"/> | <input type="checkbox"/> | ۳- شاعر شعر «بهاران» بیوک ملکی است. |
| <input type="checkbox"/> | <input type="checkbox"/> | ۴- گلستان و بوستان دو کتاب ارزشمند سعدی هستند. |

ب) گزینه صحیح را انتخاب کنید.

- ۵- کوتاه شده‌ی عبارت «سلام الله علیها» کدام گزینه است؟
- الف) (س) ب) (عج) ج) (ص) د) (ع)
- ۶- کدام کلمه از جمله‌ی «آن‌ها به استخر شنا رفتند» برداشته شود جمله بی معنی و ناقص می‌شود؟
- الف) استخر ب) شنا ج) آن‌ها د) رفتند
- ۷- کدام کلمه با سایر کلمات متفاوت است؟
- الف) تاکستان ب) دیبرستان ج) داستان د) گلستان
- ۸- در کدام گزینه غلط املائی وجود دارد؟
- الف) نعمت ب) نحراسیم ج) آغوش د) رونق

پ) جاهای خالی را با کلمه یا عبارت مناسب کامل کنید.

- ۹- به جمله‌ای که در ابتدای بند می‌آید، می‌گویند.
- ۱۰- فعالیت‌های گروهی در کلاس، نوعی رابطه است.
- ۱۱- شهید احمد کشوری از شهدای نیروی است.
- ۱۲-، یعنی جایی که پر از بیمار است.

هر گونه کپی برداری به صورت کلی یا جزئی از این محصول از لحاظ قانونی و شرعی ممنوع می باشد.



پایه سوم دبستان



درسهای آزمونهای علوم

مجموعه آزمون های مدادکاغذی
پیشرفت تحصیلی درس به درس

مدیرفروش: ۰۹۱۰۲۰۱۵۲۰۰

salampub.com



با اسکن QR کد محصولات جذاب این پایه را مشاهده کنید.



آزمون علوم پایه سوم

درس اول

نام و نام خانوادگی: نام دبستان: کلاس: آموزگار:

درست نادرست

الف) پاسخ درست را با علامت (✓) مشخص کنید.

۱- به مقدار فضایی که یک جسم استفاده می‌کند، جرم آن جسم می‌گویند.

۲- وقتی مقدار کمی از ماده نیاز داشته باشیم، آن را با «کیلو گرم» درخواست می‌کنیم.

۳- یک کیلو گرم پنبه فضای بیشتری را نسبت به یک کیلو گرم آهن اشغال می‌کند.

ب) گزینه صحیح را انتخاب کنید.

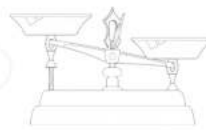
۴- کدام ترازو بیشتر در آشپزخانه‌ی خانه‌ها استفاده می‌شود؟



(د)



(ج)



(ب)



(الف)

۵- با ۵۰۰ گرم ذرت، پف فیل درست کرده ایم؛ در این حالت:

(ب) حجم ماده تغییر کرده است

(الف) جرم ماده تغییر کرده است

(د) جرم و حجم ماده تغییر نکرده است

(ج) جرم و حجم ماده تغییر کرده است

۶- جرم اجسام سبک را با مقیاس اندازه گیری می‌کنند؟

(د) گرم

(ج) سانتی متر

(ب) متر

(الف) کیلوگرم


پ) جاهای خالی را با کلمه یا عبارت مناسب کامل کنید.

۷- برای اندازه گیری حجم مایعات از واحدی به نام استفاده می‌کنیم.

۸- ساده ترین نوع ترازو که در قدیم بیشتر استفاده می شدند، ترازوهای هستند.

۹- با تغییر حالت یک ماده، تغییری نمی‌کند.

ت) پاسخ کوتاه دهید.



۱۰- دومورد از وسایل لازم برای ساخت آینه سه کاره را بنویسید؟

۱۱- هر چیزی که بتواند نور را به طور منظم بازتاب دهد مانند چه وسیله ای عمل می کند؟

۱۲- بازتابش نور را تعریف کنید.

ث) پاسخ کامل دهید.

۱۳- جدول زیر را کامل کنید.

ویژگی تصویر در آینه ساخت شده		
۱- آینه فرورفته	۲- آینه برآمده	۳- آینه تخت

۱۴- مراحل ساخت آینه سه کاره را شماره گذاری کنید.

- ورقه های اضافی را جدا کنید بادکنک را ببرید و در یک سرلوله پلاستیکی بپوشانید
- چند حلقه کش دور ورق آلومینیومی بزنید ورق آلومینیومی را بکشید و صاف کنید

۱۵- به موارد زیر پاسخ دهید.

الف) آینه بغل ماشین ها از کدام نوع آینه است؟

ب) برای دیدن اجسام چه چیزی لازم است؟

ج) دومورد از کاربردهای آینه تخت را بنویسید.

۱۶- تعریف کنید.

الف) منبع نور طبیعی:

ب) منبع نور مصنوعی:

خودسنجی	ارزشیابی معلم
<input type="radio"/> نیاز به تلاش بیشتر <input type="radio"/> قابل قبول <input type="radio"/> خوب <input type="radio"/> خیلی خوب	<input type="radio"/> غمگین <input type="radio"/> شاد

مشخصات کتاب

درس آزمون ۳- ریاضی

عنوان کتاب

پایه سوم

گروه سنی

محمد دامرودی

مؤلفان

رحلی

قطع کتاب

۷۲

تعداد صفحات

مشخصات کتاب

درس آزمون ۳- فارسی

عنوان کتاب

پایه سوم

گروه سنی

حسن حارث آبادی

مؤلفان

رحلی

قطع کتاب

۵۰

تعداد صفحات

مشخصات کتاب

درس آزمون ۳- علوم

عنوان کتاب

پایه سوم

گروه سنی

محمد حارث آبادی

مؤلفان

رحلی

قطع کتاب

۴۸

تعداد صفحات