



پایه ششم دبستان

درس آزمون و ریاضی



هر گونه کپی برداری به صورت کلی یا جزئی از این محصول از لحاظ قانونی و شرعی ممنوع می باشد.

مجموعه آزمون های مدادکاغذی
پیشرفت تحصیلی درس به درس

مدیرفروش: ۰۹۱۰۲۰۱۵۲۰۰

salampub.com



با اسکن QR کد محصولات جذاب این پایه را مشاهده کنید.

آزمون ریاضی پایه ششم

دوران

نام و نام خانوادگی: نام دبستان: کلاس: آموزگار:

درست نادرست

الف) پاسخ درست را با علامت (✓) مشخص کنید.

۱- دوران به معنی چرخش است.

۲- اگر شکل را حول یک نقطه 180° یا بیشتر در جهت عقربه‌های ساعت بچرخانیم و روی

خودش بیفتد شکل تقارن چرخشی دارد.



۳- اگر شکل روبرو را 180° درجه دوران دهیم، خودش می‌شود.

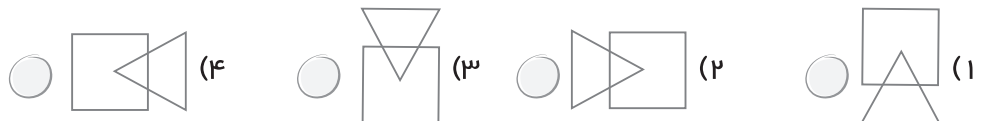
ب) گزینه صحیح را انتخاب کنید.



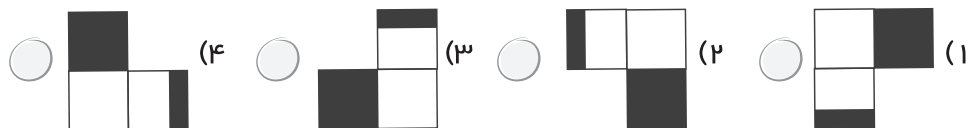

۴- اگر شکل روبرو را 270° در جهت عقربه‌های ساعت دوران دهیم. کدام گزینه صحیح است؟



۵- کدام گزینه نشان دهنده‌ی دوران شکل با زاویه 180° است.



۶- اگر شکل روبرو را 90° در خلاف جهت عقربه‌های ساعت بچرخانیم کدام شکل بدست می‌آید؟



پ) جاهای خالی را با کلمه یا عبارت مناسب کامل کنید.

۷- ساعتگرد یعنی شکل را عقربه‌های ساعت بچرخانیم.

۸- یعنی شکلی را برخلاف جهت عقربه‌های ساعت بچرخانیم.

۹- اگر شکل را 360° درجه دوران دهیم آن شکل کاملاً منطبق می‌شود.

آزمون ریاضی پایه ششم

مساحت دایره

نام و نام خانوادگی: نام دبستان: کلاس: آموزگار:

درست نادرست

<input type="checkbox"/>	<input type="checkbox"/>
<input type="checkbox"/>	<input type="checkbox"/>
<input type="checkbox"/>	<input type="checkbox"/>

الف) پاسخ درست را با علامت (✓) مشخص کنید.

۱- مساحت دایره برابر است با حاصل ضرب قطر در عدد پی.

۲- همواره اندازه قطر دایره، دو برابر شعاع است.

۳- مقدار عدد پی در تمام دایره‌ها ثابت نیست.

ب) گزینه صحیح را انتخاب کنید.

۴- اگر قطر دایره‌ای ۶۰ دسی‌متر باشد، ربع شعاع آن دایره کدام است؟

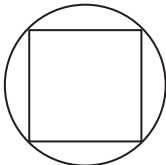
- (۱) ۷/۵ سانتی متر (۲) ۷۵ دسی متر (۳) ۷۵۰ میلی متر (۴) ۰/۰۷۵ متر

۵- نسبت محیط نیم دایره، به محیط دایره چقدر است؟

- (۱) $\frac{1}{2}$ (۲) کمتر از $\frac{1}{2}$ (۳) بیشتر از $\frac{1}{2}$ (۴) $\frac{2}{3}$

۶- اگر مساحت مربع شکل مقابل ۵۰ سانتی‌متر مربع باشد. محیط دایره کدام است؟ ($\pi \approx 3$)

- (۱) ۳۰ متر (۲) ۰/۳ متر (۳) ۲۱ متر (۴) ۰/۲۱ متر



پ) جاهای خالی را با کلمه یا عبارت مناسب کامل کنید.


۷- اگر شعاع دایره‌ای دو برابر شود، مساحت دایره می‌شود.

۸- مساحت دایره‌ای به قطر ۲۰ سانتی‌متر برابر است با متر مربع.

۹- اگر یک دایره و یک مربع محیط‌های برابر داشته باشند، آنگاه مساحت بیشتر است.

ث) پاسخ کامل دهید.

۱۰- برای ساختن استوانه روبرو چند سانتی‌متر مربع کاغذ لازم است؟





پایه ششم دبستان

درس آزمون و فارس



هر گونه کپی برداری به صورت کلی یا جزئی از این محصول از لحاظ قانونی و شرعی ممنوع می باشد.

مجموعه آزمون های مدادکاغذی
پیشرفت تحصیلی درس به درس

مدیرفروش: ۰۹۱۰۲۰۱۵۲۰۰

salampub.com



با اسکن QR کد محصولات جذاب این پایه را مشاهده کنید.

آزمون فارسی پایه ششم

درس چهارم

نام و نام خانوادگی: نام دبستان: کلاس: آموزگار:

درست نادرست

<input type="checkbox"/>	<input type="checkbox"/>
<input type="checkbox"/>	<input type="checkbox"/>
<input type="checkbox"/>	<input type="checkbox"/>
<input type="checkbox"/>	<input type="checkbox"/>

الف) پاسخ درست را با علامت (✓) مشخص کنید.

۱- داستان زندگی زبان پارسی پیش از آغاز تاریخ میهن، شروع شده است.

۲- فرزندان زبان فارسی، بزرگان علم و ادب هستند.

۳- واژه کتابخانه از نظر املائی غلط است.

۴- واژه ی داستان یک واژه ی جمع است.

ب) گزینه صحیح را انتخاب کنید.

۵- زبان فارسی دو چهره دارد. در کدام گزینه چهره های زبان پارسی به درستی گفته شده است؟

الف) علائم، خط ب) آوا، خط ج) تلفظ، آوا د) تلفظ، علائم

۶- مفرد واژه ی مژگان در کدام گزینه به درستی نوشته شده است؟

الف) مژه ب) مژ ج) مژگ د) این کلمه جمع نیست.

۷- کدام واژه از نظر جمع به صورت اشتباه است؟

الف) ستاره گان ب) دوستان ج) مردان د) ایرانیان

۸- زبان پارسی

الف) یک موجود غیر زنده است. ب) عامل اتحاد همه ملت ایران است.

ج) در طول تاریخ بدون تغییر باقی مانده است. د) از تاریخ ایران، قدیمی تر است.

پ) جاهای خالی را با کلمه یا عبارت مناسب کامل کنید.

۹- تلاش و کوشش شما تنها فرزند مهربان (باع.....) سربلندی و (عز.....) من می شود.

۱۰- در زبان فارسی، هر واژه، تلفظ، معنی و معمولاً یک شکل..... دارد.

۱۱- جمع واژه بیگانه، است.

۱۲- مفرد کلمه جانداران در زبان فارسی، می شود.

آزمون فارسی پایه ششم

درس پنجم

نام و نام خانوادگی: نام دبستان: کلاس: آموزگار:

درست نادرست

<input type="checkbox"/>	<input type="checkbox"/>
<input type="checkbox"/>	<input type="checkbox"/>
<input type="checkbox"/>	<input type="checkbox"/>
<input type="checkbox"/>	<input type="checkbox"/>

الف) پاسخ درست را با علامت (✓) مشخص کنید.

۱- رستم پهلوان ایران زمین، برای نبرد با دشمن از مازندران به زابلستان می رود.

۲- رستم در خان دوم، بیابانی سخت را پشت سر نهاد.

۳- رستم به کمک ارژنگ بر اولاد پیروز شد.

۴- رستم بعد از پایان هفت خان، استراحت می کند.

ب) گزینه صحیح را انتخاب کنید.

۵- در کدام گزینه از مبالغه استفاده شده است؟

الف) آب در هاون کوبیدن ب) شود کوه آهن چو دریای آب اگر بشنود نام افراسیاب

ج) فلانی آب از دستش نمی چکد د) زهر بد تویی بندگان را پناه

۶- وقتی نویسنده می خواهد در یک جمله به معنای دور اشاره کند از چه چیزی استفاده می کند؟

الف) تشخیص ب) کنایه ج) مبالغه د) تضاد

۷- وقتی به یک خانم می گوئیم مثل مرد، زحمت می کشد از چه آرایه‌ی ادبی استفاده می کنیم؟

الف) کنایه ب) مبالغه ج) تشبیه د) گزینه الف و ج درست است

۸- در خان چهارم.....

الف) رستم به جنگ دیو سپید می رود. ب) با موجودی حيله گر روبرو می شود.

ج) در بیابان اسیر می شود. د) با اولاد متحد می شود.

پ) جاهای خالی را با کلمه یا عبارت مناسب کامل کنید.

۹- منظور از آذر گشسب، است.

۱۰- نام اسب رستم که یار او در هفت خان بود، است.

۱۱- مترادف و هم معنی نبرد، است.

۱۲- املاي درست نام موجودی که در خان دوم خودش را پنهان می کرد، است.



پایه ششم دبستان

درس آزمون و علوم



هر گونه کپی برداری به صورت کلی یا جزئی از این محصول از لحاظ قانونی و شرعی ممنوع می باشد.

مجموعه آزمون های مدادکاغذی
پیشرفت تحصیلی درس به درس

مدیرفروش: ۰۹۱۰۲۰۱۵۲۰۰

salampub.com



با اسکن QR کد محصولات جذاب این پایه را مشاهده کنید.

ت) پاسخ کوتاه

۱۳- اسید چیست؟

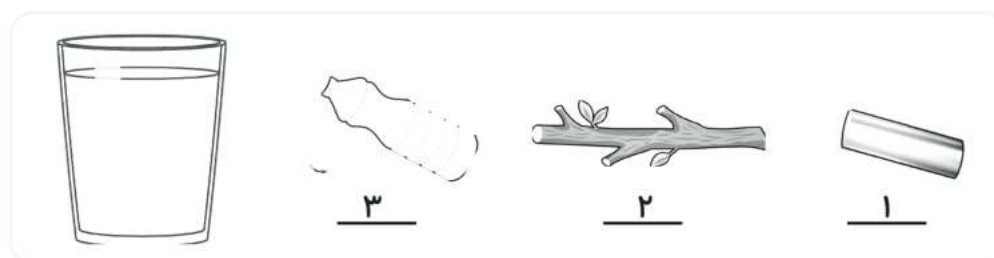
۱۴- سه ویژگی فلز را نام ببرید.

۱۵- کاغذ pH چه کاربردی دارد؟

۱۶- چرا در کارخانه های کاغذ سازی از آهن استفاده می شود؟ (دو دلیل)

ث) پاسخ کامل

۱۷- در یک آزمایش از یک قطعه آهن، چوب و مقداری روغن استفاده کردیم. سپس این سه ماده را در آب می ریزیم. محل قرار گرفتن این سه ماده را با شماره نشان دهید.



۱۸- با توجه به درس، دو روش را که به کمک آن می توان از نگاه زنگ زدن آهن جلوگیری کرد نام ببرید؟

۱۹- اگر شما یک طراح دوچرخه باشید برای ساخت بدنه ی دوچرخه از چه فلزی استفاده می کنید؟ (علتش را توضیح دهید).

۲۰- با توجه به درس بنویسید که چه راه هایی برای جلوگیری از آلودگی طبیعت به وسیله ی فلزها می توانید پیشنهاد بدهید؟

ارزشیابی معلم				
خودسنجی	نیاز به تلاش بیشتر	قابل قبول	خوب	خیلی خوب
 				

آزمون علوم پایه ششم

درس ششم

نام و نام خانوادگی: نام دبستان: کلاس: آموزگار:

درست نادرست

<input type="checkbox"/>	<input type="checkbox"/>
<input type="checkbox"/>	<input type="checkbox"/>
<input type="checkbox"/>	<input type="checkbox"/>
<input type="checkbox"/>	<input type="checkbox"/>

الف) پاسخ درست را با علامت (✓) مشخص کنید.

۱- ما هنگام باز کردن در اتاق نیرو وارد می کنیم اما در هنگام بستن نیازی به وارد کردن نیرو نیست.

۲- برای ظاهر شدن نیرو، فقط یک جسم کافی است هر چند وجود دو جسم هم باعث وارد شدن نیرو می شود.

۳- هنگامی که جهت نیروها مخالف است این احتمال وجود دارد که اثر نیروها خنثی شود.

۴- وقتی حرکت جسم تغییر می کند که به آن نیرو وارد شود.

ب) گزینه صحیح را انتخاب کنید.

۵- در کدام مورد نیرو به صورت هل دادن است.

الف) بستن پنجره

ب) بلند کردن کیسه زباله

ج) گذاشتن کتاب روی میز

د) کندن چسب زخم

۶- در مسابقه ی طناب کشی نیروها در چه جهتی وارد می شوند؟

الف) موافق هم ب) مخالف هم ج) موافق و مخالف هم د) هیچ کدام

۷- شوت کردن توپی که به سمت ما می آید سبب حرکت جسم می شود.

الف) شروع ب) تغییر جهت ج) توقف د) کند شدن

۸- شلیک گلوله از تفنگ نشان دهنده ی حرکت جسم است.

الف) توقف ب) تغییر جهت ج) کند شدن د) شروع

پ) جاهای خالی را با واژه یا عبارت مناسب کامل کنید.

۹- در بازی تنیس روی میز، اگر توپ پرتاب شده را با راکت پرت کنیم باعث می شویم که تغییر کند.

۱۰- ترمز گرفتن در هنگام دوچرخه سواری سبب حرکت جسم می شود.

۱۱- وقتی از تخته پاک کن استفاده می کنیم به تخته وارد می کنیم.

۱۲- هنگام بستن در کشوی میز نیرو را به صورت وارد می کنیم.

مشخصات کتاب

درس آزمون ۶-ریاضی

عنوان کتاب

ششم دبستان

گروه سنی

ابراهیم اکبری

مؤلفان

رحلی

قطع کتاب

۷۲

تعداد صفحات

مشخصات کتاب

عنوان کتاب درس آزمون ۶- فارسی

گروه سنی ششم دبستان

مؤلفان ایوب رضوانی

قطع کتاب رحلی

تعداد صفحات ۵۰

مشخصات کتاب

عنوان کتاب درس آزمون ۶- علوم

گروه سنی ششم دبستان

مؤلفان ایوب رضوانی

قطع کتاب رحلی

تعداد صفحات ۴۸