



پایه پنجم دبستان

درس آزمون ریاضی



هر گونه کپی برداری به صورت کلی یا جزئی از این محصول از لحاظ قانونی و شرعی ممنوع می باشد.

مجموعه آزمون های مدادکاغذی
پیشرفت تحصیلی درس به درس

مدیرفروش: ۰۹۱۰۲۰۱۵۲۰۰

salampub.com



با اسکن QR کد محصولات جذاب این پایه را مشاهده کنید.

آزمون ریاضی پایه پنجم

فصل دوم

نام و نام خانوادگی: نام دبستان: کلاس: آموزگار:

درست نادرست

<input type="checkbox"/>	<input type="checkbox"/>
<input type="checkbox"/>	<input type="checkbox"/>
<input type="checkbox"/>	<input type="checkbox"/>

الف) پاسخ درست را با علامت (✓) مشخص کنید.

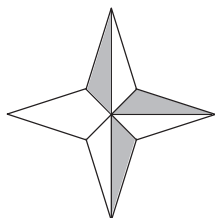
۱- نصف ثلث ۱۲۰ برابر با ۲۰ است.

۲- اگر ۳ کیک را بین ۷ نفر تقسیم کنیم به هر نفر $\frac{7}{3}$ کیک می‌رسد.

۳- مخارج مشترک مناسب برای جمع دو کسر $\frac{1}{3}$ و $\frac{5}{11}$ عدد ۱۲ می‌باشد.

ب) گزینه صحیح را انتخاب کنید.

۴- چه کسری از شکل رنگی نیست؟



(د) $\frac{8}{5}$

(ج) $\frac{5}{8}$

(ب) $\frac{8}{3}$

(الف) $\frac{3}{8}$

۵- در عدد ۱۰ چند تا $\frac{1}{4}$ داریم؟

(د) ۶

(ج) ۸

(ب) ۹

(الف) ۱۰

۶- محیط مربعی به ضلع $\frac{3}{11}$ برابر با کدام گزینه است؟

(د) $12\frac{6}{11}$

(ج) $13\frac{3}{11}$

(ب) ۱۳

(الف) $12\frac{3}{11}$

پ) جاهای خالی را با کلمه یا عبارت مناسب کامل کنید.

۷- کسری که صورت آن از مخارجش بزرگتر باشد، کسر نامیده می‌شود.

۸- به جای تقسیم یک کسر بر عدد ۷ می‌توانیم آن را در ضرب کنیم.

۹- معکوس کسر $\frac{3}{5}$ برابر است با

ت) پاسخ کامل دهید.

۱۰- حاصل عبارت‌ها را بدست آورید.

$$1\frac{3}{15} + 4\frac{2}{3} = \dots\dots\dots$$

$$6 - 4\frac{3}{8} = \dots\dots\dots$$

$$\frac{10}{12} \div \frac{2}{10} = \dots\dots\dots$$

$$\frac{18}{13} \times \frac{26}{36} = \dots\dots\dots$$

$$3\frac{1}{2} \times 1\frac{1}{4} = \dots\dots\dots$$

$$\frac{50 \times 81}{63 \times 25} = \dots\dots\dots$$

آزمون ریاضی پایه پنجم

تقارن مرکزی

نام و نام خانوادگی: نام دبستان: کلاس: آموزگار:

درست نادرست

<input type="checkbox"/>	<input type="checkbox"/>
<input type="checkbox"/>	<input type="checkbox"/>
<input type="checkbox"/>	<input type="checkbox"/>

الف) پاسخ درست را با علامت (✓) مشخص کنید.

۱- لوزی دارای تقارن مرکزی است.

۲- همواره مساحت یک شکل با مساحت قرینه‌اش برابر است.

۳- اگر شکلی تقارن محوری داشته باشد حتماً تقارن مرکزی هم دارد.

ب) گزینه صحیح را انتخاب کنید.



۴- قرینه شکل مقابل نسبت به نقطه مشخص شده کدام است؟



۵- کدام یک از شکل‌های زیر دارای مرکز تقارن است؟

الف) مثلث متساوی الاضلاع ب) دوزنقه ج) متوازی‌الاضلاع د) هیچ‌کدام

۶- کدام گزینه قرینه‌ی شکل مقابل نسبت به نقطه «م» را نشان می‌دهد؟



پ) جاهای خالی را با کلمه یا عبارت مناسب کامل کنید.

۷- هر شکل حداکثر مرکز تقارن دارد.

۸- شکل پنج ضلعی مرکز تقارن

۹- مرکز تقارن یک پاره‌خط آن را به قسمت مساوی تقسیم می‌کند.

ت) پاسخ کامل دهید.

۱۰- قرینه‌ی شکل‌ها را نسبت به نقطه‌ی داده شده رسم کنید.





پایه پنجم دبستان

درس آزمون فارسی



هر گونه کپی برداری به صورت کلی یا جزئی از این محصول از لحاظ قانونی و شرعی ممنوع می باشد.

مجموعه آزمون های مدادکاغذی
پیشرفت تحصیلی درس به درس

مدیرفروش: ۰۹۱۰۲۰۱۵۲۰۰

salampub.com



با اسکن QR کد محصولات جذاب این پایه را مشاهده کنید.

آزمون فارسی پایه پنجم

درس اول

نام و نام خانوادگی: نام دبستان: کلاس: آموزگار:

- الف) پاسخ درست را با علامت (✓) مشخص کنید.
- ۱- دیدن شگفتی‌های عالم و تأمل درباره آن‌ها راه مناسبی برای شناخت است. درست نادرست
- ۲- تاریکی شب، روشنایی روز و شب‌نم صبحگاهی همه از آفریده‌های ساکت خدا هستند. درست نادرست
- ۳- سبزه‌ها و علف‌ها به اندازه‌ای نرم و شکننده هستند که نمی‌توانند از میان سنگلاخ سر در بیاورند. درست نادرست
- ۴- ما همه رفتارها و کارهای خود را از روی عادت انجام می‌دهیم. درست نادرست

ب) گزینه صحیح را انتخاب کنید.

۵- کدام گزینه از آفریده‌های ساکت خداوند نمی‌باشند؟

- الف) شب‌نم ب) ابر ج) گیاهان د) چشمه‌ها

۶- مترادف کلمه‌های (بیم، کریم، مونس) به ترتیب در کدام گزینه آمده است؟

- الف) ناامیدی، بخشنده، یاور ب) ترس، یاور، دوست
- ج) ترس، بزرگوار، همدم د) ناامیدی، بخشنده، دوست

۷- در کدام گزینه رابطه بین واژه‌ها با بقیه فرق دارد؟

- الف) تاریکی - روشنایی ب) کهنه - نو ج) لطیف - لطافت د) سخت - آسان

۸- بیت زیر از چند جمله تشکیل شده است؟

«در زمین خشک، می‌روید گیاه / چشمه جوشد، آب می‌افتد به راه»

- الف) چهار جمله ب) سه جمله ج) دو جمله د) پنج جمله

پ) جاهای خالی را با کلمه یا عبارت مناسب کامل کنید.

۹- تک درخت نارون، / شاداب و قشنگ.

۱۰- یار شو ای مونس (غمخوارگان، بیچارگان)

۱۱- مترادف تأمل است.

۱۲- شعر «رقص باد، خنده‌ی گل» از است. (پروین دولت، حسین گل گلاب)

آزمون فارسی پایه پنجم

فصل اول

نام و نام خانوادگی: نام دبستان: کلاس: آموزگار:

الف) پاسخ درست را با علامت (✓) مشخص کنید.

درست نادرست

۱- یک راه ساده برای شناخت عالم این است که پدیده‌ها را خوب تماشا کنیم.

۲- بخشش و بزرگواری خداوند قابل شمارش است.

۳- هر شعر یا متنی ویژگی‌های دارد که باید لحن آهنگ صدای خود را با آن متناسب کنیم.

۴- در داستان «گل سرخ»، دیگر پروانه‌ها به زیبایی پروانه حسادت می‌کردند.

ب) گزینه صحیح را انتخاب کنید.

۵- کدام گزینه زیر از آفریده‌های ساکت خداوند نیست؟

الف) شبنم ب) تاریکی شب ج) چشمه د) آسمان آبی

۶- در عبارت «ابر آب داد بیخ درختان مرده را» (ببخ درختان) به چه معناست؟

الف) ساقه‌ی درختان ب) کنار درختان ج) ریشه‌ی درختان د) شاخه‌ی درختان

۷- در گروه کلمات زیر املای چند کلمه نادرست است؟

(صنگلخ - دره‌های عمیق - ماهی طلاب - قرور و خود بینی - سپاس گزار - اجزای خاک)

الف) ۲ ب) ۴ ج) ۵ د) ۳

۸- در کدام گزینه از آرایه‌ی جان‌بخشی استفاده شده است؟

الف) باد سرد آرام به صحرا گذشت ب) کرد دهقان دانه‌ها را زیر خاک
ج) شاخ برهنه پیرهن نوبهار کرد د) بحر آفرید و بر و درختان و آدمی

پ) جاهای خالی را با کلمه یا عبارت مناسب کامل کنید.

۹- از زمین خشک، / به راه

۱۰- برگ برگ گل به / از هم گسیخت

۱۱- مخالف کلمه‌ی گل است. (خوار، خار)

۱۲- فلل خدای را که تواند شمار کرد. (فضل، فضل، فزل)



پایه پنجم دبستان

درس‌های نمونه علوم



هر گونه کپی برداری به صورت کلی یا جزئی از این محصول از لحاظ قانونی و شرعی ممنوع می باشد.

مجموعه آزمون های مدادکاغذی
پیشرفت تحصیلی درس به درس

مدیرفروش: ۰۹۱۰۲۰۱۵۲۰۰

salampub.com



با اسکن QR کد محصولات جذاب این پایه را مشاهده کنید.

ت) پاسخ کوتاه دهید.

۱۳- دو ماهیچه ارادی و دو ماهیچه غیر ارادی را نام ببرید؟

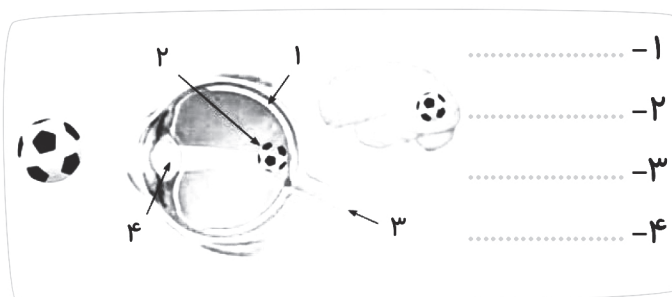
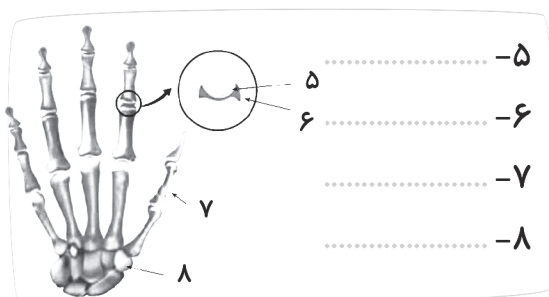
۱۴- دو مورد از راه های مراقبت از چشم را بنویسید؟

۱۵- مفصل چیست؟

۱۶- فایده ماده چرب درون گوش چیست؟

ث) پاسخ کامل دهید.

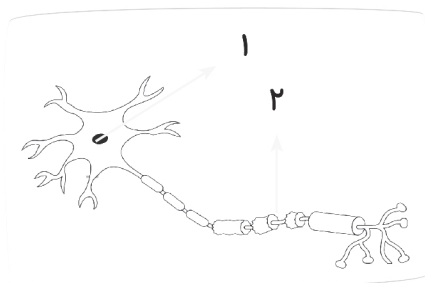
۱۷- نام قسمت های شماره گذاری شده در شکل ها را بنویسید؟



۱۸- عملکرد استخوان ساعد و ماهیچه های بازو را در خم و راست شدن دست توضیح دهید؟

۱۹- قسمت های مشخص شده در شکل را نام گذاری کنید و بنویسید.

کار سلول های عصبی چیست؟



..... ۲ ۱

۲۰- با توجه به آسیب پذیر بودن مغز و نخاع چه عاملی برای محافظت آنها وجود دارد؟

- دو راه مراقبت از استخوان را بنویسید.

خودسنجی	ارزشیابی معلم			
	نیاز به تلاش بیشتر	قابل قبول	خوب	خیلی خوب

آزمون علوم پایه پنجم

درس (۸ تا ۱۲) نیمسال دوم

نام و نام خانوادگی: نام دبستان: کلاس: آموزگار:

درست نادرست

<input type="checkbox"/>	<input type="checkbox"/>
<input type="checkbox"/>	<input type="checkbox"/>
<input type="checkbox"/>	<input type="checkbox"/>
<input type="checkbox"/>	<input type="checkbox"/>

الف) پاسخ درست را با علامت (✓) مشخص کنید.

- ۱- خاک‌هایی که رُس کمتری دارند آب بیشتری را در خود نگه می‌دارند.
- ۲- گُوه برای بریدن و قطعه قطعه کردن استفاده می‌شود.
- ۳- هرچه خاک تیره‌تر باشد، گیاهک بیشتری در خود دارد.
- ۴- در جراثیل برای بالا بردن اجسام از سطح شیب‌دار استفاده شده است.

ب) گزینه صحیح را انتخاب کنید.

۵- مهمترین عامل خرد شدن سنگ‌ها در مناطق بیابانی چیست؟

- الف) انجماد آب درون سنگ‌ها
- ب) تغییرات دمایی شب و روز
- ج) نفوذ ریشه ضخیم گیاهان
- د) باران‌های شدید
- ۶- کدام مورد از نظر قرارگیری محل تکیه‌گاه در جسم متفاوت عمل می‌کند؟



۷- قرقره ای که در پرچم استفاده می‌شود نوعی ماشین است.

- الف) ساده
- ب) پیچیده
- ج) آهرم
- د) موارد الف و ج

۸- کدام یک از عوامل زیر باعث کاهش فرسایش خاک یک منطقه می‌شود؟

- الف) کاهش پوشش گیاهی منطقه
- ب) ورزش زیاد باد در منطقه
- ج) وجود آب های جاری
- د) کاهش تعداد دام در منطقه

پ) جاهای خالی را با کلمه یا عبارت مناسب کامل کنید.

۹- برای تشکیل لایه خاک به قطر یک سانتی متر، زمان لازم است.

۱۰- دستگیره در واقع نوعی است.

۱۱- در آنبر قند تکیه‌گاه در قرار دارد.

۱۲- اولین قسمتی که بعد از جوانه زدن دانه، از آن خارج می‌شود، است.

مشخصات کتاب

عنوان کتاب درس آزمون ۵- ریاضی

گروه سنی پنجم دبستان

مؤلفان ابراهیم اکبری

قطع کتاب رحلی

تعداد صفحات ۷۲

مشخصات کتاب

درس آزمون ۵- فارسی

عنوان کتاب

پنجم دبستان

گروه سنی

محمد زارع گاچی

مؤلفان

رحلی

قطع کتاب

۴۸

تعداد صفحات

مشخصات کتاب

درس آزمون ۵- علوم

عنوان کتاب

پنجم دبستان

گروه سنی

محمد حارث آبادی

مؤلفان

رحلی

قطع کتاب

۴۸

تعداد صفحات