



پایه چهارم دبستان

# درس آزمون ریاضی



هرگونه کپی برداری به صورت کلی یا جزئی از این محصول از لحاظ قانونی و شرعی ممنوع می باشد.

مجموعه آزمون های مدادکاغذی  
پیشرفت تحصیلی درس به درس

مدیرفروش: ۰۹۱۰۲۰۱۵۲۰۰

salampub.com



با اسکن QR کد محصولات جذاب این پایه را مشاهده کنید.

# آزمون ریاضی پایه چهارم

## فصل سوم

نام و نام خانوادگی: ..... نام دبستان: ..... کلاس: ..... آموزگار: .....

درست نادرست

<input type="checkbox"/>	<input type="checkbox"/>
<input type="checkbox"/>	<input type="checkbox"/>
<input type="checkbox"/>	<input type="checkbox"/>

الف) پاسخ درست را با علامت (✓) مشخص کنید.

- ۱- اعدادی بر ۲ بخش پذیرند که رقم یکان آنها زوج باشد.
- ۲- اعدادی بر ۳ بخش پذیرند که رقم یکان آنها فرد باشد.
- ۳- در یک تقسیم اگر مقسوم علیه ۲ رقم و یا بیشتر باشد باقی مانده هیچ گاه صفر نمی شود.

ب) گزینه صحیح را انتخاب کنید.

۴- ۵۹۱۰ کیلوگرم به طور تقریبی برابر با چند تن است؟

- الف) ۵ تن       ب) ۶ تن       ج) ۷ تن       د) ۴ تن

۵- بهترین حاصل تقریبی  $۸۵ \times ۳۵$  کدام است؟

- الف)  $۹۰ \times ۴۰$        ب)  $۹۰ \times ۳۰$        ج)  $۸۰ \times ۳۰$        د)  $۸۵ \times ۴۰$

۶- زهرا ۵ جلد دفتر خرید. او ۹۰۰۰ تومان به فروشنده داد و ۲۵۰ تومان پس گرفت. قیمت هر جلد دفتر چقدر است؟

- الف) ۱۷۵۰ تومان       ب) ۱۸۰۰ تومان       ج) ۱۷۰۰ تومان       د) ۱۹۰۰ تومان

پ) جاهای خالی را با کلمه یا عبارت مناسب کامل کنید.

۷- حاصل تقریبی  $۳۲ + ۷۹ - ۴۱$  برابر با ..... است.

۸- بزرگ ترین عددی که در عبارت  $۷ \times \square > ۵ \times ۹$  به جای  $\square$  می توان نوشت عدد ..... است.

۹- در تقسیم باقی مانده باید از ..... کوچک تر باشد.

ث) پاسخ کامل دهید.

۱۰- ضرب و تقسیم های زیر را انجام دهید.

$$\begin{array}{r} ۹۴۶ \\ \times ۶۵ \\ \hline \end{array}$$

$$\begin{array}{r} ۲۵۰۰ \\ \times ۱۰۱ \\ \hline \end{array}$$

$$\begin{array}{r} ۴۷۱ \\ \times ۱۲ \\ \hline \end{array}$$

$$\begin{array}{r} ۳۵۲ \\ \times ۵۲۵ \\ \hline \end{array}$$

# آزمون ریاضی پایه چهارم

## مساحت متوازی الاضلاع و مثلث

نام و نام خانوادگی: ..... نام دبستان: ..... کلاس: ..... آموزگار: .....

درست نادرست

<input type="checkbox"/>	<input type="checkbox"/>
<input type="checkbox"/>	<input type="checkbox"/>
<input type="checkbox"/>	<input type="checkbox"/>

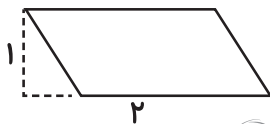
الف) پاسخ درست را با علامت (✓) مشخص کنید.

۱- ارتفاع پاره خطی است که از رأس به ضلع مقابل عمود شده است.

۲- هر متوازی الاضلاع از دو مثلث برابر تشکیل شده پس مساحت هر مثلث نصف متوازی الاضلاع است.

۳- در بعضی از شکل ها، ارتفاع در خارج از شکل رسم می شوند.

ب) گزینه صحیح را انتخاب کنید.



۴- در متوازی الاضلاع مقابل ضلع های (۱) و (۲) به ترتیب نشان دهنده چه اجزایی می باشد؟

الف) قاعده، ارتفاع، (ب) ارتفاع، قاعده (ج) طول، قاعده (د) قاعده، طول

۵- اگر ضلع مربعی برابر با قاعده مثلث و ضلع دیگر آن برابر با ارتفاع مثلث باشد، مساحت مربع و مثلث چه نسبتی با هم دارند؟

الف) مربع نصف مثلث (ب) مثلث نصف مربع (ج) مثلث دو برابر مربع (د) بستگی به نوع مثلث دارد

۶- محیط مربعی ۶۴ سانتی متر است، نصف مساحت این مربع چقدر است؟

الف) ۲۵۶ (ب) ۵۱۲ (ج) ۱۲۸ (د) ۶۴

پ) جاهای خالی را با کلمه یا عبارت مناسب کامل کنید.

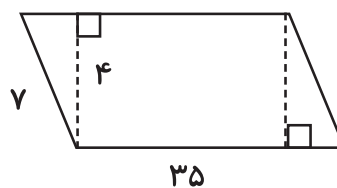
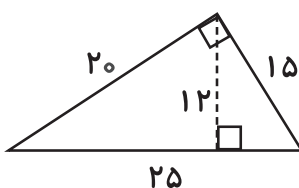
۷- ضلعی که ارتفاع به آن عمود می شود ..... نام دارد.

۸- متوازی الاضلاع چهار ضلعی است که ضلع های رو به رو با هم ..... و ..... هستند.

۹- در هر مثلث پاره خطی که از یک رأس بر ضلع مقابل عمود می شود ..... نام دارد.

ث) پاسخ کامل دهید.

۱۰- مساحت شکل های زیر را بدست آورید.







پایه چهارم دبستان

# درس آفون ع

## فارسی



هرگونه کپی برداری به صورت کلی یا جزئی از این محصول از لحاظ قانونی و شرعی ممنوع می باشد.

مجموعه آزمون های مداد کاغذی  
پیشرفت تحصیلی درس به درس

مدیر فروش: ۰۹۱۰۲۰۱۵۲۰۰

salampub.com



با اسکن QR کد محصولات جذاب این پایه را مشاهده کنید.

# آزمون فارسی پایه چهارم

## نوبت اول (۲)

نام و نام خانوادگی: ..... نام دبستان: ..... کلاس: ..... آموزگار: .....

الف) پاسخ درست را با علامت (✓) مشخص کنید.

درست نادرست

۱- گذشت زمان به درک معنی بعضی از مطالب کمک می کند.

۲- کلمات (سبز - کاج - گلخانه) همگی اسم هستند.

۳- معنی کلمه‌ی مشخص شده در شعر «سوختم بیچاره را زین گفت خام» سخن نسنجیده است.

۴- دو کلمه‌ی (خار - خوار) متشابه هستند.

ب) گزینه صحیح را انتخاب کنید.

۵- اگر کلمه‌های زیر را به ترتیب الفبا مرتب کنیم اولین کلمه کدام است؟

الف) فارسی  ب) دبستان  ج) پیروزی  د) تلاش

۶- کدام کلمه از ترکیب دو کلمه معنی دار درست شده است؟

الف) خوشبو  ب) هنرمند  ج) باغبان  د) کارگر

۷- جنب و جوش پرستوها در آغاز پاییز نشانه‌ی چیست؟

الف) شروع لانه‌سازی  ب) تخم‌گذاری  ج) زمان کوچ  د) سرد شدن هوا

۸- رابطه کلمه‌های کدام گزینه با دیگر گزینه‌ها فرق دارد؟

الف) نصیحت - پند  ب) کی - چه وقت  ج) تحمل - بی‌صبری  د) حرفه - شغل

پ) جاهای خالی را با کلمه یا عبارت مناسب کامل کنید.

۹- در جمله‌ی ادبی «اشک هایم چون بلم (قایق) آرام بر صورت خشک می رانند» ..... به ..... تشبیه شده است.

(اشک به قایق - قایق به اشک)

۱۰- لحن خواندن جمله (چه روز کسل کننده‌ای ..... می‌باشد. (تعجبی - پرسشی)

۱۱- کسی که به توانایی‌های خودش آگاهی دارد ..... می‌گویند. (خودبین - خودباور)

۱۲- بیت «برگ درختان سبز در نظر هوشیار / هر ورقش دفتری است معرفت کردگار» سروده ..... می‌باشد.

(سعدی - پروین دولت آبادی)

ت) پاسخ کوتاه دهید.

۱۳- واحد شمارش (شتر) و (هواپیما) را بنویسید؟

۱۴- سرمایه‌ای که هیچ وقت از بین نمی‌رود چیست؟

۱۵- مفرد کلمات را بنویسید؟

اطفال: .....

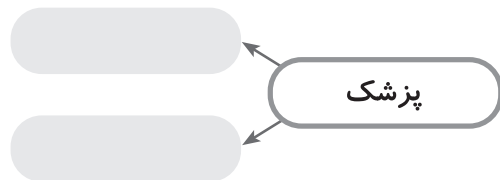
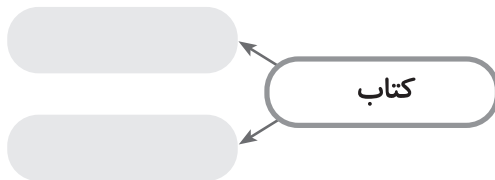
علوم: .....

افکار: .....

۱۶- با گرمی و ملایمت رفتار کردن یعنی چه؟

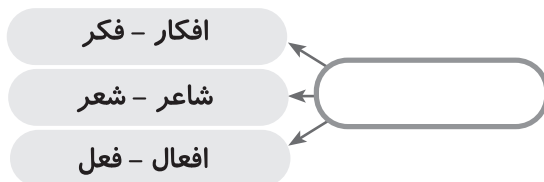
ت) پاسخ کامل دهید.

۱۷- چند صفت برای کلمات زیر بنویسید؟

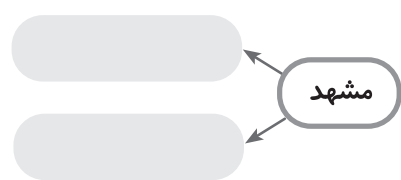
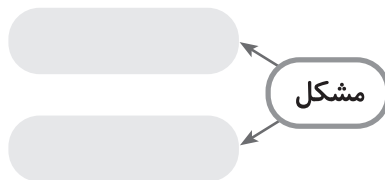
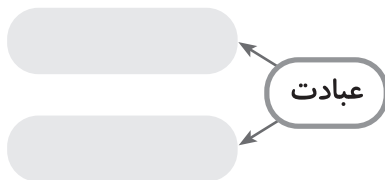


۱۸- یک جمله بنویسید که در آن آرایه‌های تشبیه و جان بخشی به اشیا وجود داشته باشد؟

۱۹- رابطه‌ی بین واژه‌های زیر را بنویسید؟



۲۰- برای کلمه‌های زیر دو هم خانواده بنویسید.



خودسنجی	ارزشیابی معلم			
	نیاز به تلاش بیشتر	قابل قبول	خوب	خیلی خوب







پایه چهارم دبستان

# درس آزمون علوم



هرگونه کپی برداری به صورت کلی یا جزئی از این محصول از لحاظ قانونی و شرعی ممنوع می باشد.

مجموعه آزمون های مواد کاغذی  
پیشرفت تحصیلی درس به درس

مدیرفروش: ۰۹۱۰۲۰۱۵۲۰۰

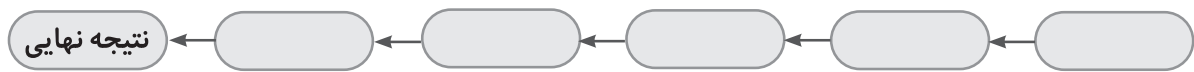
salampub.com



با اسکن QR کد محصولات جذاب این پایه را مشاهده کنید.

ت) پاسخ کوتاه دهید.

۱۳- مراحل یک تحقیق را به ترتیب بنویسید.



۱۴- مشاهده چیست؟

۱۵- پیش بینی کردن به چه چیزی اشاره دارد؟

۱۶- بهتر است برای آزمایش فرضیه‌ها، آزمایش را حداقل چند بار تکرار کنیم؟

ث) پاسخ کامل دهید.

۱۷- وقتی لباس‌های خیس را که جنس یکسانی دارند در آفتاب پهن می‌کنیم، لباس‌های سیاه زودتر خشک می‌شوند یا لباس‌های سفید؟ چرا؟

۱۸- با توجه به جمله سه فرضیه با پیش‌بینی بنویسید:

(هنگامی که در خانه بودیم ناگهان یک صدای بلند از خیابان به گوش رسید)

۱۹- به نظر شما با توجه به این درس یک چتر خوب چه ویژگی‌هایی باید داشته باشد؟

۲۰- سه سوال طراحی کنید که جوابش را نمی‌دانید. این سوال‌ها با چرا، چگونه و ..... شروع شود.

خودسنجی	ارزشیابی معلم			
	<input type="radio"/> نیاز به تلاش بیشتر	<input type="radio"/> قابل قبول	<input type="radio"/> خوب	<input type="radio"/> خیلی خوب



# آزمون علوم پایه چهارم

## درس سوم

نام و نام خانوادگی: ..... نام دبستان: ..... کلاس: ..... آموزگار: .....

درست نادرست

<input type="checkbox"/>	<input type="checkbox"/>
<input type="checkbox"/>	<input type="checkbox"/>
<input type="checkbox"/>	<input type="checkbox"/>
<input type="checkbox"/>	<input type="checkbox"/>

الف) پاسخ درست را با علامت (✓) مشخص کنید.

- ۱- برای همه‌ی کارها، انرژی زیادی لازم داریم.
- ۲- همه‌ی اجسامی که حرکت می‌کنند انرژی دارند.
- ۳- در پنکه انرژی الکتریکی تولید می‌شود.
- ۴- آب جاری مانند باد انرژی حرکتی دارد.

ب) گزینه صحیح را انتخاب کنید.

۵- در کدام تصویر علاوه بر انرژی حرکتی، انرژی گرمایی هم تولید می‌شود؟



۶- اگر یک نوار ماریچ مانند، را روی شومیز یا بخاری نگه داریم؛ انرژی ..... تولید می‌شود.

- الف: گرمایی  ب: حرکتی  ج: صوتی  د: نواری

۷- در کدام یک از موارد زیر انرژی حرکتی به برق تبدیل می‌شود؟

- الف: توربین‌های آبی  ب: توربین‌های بادی  ج: پنکه  د: گزینه الف و ب

۸- در اثر مالش کف دست‌ها به هم انرژی ..... تولید می‌شود.

- الف: گرمایی  ب: صوتی و نواری  ج: نواری  د: گزینه الف و ج

پ) جاهای خالی را با کلمه یا عبارت مناسب کامل کنید.

۹- گیاهان برای رشد به انرژی ..... نیاز دارند.

۱۰- بزرگ‌ترین منبع انرژی ..... است.

۱۱- وقتی صدای هواپیما شیشه‌ی پنجره‌ها را می‌لرزاند. یعنی انرژی صوتی به انرژی ..... تبدیل شده است.

۱۲- در ساعت دیواری انرژی ..... تولید می‌شود.

# مشخصات کتاب

درس آزمون ۴ - ریاضی

عنوان کتاب

پایه چهارم

گروه سنی

مجتبی هادیان

مؤلفان

رحلی

قطع کتاب

۷۴

تعداد صفحات

# مشخصات کتاب

درس آزمون ۴ - فارسی

عنوان کتاب

پایه چهارم

گروه سنی

مبینا ساعی نصر

مؤلفان

رحلی

قطع کتاب

۴۸

تعداد صفحات

# مشخصات کتاب

درس آزمون ۴ - علوم

**عنوان کتاب**

پایه چهارم

**گروه سنی**

ایوب رضوانی

**مؤلفان**

رحلی

**قطع کتاب**

۴۸

**تعداد صفحات**