

کتاب کار

مطالعات اجتماعی

پهار ۴ دبستان



مجموعه کتاب های آموزشی

مورد تایید

دفتر انتشارات و تکنولوژی آموزشی
وزارت آموزش و پرورش




فهیمة فیبی



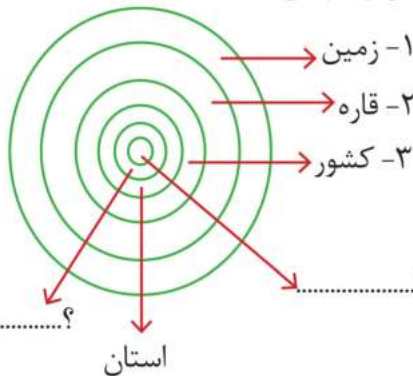
انتظارات یادگیری این درس پس از تدریس در کلاس. فراگیر:

- ۱- معنا و مفهوم محله را بیان کند.
- ۲- وظایف همسایگان را نسبت به هم فهرست و بیان کند.
- ۳- اهمیت و ضرورت وجود مقررات را در محله بشناسد و رعایت کند.
- ۴- با مشورت بزرگ ترها پیشنهادی برای داشتن محله‌ای بهتر ارائه کند.



فراگیر کوشا، با مطالعه‌ی درس اول در کتاب درسی خود با مفهوم محله و ویژگیهای آن آشنا شده‌ای؛ حالا با توجه به درک و دریافتی که از محتوای درس داشته‌ای فعالیت‌های تکلیلی زیر را انجام بده.

😊 جایگاه محله و شهر یا روستا را در نقشه‌ی مفهومی رو به رو مشخص کن و بنویس.



🌐 حالا در جاهای خالی با توجه به علامت، واژه‌های مناسب قرار بده

زمین < < < استان < < ؟
 استان
 ؟

🌐 یکی از شاخصه‌های محله این است که مردم آن در همسایگی هم زندگی می‌کنند. همسایه بودن چه فایده‌هایی

می‌تواند داشته باشد؟ (۳ مورد بنویس)

- ۱-
- ۲-
- ۳-

😊 آیا شما و همسایه‌های شما از نعمت همسایه بودن بهره‌مند شده‌اید؟ دلیل پاسخ خود را بنویس.*

.....

* همکار گرامی پاسخ این سؤال می‌تواند در کلاس فضای مناسبی را برای آموزش مهارت‌های زندگی فراهم نماید.



تصویری که می‌بینید آپارتمان مسکونی «ژاله» است.

زمان ساعت ۳ بعد از ظهر یک روز گرم تابستانی را نشان می‌دهد.
در هر واحد، تصویر کاری که نوشته شده را خیلی ساده طراحی کن.
سپس به سراغ انجام فعالیت‌های بعدی برو.

● اگر ساکن این ساختمان بودی چه مقرراتی را برای یک همسایه‌ی خوب وضع می‌کردی؟


قانون ۱:

قانون ۲:

قانون ۳:

- حالا برای هر قانون یک تابلو راهنمایی درست کن. مثل تابلوهای راهنمایی رانندگی که با دیدن هر تابلو، به مفهوم آن

می‌شود پی‌برد. بعد محل نصب آن‌ها را در آپارتمان «ژاله» مشخص کن.



- وقتی در این آپارتمان، مهمان‌های آقای سَرمَدی قصد برگشتن به خانه‌های خود را دارند کُل ساختمان از این اتفاق باخبر می‌شوند. می‌دانی چرا؟ بنویس. (احتمالاً برای شما هم پیش آمده است)

.....

.....





● پاسخ سوالات زیر را بنویس .

۱- منظور از امکانات عمومی چیست؟



۲- در یک محله چگونه گروهی از مردم نیازهای ساکنان آن محله را بر طرف می کنند؟



۳- خرید عاقلانه چگونه انجام می شود؟

۴- هر اصطلاح را به درستی تعریف کن.

الف: شغل های خدماتی :

ب: پس انداز :

پ: هزینه :

ت: در آمد :

ث: امکانات عمومی :

۵- امکانات عمومی با استفاده ی مناسب و صحیح سالم می ماند. ۳ مورد برای استفاده ی مناسب نام ببر.

الف:

ب:

پ:





انتظارات یادگیری این درس پس از تدریس در کلاس : فراگیر

۱- تصویر وسایلی را که در دسترس دارد از بالا بکشد .

۲- روی تصاویر ، مکان اجسامی را که بُعد دارند به نقشه ی همان صفحه مربوط کند .

۳- نقشه ی کلاس یا اتاق خود را از بالا ترسیم کند.

۴- با استفاده از راهنمای نقشه ، تصاویر نقشه را بیان کند.



در زیر ۲ تصویر از یک مکان مشاهده می کنی . شماره ۱ تصویر از روبه رو و شماره ۲ تصویر هوایی از بالا . در کدام یک از عکس ها می توانی یک گربه اضافه کنی که آن گربه در تصویر دیگر قابل دیدن نباشد؟



(۲)



(۱)

گربه را به کدام تصویر اضافه می کنی؟

یعنی گربه واقعاً در تصویر دیگر وجود ندارد؟

پس چرا دیده نمی شود؟

ارتش قدرتمند ایران عزیز برای نابودی سپاه دشمن که در لایه بوته ها و درخت های یک باغ مخفی شده اند باید جایگاه اصلی آن ها را پیدا کند تا بتواند با حمله ی دقیق ، آن ها را از بین ببرد. دو تصویر از منطقه در دسترس است . در تصویر شماره ۱ که از روبه رو گرفته شده است ۱۰ سرباز دشمن به چشم می خورد . اما در تصویر شماره ۲ که از بالا گرفته شده است تعداد سربازها به ۲۰ نفر می رسد . علت تفاوت را بنویس .

.....

.....

.....

انتظارات یادگیری این درس پس از تدریس در کلاس:

- ۱- فراگیر ویژگی های زندگی غارنشینی را بیان کند
- ۲- تفاوت انسان را با سایر حیوانات لیست کند.
- ۳- تفاوت ابزارهای زندگی گذشته و حال را بیان کند.
- ۴- چگونگی پیدایش نخستین روستاها را توضیح بدهد.



نقشه مفهومی زمان.

در نقشه ی زیر ، مسیر پیدایش نخستین روستاها در تونل زمان جا گرفته است . از شروع مسیر با تکمیل جاهای خالی به ترتیب رویداد زمانی ، به مقصد برس.



مجموعه کتاب های آموزشی امید مهر

ویژگی های روستا

.....

.....

.....





درس ۸ : نخستین روستاها چگونه بوجود آمدند؟

انسان از لحظه ی آفرینش ، با توجه به شرایط موجود در همان زمان، از زندگی بهره برده است . زندگی در هر مرحله نسبت به قبل پیشرفت داشته تا به زمان حال رسیده ایم . حال با توجه به تفاوت زندگی ها ، کارت واژه های مربوط به هر دوره را به خودش وصل کن . چنانچه کارت واژه ای مشترک بود می توانی به هر دو دوره وصل کنی .



پالتو

پوشاک

آتش

غذا

شکار

کف پوش

نیزه

کشاورزی

میوه ی درختان

مَسکن

شاخ و برگ درختان

تخم پرندگان

اهلی کردن

نقاشی روی دیوارها

گوشت حیوانات

انسان های امروز

انسان های زمان های دور

- در قسمت بالا بعضی از کارت واژه ها بین دو دوره ی زندگی مشترک بود. مثل : تخم پرندگان - اهلی کردن و

پرسان می گوید : دُرست است که بعضی کارها بین دو دوره مشترک است اما همین کارها هم با هم تفاوت دارند. حالا شما تفاوتِ بین چیزهای مشترک را بنویس.

مثال : میوه ی درختان ← در قدیم به عنوان غذا استفاده می شد و خبری از سُستن و ضدعفونی کردن نبود، اما امروزه به عنوان میوه ، تمیز و بهداشتی در ظرف های مختلف چیده می شود.



● فرهاد و خسرو فهمیده اند که بین حکومت ماد و هخامنشیان با حکومت سلوکیان تفاوتی وجود دارد. با مرور اطلاعات قبلی سعی کن تفاوت بین این حکومت ها را از بین گزینه های زیر انتخاب کنی و دلیل انتخاب خود را بنویسی.

فرهاد: ۱- حکومت ماد و هخامنشیان سربازان ضعیفی داشتند اما سلوکیان قوی بودند.

۲- حکومت ماد و هخامنشیان شاهان بی لیاقتی داشتند.

خسرو: ۱- حکومت ماد و هخامنشیان هر دو آریایی بودند.

دلیل انتخاب :

● **بیش تر بدانیم**

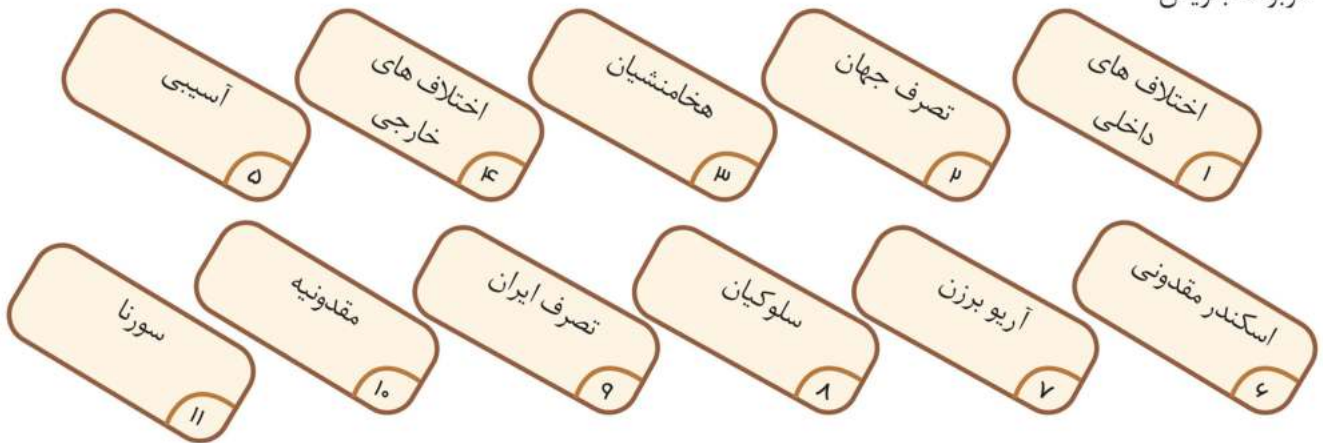


آریو برزن یکی از سرداران بزرگ تاریخ ایران است که در برابر حمله ی اسکندر به ایران دلیرانه از سرزمین خود پاسداری کرد و در این راه جان باخت. او با تعداد کمی سوار و پیاده، خود به سپاه عظیم دشمن زد و بسیاری از آنها را کشت تا خود را زودتر از یونانیان به تخت جمشید برساند و از آن دفاع کند اما سپاه دشمن راه را بر او بستند و او را کشتند.





● هر یک از کارت واژه‌ها کامل کننده‌ی عبارت‌های زیر هستند. شماره‌ی کارت واژه‌ی مناسب هر عبارت را در جای خالی مربوطه بنویس.



- گردشگران هنگام بازدید از آثار تاریخی باید مراقب باشند که به آن‌ها نزنند.
- بیش از ۲۰۰ سال بر ایران حکومت کردند.
- و بی‌لیاقتی شاهان، باعث ضعف هخامنشیان شد.
- حکومت هخامنشیان را از بین برد.
- آرزوی اسکندر بود.
- اسکندر پادشاه یونان و بود.
- فرمانده‌ی شجاع ایرانی در جنگ با سپاهیان اسکندر کشته شد.
- جانشیان اسکندر، حکومت را تشکیل دادند.

● به نقشه‌ی صفحه‌ی ۵۶ کتاب که در این قسمت نیز آورده شده با دقت نگاه کن. سپس به سؤالات پاسخ بده.



- مسیر لشکر کشی‌های اسکندر با توجه به راهنمای نقشه به شکل مشخص شده است. کدام شهرهای ایران در مسیر این لشکر کشی قرار گرفته است؟

- به راهنمای نقشه توجه کن. در مسیر این لشکر کشی چند شهر در طی مسیر توسط اسکندر و جانشینانش تأسیس شده است؟



● پاسخ درست را علامت بزَن.

۱- امام خمینی (ره) در پدرش را از دست داد.

- الف (شش ماهگی ب) شش سالگی پ) ۱۶ سالگی ت) ۳۶ سالگی

۲- تمام گزینه ها از مراسم عید نوروز است به جز گزینه ی

- الف) جشن گرفتن ب) سفر رفتن پ) عیدی دادن ت) دید و بازدید

۳- فقط در گزینه ی جشن های نوروزی مثل ایران برگزار می شود .

- الف) عراق ب) سوریه پ) جمهوری آذربایجان ت) ترکیه

۴- از نظر آیت الله خامنه ای کدام گزینه از ویژگی های دانش آموزان کشور ما نمی باشد؟

- الف) خوب درس خواندن ب) ورزش کردن پ) رفتار نیکو ت) بازی کردن

۵- کدام گزینه از تعطیلات رسمی ایران نیست؟

- الف) مناسبت های ملی ب) مناسبت های دینی پ) جمعه ها ت) روز درختکاری

۶- اداره ها و مدرسه ها در چه روزی از هفته تعطیل هستند؟

- الف) پنج شنبه ها ب) جمعه ها پ) شنبه ها ت) تعطیلات دینی

۷- وسط پرچم ایران ، کلمه ی نوشته شده است.

- الف (لاله الاالله ب) الله اکبر پ) لاله ت) بسم الله

۸- کدام گزینه ، سرزد از افق را کامل می کند؟

- الف) فریاد شهیدان ب) مهر خاوران پ) فروغ دیده حق باوران ت) هیچ کدام



● پاسخ سوالات زیر را بنویس .

۱- سه مورد از فعالیت هایی که معمولاً روز جمعه انجام می شوند را بنویس.

الف:

ب:

پ:

۲- نشانه های ملی ایران عزیزمان را نام ببر.

.....

۳- روزهای تعطیل ایران را دسته بندی کن و بنویس . (با ذکر مثال)

.....

.....

۴- انقلاب اسلامی ایران چگونه به پیروزی رسید؟

.....

۵- شعار مهمی که مردم در سال ۱۳۵۷ سر می دادند چه بود؟

.....

۶- سه ویژگی امام خمینی (ره) را بنویس.

.....

