

پیک هفتگی

دوم دبستان

۲



فعالیت های پایان هفته به همراه  
ویدئوهای آموزشی



مدیرفروش: ۰۹۱۰۲۰۱۵۲۰۰

 [salampub.com](http://salampub.com)



(با اسکن QR کد محصولات جذاب این پایه را مشاهده کنید.)


# پیک هفتگی

## پایه دوم



WWW.SALAMPUB.COM

دانش آموز مهربان یعنی به دوستان خوبی کن تا محبت آن‌ها نسبت به تو بیشتر شود.



کلاس:

دبستان:

نام زیبای من:

هدیه‌های آسمان: درس اول  
فارسی: درس اول (صفحه ۲ تا ۴)

قرآن: درس اول (صفحه ۲ تا ۶)  
ریاضی: فصل اول (صفحه ۱ تا ۵)  
علوم: درس اول




قرآن و هدیه‌های آسمان


۱. سوره‌ی «توحید» را که سال قبل حفظ کرده‌اید، بخوانید و با کمک اولیا معنای آن را بنویسید.

.....  
.....

۲. کلمه‌های زیر را بخوانید و برای هر کدام نقاشی بکشید.



۳. نام نعمت‌های خداوند را در هر کدام از تصاویر زیر، بنویسید.



۴. اگر خورشید را ببینم، به او می‌گویم: .....



ریاضی

۱. کلاس شما چند دانش آموز دارد؟

با حروف:

با رقم:

با رسم چوب خط:



۲ عدد قبل و بعد هر کدام را بنویسید.

..... - ۲۴ - .....

..... - ۱۹ - .....

۳ اعداد یکسان را هم رنگ کنید.



۲۲	سی و نه	بیست و دو	۸۴
۳۹	هشتاد و چهار	۶۱	شصت و یک

۴ مانند نمونه، حروف را با الگوی زیر جابه‌جا کنید و پاسخ را به حروف بنویسید.

۱	۳	۲	۶	۷	۹	۴	۵
ب	ز	چ	ص	ف	ژ	ط	خ

چهار ط = ز + ب

ط - ژ =

ژ - ف =

ف + چ =

خ + چ =

ز - ط =

۵ الگوی زیر را ادامه دهید.

۳۲ - ۳۴ - ۳۶ - ..... - ..... - ..... - ..... - .....

۶ هفت بسته ده تایی و پنج یکی می‌شود.....

نه بسته ده تایی و چهار یکی می‌شود.....



۱ جمله‌ی زیر را ادامه دهید.

ای خدای مهربان، اکنون که به کلاس دوم آمده‌ام.....



۲ کلمه‌های زیر را پر رنگ کنید و با صدای بلند بخوانید.



زبان	کلاس	مخصوص	خانواده	عزیز
امام رضا (ع)	معصومه	نشاط	مهربان	تفریح

۳ حروف زیر را مرتب کنید و کلمه بسازید.



د - خ - ا =

د - ی - ز - ا =

ر - ز - ب - ا - س =

ص - ل - ف =

۴ هر کدام از نشانه‌های (ت - ط) را در جای خود قرار دهید.

..... ناب ، ..... الار ، ..... لا ، ..... وطی ، ..... یم ، ..... بسد .....

۵ چهار کلمه در درس بهترین سرآغاز پیدا کن که در آن حرف (ش) به کار رفته باشد.



۶ شعر بهترین سرآغاز از کیست؟

۷ به نظر شما چگونه می توانیم برای کشورمان ایران کارهای خوبی انجام دهیم؟

.....

.....



۱ به اطراف خود نگاه کنید. حالا چشمانتان را ببندید و با کمک یکی از والدین جدول زیر را کامل کنید.

وسایل قرمز رنگ	وسایل سبز رنگ

حالا این بار مداد و کاغذ را بردارید و وسایلی با رنگ های مشخص را که می بینید، یادداشت کنید. در کدام حالت جدول شما کامل تر است؟ پس ..... به ما کمک می کند آن چه را مشاهده می کنیم، دقیق بیان کنیم.

۲ حواس پنج گانه را نام ببرید.

.....

.....

.....

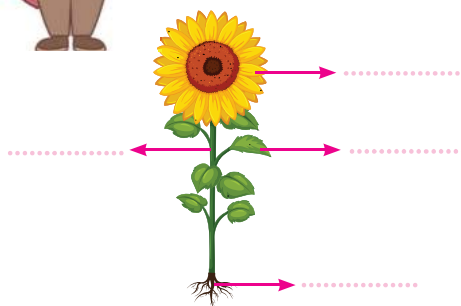
.....

.....



۳ قبل از چشیدن یا بویدن هر چیزی با ..... مشورت می کنیم.

۴ قسمت های مختلف گیاه را بنویسید.



ارزیابی معلم	نیاز به تلاش بیشتر	قابل قبول	خوب	خیلی خوب	ارزیابی ←	عملکرد ↓
خیلی خوب <input type="checkbox"/>						میزان فهم و درک مطالب
خوب <input type="checkbox"/>						مدیریت زمان و برنامه ریزی
قابل قبول <input type="checkbox"/>						داشتن استقلال و عدم وابستگی
نیاز به تلاش بیشتر <input type="checkbox"/>						داشتن انگیزه و رعایت اصول زیبانویسی

ارزیابی عملکرد دانش آموز در انجام تکالیف پیک نظر اولیاء محترم


# یک هفته‌گی ۸

## پایه دوم



WWW.SALAMPUB.COM

دانش آموز شجاع یعنی شجاعت داشته باش تا با حقیقت رو برو شوی.



کلاس:

دبستان:

نام زیبای من:

هدیه‌های آسمان: درس هفتم  
فارسی: درس چهارم

قرآن: درس چهارم (صفحه ۲۱ تا ۲۵)  
ریاضی: فصل دوم (صفحه ۳۱ تا ۳۶)  
علوم: درس چهارم



قرآن و هدیه‌های آسمان

۱ شکل‌های که در آن اسراف دیده می‌شود را مشخص کنید؟



۲ دور حروف ناخوانا را خط بکشید.

«وَكَلُوا وَ شَرَبُوا وَ لَا تُسْرِفُوا»

۳ عزیزم، کمک‌هایی که تاکنون برای دیگران انجام داده‌ای را بنویس.



ریاضی

۱ حاصل جمع و تفریق‌های زیر را به صورت تقریبی بدست آورید.

$$\begin{array}{r} ۸۶ \rightarrow \dots \\ - ۳۲ \rightarrow \dots \\ \hline \end{array}$$

$$\begin{array}{r} ۴۲ \rightarrow \dots \\ + ۳۹ \rightarrow \dots \\ \hline \end{array}$$

$$\begin{array}{r} ۲۷ \rightarrow \dots \\ + ۵۴ \rightarrow \dots \\ \hline \end{array}$$



۲) دانش آموز عزیز چند ساله هستید؟ ..... حالا بگویید مجموع سن شما با پدر یا مادرتان چند سال است؟

۳) هر کدام از کارهای زیر را در چه ساعتی انجام می دهید؟



ساعت ..... و ..... دقیقه  
از خواب برمی خیزم.



ساعت ..... و ..... دقیقه  
از مدرسه برمی گردم.



ساعت ..... و ..... دقیقه  
می خوابم.

۴) زهره برای کمک به دانش آموزان نیازمند در جشن نیکوکاری ۵۶ مداد قرمز و مشکی خرید. اگر ۱۷ مداد قرمز باشند. چند مداد مشکی است؟

آیا شما هم در جشن نیکوکاری شرکت می کنید؟

۵) تا امروز چند صفحه از کتاب ریاضی را یاد گرفته اید؟ چند صفحه دیگر مانده است تا به صفحه ی ۵۰ کتاب برسید؟



۶) جدول زیر را کامل کنید و سپس جمع و تفریقها را با کمک جدول انجام دهید.

		۵۳						۶۰
				۶۶				
	۷۲							۷۹

$$\begin{array}{r} 73 \\ + 7 \\ \hline \end{array}$$

$$\begin{array}{r} 59 \\ + 12 \\ \hline \end{array}$$

$$\begin{array}{r} 80 \\ - 14 \\ \hline \end{array}$$



۱) کلمه های بی نقطه ی درس «تمیز باش و عزیز باش» را بنویسید.

۲ شما برای سلامتی و نظافت خود چه کارهایی انجام می‌دهید؟

۳ برای هر نشانه، دو کلمه بنویسید.


ص ص

ث ث

س س


۴ با مرتب کردن کلمه‌های بهم ریخته، جمله بسازید.

در - زنگ - صدا - مدرسه - آمد - به



۵ جمله‌ی ناتمام زیر را ادامه دهید.

ما اگر گوش نداشتیم .....

۶ مواردی که برای سلامتی گوش مفید هستند **سبز** و مواردی که ضرر دارند **قرمز** کنید.

آهسته صحبت کردن

داد کشیدن

رعایت بهداشت

خشک کردن گوش بعد حمام

فرو کردن مداد داخل گوش



علوم

۱ جاهای خالی را کامل کنید.

خورشید در فصل ..... مستقیم و در فصل ..... مایل می‌تابد.


بادنما ..... باد را نشان می‌دهد.

..... تپه‌های ماسه‌ای را ایجاد می‌کند.



۲) به نظر شما کدام قسمت گیاه باعث می شود که وقتی باد می وزد، خاک را همراه خود نبرد؟

۳) در هر تصویر چه استفاده‌ای از باد می شود؟



۴) در صورت وقوع طوفان چه کارهایی انجام دهیم؟

۵) به نظر شما چرا هوا در زمستان سردتر از تابستان است؟

۶) آیا همیشه هوا صاف است؟ چرا؟

ارزشیابی معلم	ارزیابی ←				عملکرد ↓
	نیاز به تلاش بیشتر	قابل قبول	خوب	خیلی خوب	
<input type="checkbox"/> خیلی خوب					میزان فهم و درک مطالب
<input type="checkbox"/> خوب					مدیریت زمان و برنامه ریزی
<input type="checkbox"/> قابل قبول					داشتن استقلال و عدم وابستگی
<input type="checkbox"/> نیاز به تلاش بیشتر					داشتن انگیزه و رعایت اصول زیبانویسی

ارزیابی عملکرد دانش آموز در انجام تکالیف پیک نظر اولیاء محترم




# پیک هفتگی ۲۳

## پایه دوم



WWW.SALAMPUB.COM

دانش آموز دوست دار کتاب یعنی کسی که با کتاب آرامش می یابد.



کلاس:

دبستان:

نام زیبای من:

هدیه های آسمان: درس هجدهم  
فارسی: درس چهاردهم (صفحه ۸۶ الی ۹۱)

قرآن: درس یازدهم (صفحه ۷۶ تا ۷۷)  
ریاضی: فصل ششم (صفحه ۱۰۳ تا ۱۰۸)  
علوم: درس یازدهم (صفحه ۷۶ تا ۸۱)



قرآن و هدیه های آسمان



۱) تصویر روبه رو، شما را به یاد کدام پیام قرآنی می اندازد؟

۲) عبارت زیر را بخوانید و اتصالات آن را مشخص کنید.

﴿إِنَّ اللَّهَ مَعَ الَّذِينَ اتَّقَوْا﴾

۳) پیامبر (ص) راز خوشبختی را در چه می دانست؟

۴) هر کدام از کارهای زیر، چه نتیجه هایی دارند؟

دروغ گویی

راست گویی



ریاضی

۱) فاصله ی دو شهر ۲۸۶ کیلومتر است. ما ۱۳۵ کیلومتر را طی کرده ایم. چند کیلومتر باقی مانده تا به مقصد برسیم؟



۲ سعید ۵۲۸ تومان پول داشت. او با ۲۴۷ تومان از پولش مداد خرید. چند تومان برایش باقی مانده است؟



۳ پس انداز محسن ۷۲۰ تومان است. او برای انجام تکالیفش دفتر به قیمت ۵۲۲ تومان و مداد به قیمت ۱۰۸ تومان خرید. الف) کدام یک گران تر است؟ چند تومان؟

ب) بعد از خرید دفتر و مداد چند تومان پول برای محسن باقی می ماند.

۴ جمع و تفریق‌های زیر را انجام دهید.



$$\begin{array}{r} 741 \\ - 164 \\ \hline \end{array}$$

$$\begin{array}{r} 524 \\ + 139 \\ \hline \end{array}$$

۵ کتاب ماهان ۴۶۰ صفحه دارد و کتاب مهراں ۸۷ صفحه بیشتر دارد، کتاب مهراں چند صفحه است؟



۱ پرچم کشور عزیزمان را رنگ کنید و بنویسید هر رنگ نشانه‌ی چیست؟



۲. برای معنی‌های مختلف هر کلمه، جمله بسازید.

سیر

شیر

۳. کامل کنید.

به کسی که اهل گیلان است، ..... می‌گویند.  
 به چیزی که از مس ساخته شده است، ..... می‌گویند.  
 من اهل ..... هستم، پس به من ..... می‌گویند.

۴. کلمه‌های شش نقطه‌ای درس پرچم را پیدا کنید و بنویسید.


۵. با توجه به درس «ایران زیبا» جدول زیر را کامل کنید.

کلمه‌هایی که با «ان» جمع شده‌اند	کلمه‌هایی که با «ها» جمع شده‌اند



علوم

۱. مراحل رشد انسان را شماره‌گذاری کنید.



۲. شما برای مراقبت از دندان‌هایتان چه کارهایی انجام می‌دهید؟



۳. در هر سنی برای رشد و سلامت دندان‌ها و استخوان به چه نوع مواد غذایی نیاز داریم؟

۴. آیا اگر غذای بیش‌تری بخوریم سالم‌تریم؟ چرا؟

۵. برای داشتن بدنی سالم به چه چیزهایی نیاز داریم؟

Three empty rounded rectangular boxes for writing answers to question 5.

۶. وسایل شخصی و بهداشتی هر فرد را نام ببرید؟

Three empty rounded rectangular boxes for writing answers to question 6.

ارزشیابی معلم	ارزیابی ← عملکرد			
	نیاز به تلاش بیشتر	قابل قبول	خوب	خیلی خوب
<input type="checkbox"/> خیلی خوب				
<input type="checkbox"/> خوب				
<input type="checkbox"/> قابل قبول				
<input type="checkbox"/> نیاز به تلاش بیشتر				
				میزان فهم و درک مطالب
				مدیریت زمان و برنامه ریزی
				داشتن استقلال و عدم وابستگی
				داشتن انگیزه و رعایت اصول زیبانویسی

ارزیابی عملکرد دانش‌آموز در انجام تکالیف پیک نظر اولیا، معتمد

# پیک هفتگی ۳۰

## پایه دوم



WWW.SALAMPUB.COM

دانش آموز ورزشکار یعنی کسی که به ورزش و سلامتی جسم خود اهمیت می دهد.



کلاس:

دبستان:

نام زیبای من:

هدیه های آسمان: مرور (درس ۱۵ تا ۲۰)  
فارسی: درس هفدهم (صفحه ۱۰۷ تا ۱۱۴)

قرآن: درس چهاردهم (صفحه ۹۸ تا ۱۰۴)  
ریاضی: مرور کل کتاب  
علوم: فصل چهاردهم (صفحه ۹۸ تا ۱۰۳)



قرآن و هدیه های آسمان

۱ آتش برای کدام پیامبر (ص) تبدیل به گلستان شد؟

حضرت نوح (ع)  حضرت ابراهیم (ع)  حضرت محمد (ص)  حضرت موسی (ع)

۲ برای هر پیام قرآنی یک تصویر مناسب بچسبانید یا نقاشی کنید.

«وَأَعْمَلُوا صَالِحًا»



«إِنَّ مَعَ الْعُسْرِ يُسْرًا»



۳ کلمه های هم معنی را یک رنگ کنید.

رُطْب	أَنْجِير	تِين	عَنْب
انار	انگور	خرما	رُمَّان

۴ آداب صحیح غذا خوردن را بنویس.



ریاضی

۱ کتابی ۵۴ صفحه دارد. مصطفی ۲۱ صفحه از آن را خوانده است. چند صفحه باقی مانده است؟

«به روش فرآیندی»



- ۲) عدد ۲۲۴ به ..... نزدیک تر است یا به ..... به ؟  
 عدد ۱۰۸ به ..... نزدیک تر است یا به ..... به ؟  
 عدد ..... به ۵۰ نزدیک تر است یا به ۶۰ ؟

۳) مادرم یک تولد را به شکل زیر تقسیم کرد. من ۲ قسمت و برادرم ۳ قسمت از کیک را خوردیم.



- چه کسری از کیک را من خورده‌ام؟  
 چه کسری از کیک خورده شده است؟  
 چه کسری از کیک باقی مانده است؟

۴) شکل‌های زیر را به ۴ قسمت مساوی تقسیم کنید.



۵) پوریا ۳۴ امتیاز داشت. دیروز ۱۹ امتیاز و امروز ۸ امتیاز دیگر گرفت. پوریا چند امتیاز دارد؟

۶) الگوهای عددی زیر را ادامه دهید.

۲۵	۲۷	۳۱	۳۷			
۹۸	۹۵	۹۲				

۷) عدد به دست آمده را به حروف بنویسید.

ل	م	ر	ه	ح	ش	ص	ق	ض	ف
۳	۵	۲	۱	۰	۴	۶	۷	۹	۸

سی و پنج  $\rightarrow$  م ل

$\rightarrow$  ح ه

$\rightarrow$  ح ش

$\rightarrow$  ر ش

$\rightarrow$  ص ف

$\rightarrow$  ض ق



۱. کلمه‌هایی را بنویسید که تمام نقطه‌های آن‌ها بالای کلمه باشد.

.....

۲. جاهای خالی را کامل کنید.

این پادشاه ..... به مردم ظلم و ستم می‌کرد. (ستم‌کار - فداکار)  
 محل برگزاری اردوی دانش‌آموزی است. (کارگاه - اردوگاه)  
 این مرد ..... به نیازمندان کمک می‌کند. (نیکوکار - ورزشکار)

۳. با شنیدن هر کدام به یاد چه چیزهایی می‌افتید؟



۴. اکنون که کلاس دوم را به پایان رساندم .....

.....

۵. در جاهای خالی کلمه‌ی مناسب بنویسید تا کلمه‌ی تازه‌ای ساخته شود.

نامہ ..... کار ..... گاه ..... زار .....  
 سر ..... بی ..... گار ..... خانه .....

۶. با کلمه‌های زیر جمله بسازید.

موفق: .....  
 پناه: .....  
 خدمت: .....





۱) کامل کنید.

اصلی ترین ماده‌ی غذایی در ایران ..... است.

آرد از ..... به دست می آید.

باید در مصرف نان ..... کنیم.


۲) روش‌های آسیاب کردن چه تفاوتی با گذشته دارد؟



۳) چه نوع نان‌هایی می‌شناسید؟

۴) چه کارهایی انجام دهیم تا نان کمتری دور ریخته شود؟

۵) مراحل تهیه‌ی نان را نقاشی کنید.



۶) این دو آسیاب چه تفاوتی با هم دارند؟



۷) شما چه غذاهایی را با نان می‌خورید؟

ارزشیابی معلم

خیلی خوب

خوب

قابل قبول

نیاز به تلاش بیشتر

عملکرد	ارزیابی ←	خیلی خوب	خوب	قابل قبول	نیاز به تلاش بیشتر
میزان فهم و درک مطالب					
مدیریت زمان و برنامه ریزی					
داشتن استقلال و عدم وابستگی					
داشتن انگیزه و رعایت اصول زیبانویسی					

ارزیابی عملکرد دانش آموز در انجام تکالیف پیک  
نظر اولیاء محترم



# مشخصات کتاب

پیک هفتگی رحلی دوم دبستان

عنوان کتاب

دوم دبستان

گروه سنی

فرزانه صانعی

مؤلف

رحلی

قطع کتاب

۱۲۰ صفحه (۳۰ پیک چهار صفحه ای مهر تا اردیبهشت)

تعداد صفحات