

پیک هفتگی

سوم دبستان

۳



فعالیت های پایان هفته به همراه  
ویدئوهای آموزشی



مدیرفروش: ۰۹۱۰۲۰۱۵۲۰۰

 [salampub.com](http://salampub.com)




# پیک هفتگی ۳

## پایه سوم



WWW.SALAMPUB.COM

دانش آموز هنرمند یعنی دانش آموز خلاق که با حقیقت زندگی مانوس است.



کلاس:

دبستان:

نام زیبای من:

هدیه‌های آسمان: (صفحه ۸ الی ۱۳)  
فارسی: درس دوم (صفحه ۱۰ الی ۲۴)  
اجتماعی: درس سوم (صفحه ۷ الی ۱۰)

قرآن: فصل یک (صفحه ۹ الی ۱۱)  
ریاضی: فصل یک (صفحه ۱۶ الی ۱۸)  
علوم: مرور درس ۱ و ۲



قرآن و هدیه‌های آسمان

۱ ذکر «سُبْحَانَ رَبِّيَ الْعَظِيمِ وَ بِحَمْدِهِ» در کدام قسمت نماز خوانده می‌شود؟

(د) سلام

(ج) رکوع

(ب) تشهد


(الف) سجده

۲ یکی از بهترین لحظه‌ها برای دعا کردن را بنویسید.



۳ در این گل، نام چهارنفر را که دوست دارید برای آن‌ها دعا کنید، بنویسید. سپس برای دو نفر از آنها


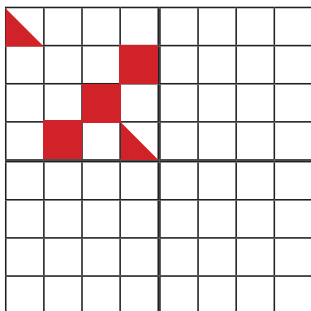
یک جمله‌ی دعایی بنویسید.




ریاضی

۱ قسمت‌های دیگر شکل را مانند نمونه کامل کنید. سپس، تعداد مربع‌های رنگی را به کمک

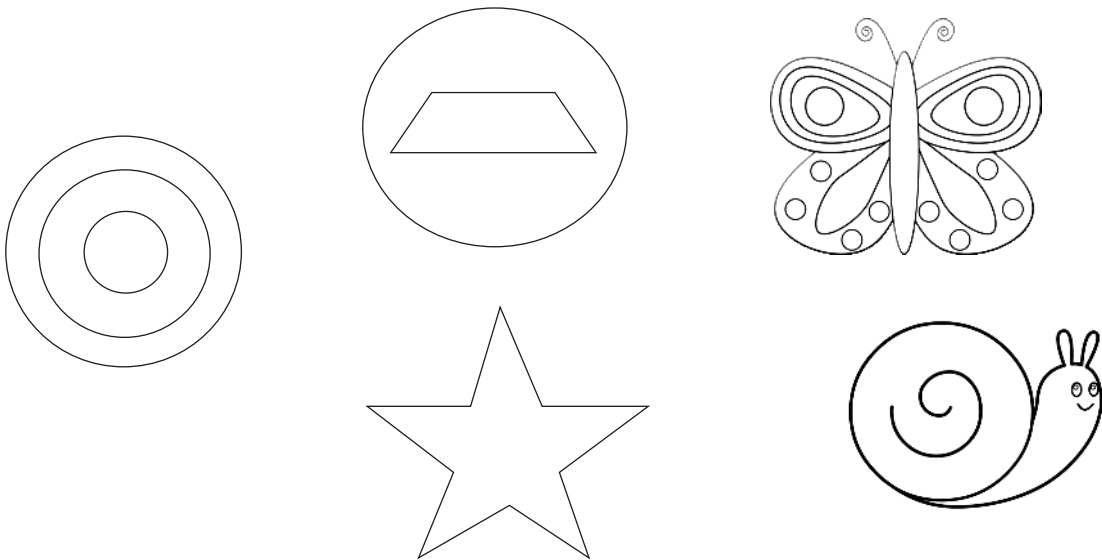
خط تقارن بشمارید.



۲) رضا ساعت ۹ صبح به مهمانی رفت و ساعت ۱ بعد از ظهر برگشت. او چند ساعت در مهمانی بوده است؟



۳) خط تقارن شکل‌های زیر را رسم کنید. کدام شکل خط تقارن ندارد؟



فارسی

۱) کدام کلمه جمع است؟

- الف) بوستان
- ب) دروازه‌بان
- ج) خیابان
- د) دوستان



۲) در جمله‌های زیر، نشانه‌های جمع مناسب را در جاهای خالی بنویسید.

با دیدن عکس‌ها می‌توانیم خاطره «ان - ات» ..... بسیاری را در ذهنمان یادآوری کنیم.

بچه «ات - ها» ..... با شروع ماه مهر، سال جدید تحصیلی را شروع می‌کنند.



۳ کلمات هم معنی را هم رنگ کنید.

۴ فرزندم با دقت سرمشق زیر را تمرین کن.

بابا آب داد . بابا آدب آب داد .  
 بابا آب داد . بابا آدب آب داد .



علوم

۱ مهم ترین وعده‌ی غذایی ..... است.

۲ در هنگام خرید مواد غذایی باید به ..... و ..... آنها توجه کنیم.

۳ تخم مرغ در کدام گروه مواد غذایی قرار دارد؟



(ب) گروه پروتئین

(الف) گروه ویتامین

(د) گروه غلات

(ج) گروه چربی

۴ یک غذای ایرانی بنویسید که برای پختن آن ، از چهار گروه مواد غذایی استفاده شده باشد.

.....

۵ هر ماده ی غذایی را در گروه مربوط به خود قرار دهید.



شیر



کاهو



لوییا



برنج



سیب زمینی



پرتقال



گوشت



روغن زیتون

۱- این مواد غذایی به رشد بدن کمک می کنند و دارای پروتئین می باشند.

۲- این مواد غذایی به بدن ما انرژی می دهند.

۳- این مواد غذایی دارای ویتامین هستند و باعث سالم ماندن بدن ما می شوند.

۴- این مواد غذایی بعضی از ویتامین ها و مواد مورد نیاز بدن ما را تأمین می کنند.



اجتماعی

۱ کدام مورد زیر از تفاوت های میان انسان ها است؟

(د) نیاز به آب

(ج) رنگ پوست

(ب) نیاز به غذا

(الف) نیاز به محبت

۲ اگر همه ی انسان ها مثل هم بودند و توانایی هایشان کاملاً شبیه هم بود، چه می شد؟

ارزشیابی معلم	ارزیابی ← عملکرد			
	نیاز به تلاش بیشتر	قابل قبول	خوب	خیلی خوب
<input type="checkbox"/> خیلی خوب				میزان فهم و درک مطالب
<input type="checkbox"/> خوب				مدیریت زمان و برنامه ریزی
<input type="checkbox"/> قابل قبول				داشتن استقلال و عدم وابستگی
<input type="checkbox"/> نیاز به تلاش بیشتر				داشتن انگیزه و رعایت اصول زیبانویسی

ارزیابی عملکرد دانش آموز در انجام تکالیف پیک  
نظر اولیاء محترم

# پیک هفتگی ۸


## پایه سوم



دانش آموز شجاع یعنی شجاعت داشته باش تا با حقیقت رو برو شوی.



WWW.SALAMPUB.COM



نام زیبای من:

دبستان:

کلاس:

قرآن: فصل دوم (صفحه ۳۶ الی ۴۲)

ریاضی: فصل دوم (صفحه ۳۷ الی ۴۲)

علوم: درس چهارم (صفحه ۳۱ الی ۳۴)

هدیه های آسمان: (صفحه ۳۰ الی ۳۴)

فارسی: درس چهارم (صفحه ۳۶ الی ۴۱)

اجتماعی: درس هفتم (صفحه ۱۸ الی ۲۲)



قرآن و هدیه های آسمان

۱ دو کلمه ی قرآنی بنویسید که در آن ها حروف « ناخوانا » وجود داشته باشد.



۲ به بانوی قهرمان معروف بودند.


۳ نام یکی از فرزندان امام حسن (ع) را بنویسید که در روز عاشورا به شهادت رسیدند.

۴ یک سخن از امام حسین (ع) درباره ی «نماز» بنویسید.



ریاضی


۱ مشخص کنید عددهای زیر، بین کدام دو عدد قرار دارد؟




۸۹۲۵



۹۰۰۰



۴۳۷۰



۲ جاهای خالی را با عدد مناسب پر کنید.



۴۲۷ سانتی‌متر برابر است با ..... متر و ..... سانتی‌متر

..... سانتی‌متر برابر با ۳ متر و ۴ سانتی‌متر است.

۷۰۰۰ گرم برابر با ..... کیلوگرم است.

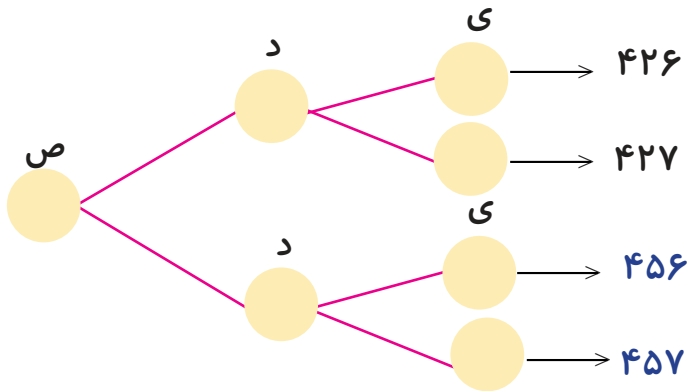
۲۵ سانتی‌متر برابر با ..... میلی‌متر است.

۲۵۸۰ متر می‌شود: ..... کیلومتر و ..... متر.

۳ به اعداد زیر ۳۰۰۰ تا اضافه کنید و بنویسید سپس از بزرگ به کوچک مرتب کنید.

۶۰۱۵	۱۰۰۰	۶۰۷	۳۶۰۰
○	○	○	○
..... > ..... > ..... > .....			

۴ جاهای خالی را پر کنید.



۵ واحد مناسب را بنویسید.

طول میز امید ۱۲۰ ..... است. / فاصله ی مشهد تا کرمان ۹۰۵ ..... است.

قد علی ۱۳۵ ..... است. / جرم یک هندوانه ۳ ..... و ۱۰۰ ..... است.

۶ شما دوست دارید ۱۰۰۰ تا از چه چیزی داشته باشید؟

۱ جمله بسازید.

..... نظر:

..... بحث:

۲ با حروف آخر کلمه‌ی داده شده، کلمه‌ای از درس (آواز گنجشک) پیدا کنید که این حرف، اولین حرف کلمه‌ی بعد باشد.

مناسبت ← تعجب ← ..... ← ..... ← ..... ← .....



۳ حروف درهم ریخته را مرتب کنید و کلمه بسازید.

..... ←

د - ت - ا - ع

..... ←

ت - م - ا - و - ی - ل - ب

۴ عبارت‌ها را با توجه به متن درس (آواز گنجشک) کامل کنید.

..... صدای بلند تلویزیون و

..... مریم، عضو گروه

۵ فرزندم با دقت سرمشق‌های زیر را تمرین کن.

داماد بادام داد . داماد بادام داد .  
 داماد بادام داد . داماد بادام داد .

۱ مقدار ماده‌ی تشکیل دهنده‌ی هر جسم را ..... آن جسم می‌نامند.



۲ جرم اجسام را با چه وسیله‌ای اندازه‌گیری می‌کنند؟

۳ واحدهای زیر را تعریف کنید.



لیتر: .....

جرم: .....

۴ آزمایشی طراحی کنید که نشان دهد با تغییر شکل جسم، جرم آن تغییر نمی‌کند.

.....

.....

.....



اجتماعی

۱ خداوند در قرآن در **سوره‌ی اسراء**، آیه‌ی ۲۳ درباره‌ی پدر و مادر چه فرموده‌اند؟

.....

۲ در درس ۷ اجتماعی منظور مادر بزرگ از این که به نوه‌اش می‌گفت: تو دست منی، تو پای منی و ... چه بود؟

۳ دعای مادر بزرگ درباره‌ی نوه‌اش را بنویسید.

.....

.....

.....

«الهی

ارزیابی معلم	نیاز به تلاش بیشتر	قابل قبول	خوب	خیلی خوب	ارزیابی ←	عملکرد ↓
<input type="checkbox"/> خیلی خوب						میزان فهم و درک مطالب
<input type="checkbox"/> خوب						مدیریت زمان و برنامه ریزی
<input type="checkbox"/> قابل قبول						داشتن استقلال و عدم وابستگی
<input type="checkbox"/> نیاز به تلاش بیشتر						داشتن انگیزه و رعایت اصول زیبانویسی

ارزیابی عملکرد دانش آموز در انجام تکالیف پیک نظر اولیاء محترم

# یک هفته‌گی ۱۳

## پایه سوم



دانش آموز مثبت نگر یعنی زیبا فکر کن و با محبت با دیگران رفتار کن.




WWW.SALAMPUB.COM

نام زیبای من:

دبستان:

کلاس:



قرآن: فصل سوم (صفحه ۵۸ الی ۶۳)

ریاضی: فصل چهارم (صفحه ۶۱ الی ۶۶)

علوم: درس هفتم (صفحه ۵۲ الی ۵۵)

هدیه های آسمان: (صفحه ۵۰ الی ۵۵)


فارسی: درس هفتم (صفحه ۵۶ الی ۵۹)

اجتماعی: درس یازدهم (صفحه ۳۲ الی ۳۵)



قرآن و هدیه های آسمان

۱) معنی کلمات قرآنی زیر را بنویسید.



۲) به کارهایی که حتماً باید انجام دهیم ..... گفته می شود. مانند: ..... و .....

۳) به کارهایی که نباید انجام دهیم ..... گفته می شود. مانند: ..... و .....

۴) شیوهی درست انجام دستورات خدا را چه کسانی به شما می آموزند؟

۵) عبادت یعنی چه؟



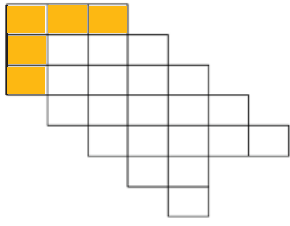
ریاضی

۱) برای هر یک از موارد زیر یک تساوی بنویسید و به آنها پاسخ دهید.

چه عددی اگر با ۸۳ جمع شود، حاصل جمع ۲۰۰۰ می شود؟


از ۴۰۰۰ چند واحد کم کنیم تا ۱۹۰۰ به دست آید؟





۲ جاهای خالی را کامل کنید.

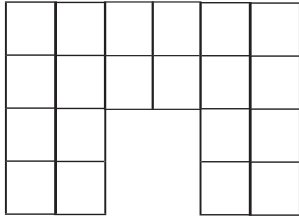
..... دسته کاشی..... تایی می شود..... مربع



۳ برای شکل مقابل یک تساوی ضرب بنویسید.

..... × ..... = .....


۴ خط تقارن را رسم کنید و به کمک آن تعداد مربع‌ها را پیدا کنید و برای آن‌ها یک عبارت ضرب بنویسید.



..... × ..... = .....

فارسی

۱ یکی از صحنه‌های مهم داستان «کار نیک» را نقاشی کنید و برای آن جمله‌ای بنویسید.



۲ کدام کلمه‌ها زمان آینده را نشان می‌دهند؟ رنگ بزنید.



۳ با کلمات زیر جملات خنده‌دار بنویسید.



۴ موضوعی را به دلخواه انتخاب کنید و یک بند درباره‌ی آن بنویسید.

موضوع: .....



.....

.....

.....



علوم

۱ منبع نور چیست؟

.....

۲ کدام تصویر، منبع نور طبیعی و کدام منبع نور مصنوعی است؟



شمع



کرم شب تاب

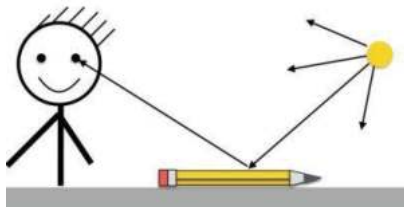


چراغ قوه



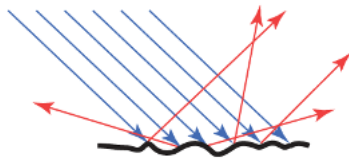
خورشید

.....

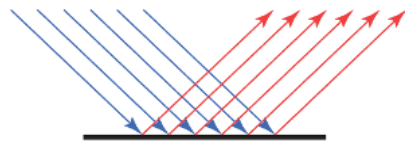


۲ تصویر زیر بیانگر کدام پدیده است؟ آن را تعریف کنید.

۳ کدام یک از تصاویر زیر **بازتابش منظم** و کدام یک **بازتابش نامنظم** را نشان می دهند؟ برای هر کدام دو مثال بزنید.



بازتابش .....  
مانند: ..... و .....



بازتابش .....  
مانند: ..... و .....



۱ منابع طبیعی چیست؟

۲ چرا باید از منابع طبیعی به درستی استفاده کنیم؟

۳ اسم چهار وسیله را که در خانه یا مدرسه از آن استفاده می کنید بنویسید. سپس بگویید چه منابعی در آن به کار رفته است؟

منابع:	نام کالا یا وسیله:
.....	.....
.....	.....
.....	.....
.....	.....

ارزشیابی معلم	عملکرد				ارزیابی ←
	نیاز به تلاش بیشتر	قابل قبول	خوب	خیلی خوب	
خیلی خوب <input type="checkbox"/>					میزان فهم و درک مطالب
خوب <input type="checkbox"/>					مدیریت زمان و برنامه ریزی
قابل قبول <input type="checkbox"/>					داشتن استقلال و عدم وابستگی
نیاز به تلاش بیشتر <input type="checkbox"/>					داشتن انگیزه و رعایت اصول زیبانویسی

ارزیابی عملکرد دانش آموز در انجام تکالیف یک نظر اولیه محترم


# پیک هفتگی ۲۳

## پایه سوم



WWW.SALAMPUB.COM

دانش آموز دوست دار کتاب یعنی کسی که با کتاب آرامش می یابد.



کلاس:

دبستان:

نام زیبای من:

هدیه های آسمان: ( صفحه ۹۰ الی ۹۵ )

قرآن: فصل سوم (صفحه ۹۷ الی ۹۹)

فارسی: درس چهاردهم (صفحه ۹۸ الی ۱۰۸)

ریاضی: فصل ششم (صفحه ۱۰۶ الی ۱۰۸)

اجتماعی: درس هجدهم ( صفحه ۵۵ الی ۵۹ )

علوم: مرور درس دهم و یازدهم



قرآن و هدیه های آسمان

۱ امام پنجم مسلمانان ..... نام داشت که در ..... به دنیا آمد.

۲ از بهترین و شایسته ترین زنان جهان است.

۳ کامل کنید.



حضرت زهرا (س):




ریاضی

$$\begin{array}{r} 2242 \\ + \\ 1439 \\ \hline \end{array}$$

۱ برای جمع زیر شکل بکشید.

۲ سارا ۳۱۰۰ تومان پول دارد. خواهرش صبا ۱۱۳۰ تومان کمتر از او پول دارد. آنها روی هم چند

تومان دارند؟



۳) یک مزرعه‌ی مستطیل شکل به طول ۶۰۰ متر و عرض ۲۵۰ متر داریم. می‌خواهیم دور این مزرعه را نرده بکشیم، به چند متر نرده نیاز داریم؟



۴) قیمت یک جعبه مداد رنگی ۹۷۰۰ تومان است. مریم برای خرید یک جعبه‌ی مداد رنگی یک اسکناس ۵۰۰۰ تومانی، یک اسکناس ۱۰۰۰۰ ریالی و سه اسکناس ۵۰۰ تومانی به فروشنده داد. مریم برای خریدن جعبه‌ی مداد رنگی به چند تومان دیگر نیاز دارد؟

۵) حاصل جمع‌های زیر را به دست آورید.

$$\begin{array}{r} 6764 \\ + 1879 \\ \hline \end{array}$$

$$\begin{array}{r} 3068 \\ + 4609 \\ \hline \end{array}$$

$$\begin{array}{r} 3908 \\ + 4987 \\ \hline \end{array}$$

$$\begin{array}{r} 5287 \\ + 4389 \\ \hline \end{array}$$



۱) کلمات هم خانواده را هم رنگ کنید.



داستان کوتاه زیر را ادامه دهید.

۲

روباه خیلی گرسنه بود تا اینکه چشم‌هایش به کلاغ که یک قالب پنیر در دهانش بود افتاد.....

.....

جدول زیر را کامل کنید.

۳

۱- نام یکی از فلزات ایران..... ۲- بزرگ‌ترین و پر جمعیت‌ترین شهر ایران.....

۳- زبان ملی ما ایرانیان..... ۴- آرامگاه شاهچراغ در آنجاست.....

۵- مهم‌ترین سوغاتی کرمان..... ۶- استانی سه حرفی.....



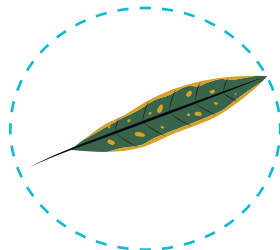
علوم

برای هر کدام از برگ‌های زیر یک مثال بنزید.

۱



.....



.....



.....



۲ برای هر کدام از این دانه‌ها، **دومثال** بنویسید.

دانه‌ی دو قسمتی

دانه‌ی یک قسمتی

۳ به دو گل در محیط زندگی خود نگاه کنید و با توجه به تعداد گلبرگ‌ها، آن‌ها را دسته‌بندی کنید.



نام گل: ..... تعداد گلبرگ: .....



نام گل: ..... تعداد گلبرگ: .....



۴ گیاهانی مانند درخت کاج به جای ..... و .....، مخروط دارند.



اجتماعی

۱ خانه‌ی دوم ..... نام دارد.

۲ مسئولیت اصلی را ..... در مدرسه بر عهده دارد.

۳ معاون در مدرسه چه کارهایی انجام می‌دهد؟ (دو مورد)

.....

.....



مادر: علی بیا اسفناج بخور آهن داره.

علی: آخه مادر جان الان آب خوردم می‌ترسم زنگ بزنی.

ارزشیابی معلم

- خیلی خوب
- خوب
- قابل قبول
- نیاز به تلاش بیشتر

نیاز به تلاش بیشتر	قابل قبول	خوب	خیلی خوب	ارزشیابی ←	عملکرد ↓
					میزان فهم و درک مطالب
					مدیریت زمان و برنامه ریزی
					داشتن استقلال و عدم وابستگی
					داشتن انگیزه و رعایت اصول زیبانویسی

ارزشیابی عملکرد دانش آموز در انجام تکالیف پیک نظر اولیاء معتمد

# مشخصات کتاب

پیک هفتگی رحلی سوم دبستان

عنوان کتاب

سوم دبستان

گروه سنی

زهرا نیک

مؤلف

رحلی

قطع کتاب

۱۲۰ صفحه (۳۰ پیک چهار صفحه ای مهر تا اردیبهشت)

تعداد صفحات