

پیک هفتگی


ششم دبستان

۶



فعالیت های پایان هفته به همراه
ویدئوهای آموزشی

مدیرفروش: ۰۹۱۰۲۰۱۵۲۰۰

 salampub.com



(با اسکن QR کد محصولات جذاب این پایه را مشاهده کنید.)

مشخصات کتاب

پیک هفتگی رحلی ششم دبستان

عنوان کتاب

ششم دبستان

گروه سنی

سید جواد تزرقی

مؤلف

رحلی

قطع کتاب

۱۲۰ صفحه (۳۰ پیک چهار صفحه ای مهر تا اردیبهشت)

تعداد صفحات


پیک هفتگی ۱

پایه ششم



WWW.SALAMPUB.COM

دانش آموز مهربان یعنی به دوستان خوبی کن تا محبت آن‌ها نسبت به تو بیشتر شود.



کلاس:

دبستان:

نام زیبای من:

فارسی: شعر ستایش (صفحه ۸ تا ۹)
علوم: درس اول
اجتماعی: درس اول (صفحه ۱۰ تا ۱۳)

قرآن: درس اول (صفحه ۲ تا ۵)
هدیه های آسمان: درس اول
ریاضی: الگوهای عددی (صفحه ۲ تا ۶)

قرآن و هدیه های آسمان



۱ عبارت قرآنی زیر را بخوانید و حروف ناخوانا را مشخص کنید.

«وَلِكُلِّ دَرَجَاتٍ مِّمَّا عَمِلُوا»

«أُولَىٰ لَكَ فَأُولَىٰ»

۲ معنی کلمه های قرآنی زیر را بنویسید.

أُولَىٰكَ: صَلَاة: يُقِيمُونَ: مَغْفِرَةٌ:

۳ ادامه ی سوره ی توحید را نوشته و ترجمه کنید.

بِسْمِ اللَّهِ الرَّحْمَنِ الرَّحِيمِ

۱ قُلْ هُوَ اللَّهُ أَحَدٌ (بگو او خدای یگانه است) ۲ (.....)

۳ (.....) ۴ (.....)

۴ با توجه به ترجمه ی سوره ی توحید، بعضی از صفات خداوند را بنویسید.

ریاضی

۱ هفتمین مضرب ۹، عدد است. (۶۳، ۷۲)

۲ عدد ۴۰۰۰۸۹۳ عددی است. (زوج، فرد)

۳ اگر الگوی «.....، ۲۰، ۱۲، ۶، ۲» را ادامه بدهیم در مرحله نهم باید عدد را بنویسیم. (۷۲، ۹۰)



۴ ابتدا زیر اعدادی که مضرب ۳ هستند را خط کشیده و سپس دور عددهایی که مضرب ۹ هستند، گردی بکشید.

۲، ۳، ۸، ۹، ۱۰، ۱۲، ۱۸، ۲۰، ۲۴، ۳۰، ۳۳، ۳۸، ۴۵

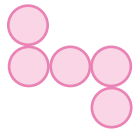
۵ با توجه به فعالیت قبلی (فعالیت ۴) درستی یا نادرستی عبارتهای زیر را مشخص کنید.

- نادرست درست همه‌ی عددهایی که مضرب ۳ بودند، حتماً مضرب ۹ نیز می‌باشند.
- نادرست درست همه‌ی عددهایی که مضرب ۹ می‌باشند، حتماً مضرب ۳ هم هستند.

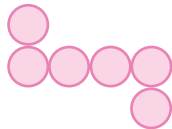
۶ با توجه به الگوی زیر:



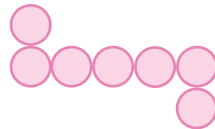
(۱)



(۲)



(۳)



(۴)

(۵)

* شکل مرحله‌ی پنجم را رسم کنید.

* در بیستمین مرحله چند دایره خواهیم داشت؟

* چه الگویی کشف کردید که موفق شدید به سؤالات پاسخ بدهید؟

۷ توضیح دهید زوج یا فرد بودن یک عدد را چگونه مشخص می‌کنیم؟

فارسی

۱ مصراع دوم بیت زیر را با خطی زیبا بنویسید.

به نام آن که جان را فکرت آموخت

مفهوم این بیت را بنویسید.

۲ جمله چیست؟

.....

.....

۳ هنگامی که می‌خواهیم متنی بنویسیم (مثلاً انشا) باید به چه نکاتی توجه کنیم؟ (به سه مورد اشاره کنید)

(۱)

(۲)

(۳)

۴ زیبا بنویس.

با دستم دست دادم . با دست آسب را بستم .

علوم



۱ هر چه سرعت شهاب‌سنگی که به زمین برخورد می‌کند، کمتر باشد عمق و قطر

گودال بوجود آمده بیشتر است. درست نادرست

۲ هر چه حجم شهاب‌سنگ بزرگتر باشد عمق گودال بوجود آمده در زمین، بیشتر است.

درست نادرست

۳ کدام مورد در عمق و قطر گودالی که از برخورد شهاب‌سنگ در سطح زمین بوجود می‌آید، بی‌تأثیر است؟

سرعت شهاب‌سنگ زمان برخورد به زمین حجم شهاب‌سنگ محل برخورد به زمین

۴ بیشتر شهاب سنگ‌ها در کجا سقوط می‌کنند؟

- نقاط کوهستانی و مرتفع
 مناطق پست یا کویری
 اقیانوس‌ها
 جنگل‌ها

۵ در هر بررسی علمی، سبب می‌شود که نتایج درست‌تری کسب گردد.

۶ شهاب‌سنگی که در اطراف پایتخت نیکاراگوئه به زمین برخورد کرد گودالی به قطر و عمق در زمین ایجاد کرد.

۷ عمق و قطر گودالی که از برخورد شهاب‌سنگ در سطح زمین بوجود می‌آید به چه عواملی بستگی دارد؟





اجتماعی

۱ انسان موجودی است و یکی از مهم‌ترین نیازهای او به شمار می‌رود.

۲ بنا بر فرموده‌ی امام علی (ع)، هر کس ندارد عقل هم ندارد.

۳ عکس یکی از دوستان خوب خود را در محل مشخص شده چسبانده و نام و نام خانوادگی او را بنویسید،

سپس چهار دلیل ذکر کنید که چرا او را از دوستان خوب خودتان می‌دانید.



۴ چرا باید در انتخاب دوست خیلی دقت کنیم؟

.....

.....

ارزیابی معلم	ارزیابی ← عملکرد			
	نیاز به تلاش بیشتر	قابل قبول	خوب	خیلی خوب
خیلی خوب <input type="checkbox"/>				میزان فهم و درک مطالب
خوب <input type="checkbox"/>				مدیریت زمان و برنامه ریزی
قابل قبول <input type="checkbox"/>				داشتن استقلال و عدم وابستگی
نیاز به تلاش بیشتر <input type="checkbox"/>				داشتن انگیزه و رعایت اصول زیبانویسی

ارزیابی عملکرد دانش آموز در انجام تکالیف پیک نظر اولیاء محترم

پیک هفتگی ۱۴

پایه ششم



WWW.SALAMPUB.COM

دانش آموز متفکر یعنی با وسعت تفکر خود، وسعت دنیای خود را بیشتر کن.



کلاس:

دبستان:

نام زیبای من:

فارسی: درس نهم (صفحه ۷۲ تا ۷۳)

علوم: درس هفتم (صفحه ۵۲ تا ۵۸)

اجتماعی: درس دوازدهم (صفحه ۶۴ تا ۶۶)

قرآن: درس هفتم (صفحه ۴۷ تا ۴۹)

هدیه‌های آسمان: درس نهم (صفحه ۵۴ تا ۵۷)

ریاضی: مرکز تقارن و تقارن مرکزی (صفحه ۶۴ تا ۶۹)

قرآن و هدیه‌های آسمان



۱ هر یک از کلمه‌های قرآنی زیر را به معنی آن وصل کنید.

- | | | | | |
|---------|--------|----------|----------|---------|
| ● میزان | ● قِسط | ● خَلَقَ | ● سَمَاء | ● اَرْض |
| ● عدالت | ● زمین | ● ترازو | ● آفرید | ● آسمان |



۲ حضرت عبدالعظیم حسنی از نوادگان امام (ع) بود و مرقدش در می‌باشد.

۳ اصل معاد باز گوکننده‌ی چه مطلبی است؟

۴ خداوند در پاسخ به یکی از کافران که درباره‌ی **زنده شدن مردگان** پرسیده بود، اینگونه پاسخ داده است. معنی آن را کامل کنید.

قَالَ مَنْ يُحْيِي الْعِظَامَ وَهِيَ رَمِيمٌ قُلْ يُحْيِيهَا الَّذِي أَنْشَأَهَا أَوَّلَ مَرَّةٍ
او گفت: بگو همان
کسی که

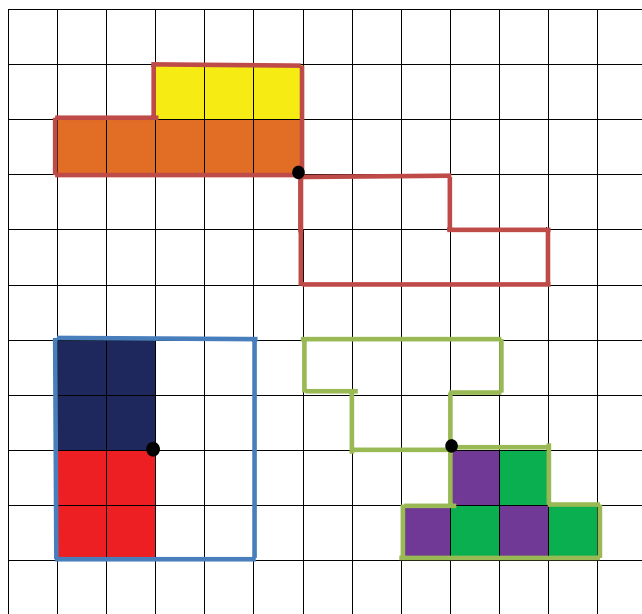
ریاضی

۱ توضیحات را به شکل مناسب وصل کنید.

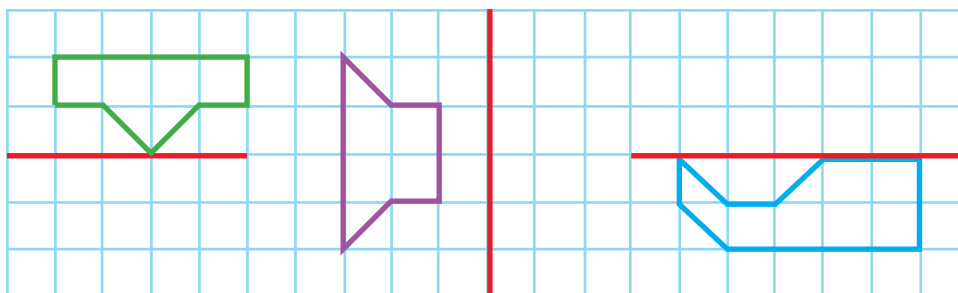
- | | |
|-------------------------|--|
| ● دوزنقه متساوی‌الساقین | ● ۴ خط تقارن داشته و تقارن مرکزی نیز دارد. |
| ● لوزی | ● مرکز تقارن نداشته و ۱ خط تقارن دارد. |
| ● مربع | ● تقارن مرکزی دارد ولی خط تقارن ندارد. |
| ● مثلث متساوی‌الاضلاع | ● ۲ خط تقارن داشته و تقارن مرکزی هم دارد. |
| ● متوازی‌الاضلاع | |



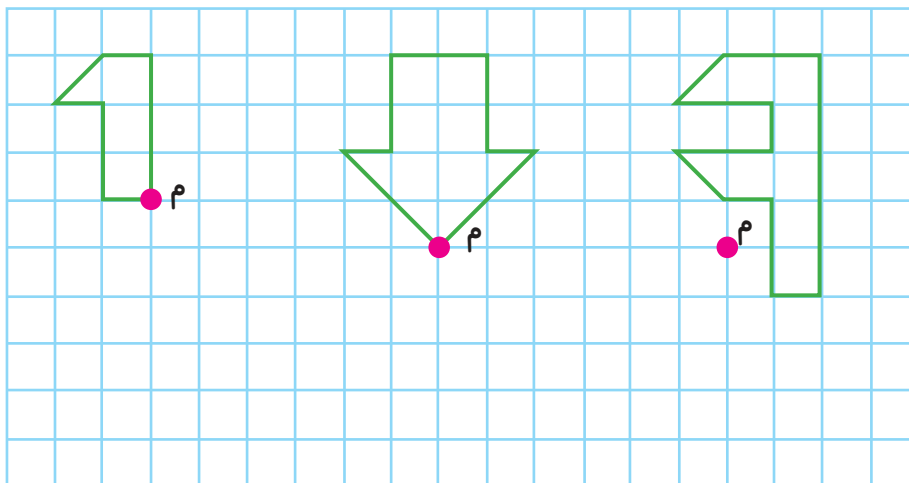
۲ شکل‌ها را طوری رنگ آمیزی کنید که نقطه‌های مشخص شده، مرکز تقارن هر شکل باشد.



۳ قرینه‌ی هر شکل را نسبت به خط تقارن‌های قرمز رنگ، رسم کنید.



۴ قرینه‌ی هر شکل را نسبت به نقطه «م» رسم کنید.



۱ مصراع‌های نوشته نشده‌ی ابیات زیر را بنویسید.

خوشا آنان که الله یارشان بی

بهشت جاودان بازارشان بی

✿ نام شاعر را نوشته و مشخص کنید که در چه قالبی آمده است؟

۲ با توجه به تصویر، متن زیر را تا سه سطر ادامه دهید.



برای مطالعه کردن



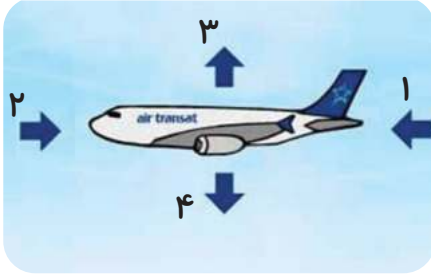
۳ با استفاده از کلمات (دور، دوستی، زمین، افق) یک داستان کوتاه بنویسید.

۱ نیروی اصطکاک چیست؟

۲ به نظر شما وجود نیروی اصطکاک برای ما مفید است یا مضر؟ (با ذکر مثال توضیح دهید)

۳ چند راهکار برای کم کردن نیروی اصطکاک بنویسید.

۴ نیروهای وارد شده بر هواپیمای در حال پرواز شکل زیر را نام برده و آنها را توضیح دهید.



۱- نیروی

۲- نیروی

۳- نیروی

۴- نیروی

اجتماعی

درست نادرست

درست نادرست

درست نادرست

۱ مؤسس سلسله‌ی صفویه شاه عباس بود.

۲ صفویان مذهب شیعه را مذهب رسمی ایران اعلام کردند.

۳ همه شاهان صفوی از هنرمندان حمایت می‌کردند به جز شاه عباس.

۴ کالاهای مهم صادراتی ایران در عهد صفویه چه چیزهایی بود و از چه راههایی به کشورهای دیگر فرستاده می‌شد؟

.....

.....

۵ فرض کنید از شما خواسته شده یک سفرنامه بنویسید. به صورت مختصر خاطرات خود را از سفر به یکی از شهرهای ایران بنویسید.

.....

.....

.....

عملکرد ↓	ارزیابی ←	خیلی خوب	خوب	قابل قبول	نیاز به تلاش بیشتر
میزان فهم و درک مطالب					
مدیریت زمان و برنامه ریزی					
داشتن استقلال و عدم وابستگی					
داشتن انگیزه و رعایت اصول زیبانویسی					

- ارزشیابی معلم
- خیلی خوب
 - خوب
 - قابل قبول
 - نیاز به تلاش بیشتر

ارزیابی عملکرد دانش آموز در انجام تکالیف بیک نظر اولیاء محترم



پیک هفتگی ۲۲

پایه ششم



WWW.SALAMPUB.COM

دانش آموز مثبت اندیش یعنی هر انرژی که از خودت ایجاد کنی دقیقاً به تو برمی گردد پس مثبت بیاندیش.



کلاس:

دبستان:

نام زیبای من:

فارسی: مرور درس دوازدهم و سیزدهم (صفحه ۸۴ تا ۹۲)
 علوم: درس یازدهم (صفحه ۸۱ و ۸۲)
 اجتماعی: درس هجدهم (صفحه ۹۲ تا ۹۶)

قرآن: درس یازدهم (صفحه ۷۶ تا ۷۹)
 هدیه های آسمان: درس چهاردهم
 ریاضی: خط و زاویه (صفحه ۱۰۲ تا ۱۰۵)

قرآن و هدیه های آسمان



۱ هر کلمه را به هم معنی خود وصل کنید.

کَثِیرٌ

بَیِّنَاتٌ

حَدِیدٌ

نَاسٌ

تَأْكُلُونَ

وَلَكُمْ

برای شما

می خوری

مردم

زیاد

آهن

دلایل روشن

۲ برای موفقیت در هر کاری چه چیزهایی لازم است؟ (چهار مورد بنویسید)

۳ امام علی (ع) درباره ی «حفظ نظم در کارها»، چه سفارشی فرموده اند؟

۴ خداوند در قرآن کریم درباره ی «سعی و تلاش» چه فرموده اند؟

ریاضی

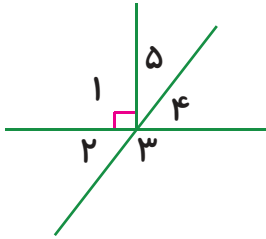
نادرست	درست
<input type="radio"/>	<input type="radio"/>
<input type="radio"/>	<input type="radio"/>
<input type="radio"/>	<input type="radio"/>

۱ فاصله ی یک نقطه تا یک خط، طول پاره خطی است که از آن نقطه بر خط عمود شود.

۲ اگر 20% یک زاویه نیم صفحه را رنگ بنزیم 160 درجه ی آن هنوز رنگ نشده است.

۳ در هر نوع مثلث قائم الزاویه، مجموع دو زاویه ی تند 90 درجه می باشد.





۴ با توجه به شکل مقابل در جاهای خالی عدد یا عبارت مناسب بنویسید.

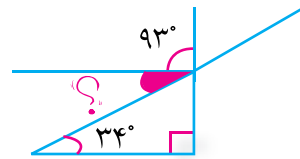
مجموع زاویه‌های «۱، ۲، ۵» برابر با درجه است.

زاویه‌های و مکمل یکدیگرند.

زاویه‌های ۲ و ۴، دو زاویه‌ی می‌باشند.

به دو زاویه‌ی ۴ و ۵ که مجموعشان می‌باشد می‌گوییم.

۵ در هر شکل اندازه‌ی زاویه خواسته شده در هر شکل را مشخص کنید.



۶ دو زاویه «س» و «ن» مکمل یکدیگر هستند. اگر اندازه زاویه «س» خمس اندازه زاویه «ن» باشد هر کدام چند

درجه خواهند بود؟

فارسی

۱ عبارت «تا پول‌داری رفیقتم، قربان بند کیفتم» با کدام یک از موارد زیر در رابطه است؟

ضرب‌المثل

خاطره‌نویسی

کنایه

مبالغه

۲ حکایت «عمر گران‌مایه» اثری از می‌باشد و در کتاب او آمده است.

۳ ماجرای گفت‌وگو میان دو برادر که یکی از آنها آهنگر و دیگری خدمتکار حاکم بود را به زبان امروزی

و نثر ساده بنویسید.



.....

.....

.....

۴ متضاد (مخالف) کلمه‌های زیر را نوشته و سپس با کلمه‌ای که نوشته‌اید جمله بسازید.

توانگر ≠

صیف ≠

۵ زیبا بنویس.

من وطنم ایران را بسیار دوست دارم.

علوم

۱ ساقه‌های سبزرنگ گیاهان مانند ساقه‌ی که دارند نیز غذا سازی می‌کنند.

۲ موجودات زنده برای تنفس به نیاز دارند.

۳ در نتیجه‌ی عمل فتوسنتز گیاهان چه چیزی تولید می‌شود؟

اکسیژن کربن دی‌اکسید غذا موارد اول و سوم

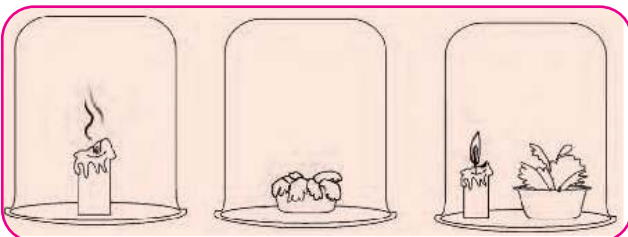
۴ در کدام گزینه به ترتیب «ساقه‌ی نشاسته دار، دانه‌ی نشاسته دار و میوه‌ی نشاسته دار» آمده است؟

کرفس، موز، گندم سیب‌زمینی، نارگیل
سیب‌زمینی، گندم، موز لویا، آفتابگردان، لیمو

۵ برگ‌ی که در تصویر مقابل می‌بینید را اصطلاحاً چه می‌نامیم؟ چه کاری انجام می‌دهد؟



۶ تصاویر زیر مربوط به یک آزمایش می‌باشد. آزمایش را توضیح داده و نتیجه گیری کنید.



(۱)

(۲)

(۳)

شکل (۱):

شکل (۲):

شکل (۳):

۱ بزرگ‌ترین منبع ماهیان خاویاری جهان است که از گران‌ترین غذاها بوده و به مشهور است.

۲ صید ماهی در دریای خزر از تا ممنوع است.

۳ «انبار نفت جهان» به کدام منطقه گفته می‌شود و دلیل این نام‌گذاری چیست؟

۴ هر ماهی را به محل زندگی‌اش وصل کنید.

شوریده	ماهی شیر	کولی	سرخو	ماهی سفید
خلیج فارس و دریای عمان			دریای خزر	
کفال	فیل ماهی	سوف	قباد	زبیده

ارزشیابی معلم	عملکرد ↓				ارزیابی ←
	نیاز به تلاش بیشتر	قابل قبول	خوب	خیلی خوب	
<input type="checkbox"/> خیلی خوب					میزان فهم و درک مطالب
<input type="checkbox"/> خوب					مدیریت زمان و برنامه ریزی
<input type="checkbox"/> قابل قبول					داشتن استقلال و عدم وابستگی
<input type="checkbox"/> نیاز به تلاش بیشتر					داشتن انگیزه و رعایت اصول زیبانویسی

ارزیابی عملکرد دانش آموز در انجام تکالیف پیک نظر اولیاء محترم

پیک هفتگی ۲۶

پایه ششم



WWW.SALAMPUB.COM

دانش آموز خیر خواه یعنی برای دیگران فقط خیر و خوبی را بخواه.



کلاس:

دبستان:

نام زیبای من:

فارسی: مرور درس پانزدهم (صفحه ۹۸ تا ۱۰۰)

علوم: درس سیزدهم (صفحه ۹۳ تا ۹۶)

ریاضی: کاربرد درصد در آمار و احتمال (صفحه ۱۲۶ تا ۱۳۰) اجتماعی: درس بیست و یکم (صفحه ۱۰۸ تا ۱۱۱)

قرآن: درس شانزدهم

هدیه های آسمان: درس شانزدهم

قرآن و هدیه های آسمان

۱ معنی کلمه های زیر را بنویسید.

آمنوا: وَ تَجَاهِدُونَ: سَبِيلِ اللَّهِ: أَنْفُسِكُمْ:

۲ خواهر امام رضا (ع) که حرمش در شهر قم است، نامش و لقبش می باشد.

۳ شاه چراغ (ع) از فرزندان امام است و حرم او در شهر قرار دارد.



۴ برخی از آداب زیارت را بنویسید.

Four empty rounded rectangular boxes for writing answers.

ریاضی

۱ وقتی تاسی را می اندازیم، احتمال این که عددی بیشتر از ۳ بیاید تقریباً چند درصد است؟

۷۲ درصد ۶۶/۶ درصد ۵۰ درصد ۳۷/۸ درصد

۲ زمانی که روی دادن یک پیشامد، حتمی و قطعی باشد آن را با چه عبارتی بیان می کنیم؟

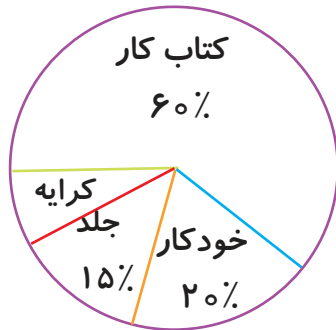
احتمال کم احتمال زیاد پنجاه پنجاه صد درصد



۳ قرار است سکه‌ای را ۱۰ بار بیندازیم، اگر برحسب اتفاق ۹ بار روی سکه آمده باشد احتمال این که در مرتبه‌ی آخر پشت سکه بیاید چند درصد است؟

- ۵۰% ۱۰% ۹۰% ۲۵%

۴ اگر به سمت هر یک از اهداف زیر تیراندازی کنیم احتمال برخورد تیر به قسمت رنگی کدام شکل بیشتر است؟



۵ افسانه ۳۰۰۰۰ تومان پول داشت و برای خرید به کتاب‌فروشی رفت با توجه به نمودار مقابل به سؤالات پاسخ دهید.

* افسانه چند تومان برای خرید کتاب کار ریاضی پرداخت کرده است؟

* چند تومان از پولش را کرایه داده است؟

* اگر قیمت هر خودکار ۱۵۰۰ تومان باشد او چند عدد خودکار خریده است؟



۶ چرخنده مقابل را می‌چرخانیم؛

احتمال این که عقربه روی قسمت قرمز رنگ توقف کند چند درصد است؟

فارسی

۱ کدام یک شبه جمله نیست؟

- آوار آوخ زینهار وای

۲ متضاد کلمه‌های زیر را بنویسید.

فرجام \neq ادبار \neq جاهل \neq بیهوده \neq

۳ مخفف (کوتاه شده) کلمه‌های زیر را بنویسید.

نگاه کاه بهتر کوتاه که این

۴ مصرع دیگر هر یک از ابیات زیر را نوشته و سپس معنی هر بیت را به زبان ساده بنویسید.

آن شاخ که سر برکشد و میوه نیارد

کردار نکو کن، که نه سودی ست ز گفتار

۵ با استفاده از کلمات (نوروز، دید و بازدید، پدر بزرگ و مادر بزرگ) یک داستان کوتاه بنویسید.

علوم

۱ برخی از باکتری‌ها مفید هستند و همه‌ی آن‌ها بیماری‌زانیستند. درست نادرست

۲ مخاط بینی و راه‌های تنفسی جلو ورود برخی از میکروب‌ها به بدن را می‌گیرند. درست نادرست

۳ عامل ایجاد بیماری‌های واگیر، جاندارانی به نام هستند.

۴ نوعی پشه، ناقل بیماری و سگ ناقل بیماری است.

۵ به چه نوع بیماری‌هایی «واگیر» گفته می‌شود؟

۶ به طور خلاصه بگویید گیوچه‌های سفید از چه راه‌هایی میکروب‌ها را از بین می‌برند.

۲- _____

۱- _____

۷ برای سالم نگه داشتن هر یک از قسمت‌های بدن که مشخص شده است، سه راه پیشنهاد کنید.

سلامتی دندان‌ها:

سلامتی ستون مهره:

اجتماعی

۱ دستگاه چاپ توسط و تلسکوپ به وسیله اختراع شده است.

۲ بیشترین نفوذ و دخالت بیگانگان در کشور ما در دوره‌ی حکومت‌های و بوده است.

چه علت‌هایی باعث شد اروپاییانی که در عصر تاریکی بودند، تغییر کرده و قدرتمند شوند؟ (۴ مورد)

الف:
ب:
ج:
پ:

۳ کلمه‌ی «استعمار» به چه معنی است و به چه کشورهای استعمارگر می‌گویند؟

.....

ارزشیابی معلم	ارزیابی ← عملکرد			
	نیاز به تلاش بیشتر	قابل قبول	خوب	خیلی خوب
<input type="checkbox"/> خیلی خوب				میزان فهم و درک مطالب
<input type="checkbox"/> خوب				مدیریت زمان و برنامه ریزی
<input type="checkbox"/> قابل قبول				داشتن استقلال و عدم وابستگی
<input type="checkbox"/> نیاز به تلاش بیشتر				داشتن انگیزه و رعایت اصول زیبانویسی

ارزیابی عملکرد دانش آموز در انجام تکالیف پیک نظر اولیه، محترم