

پیک هفتگی

پنجم دبستان

۵



فعالیت های پایان هفته به همراه
ویدئوهای آموزشی

مدیرفروش: ۰۹۱۰۲۰۱۵۲۰۰

 salampub.com



(با اسکن QR کد محصولات جذاب این پایه را مشاهده کنید.)

پیک هفتگی ۲

پایه پنجم



WWW.SALAMPUB.COM

دانش آموز دانشمند یعنی کسی که فرق میان «من می دانم» و «من فکر می کنم» را می داند.



کلاس:

دبستان:

نام زیبای من:

قرآن: جلسه دوم سوم صفحه ۴ الی ۸
هدیه های آسمان: درس اول و دوم صفحه ۱۳ الی ۱۶
ریاضی: معرفی میلیارد صفحه ۵ الی ۱۰
فارسی: درس اول صفحه ۱۰ الی ۱۴
علوم: درس اول صفحه ۴ الی ۶
اجتماعی: درس اول و دوم صفحه ۴ الی ۸

قرآن و هدیه های آسمان

۱ عبارات های قرآنی را بخوانید، ترجمه ی آن ها را کامل کنید و حروف ناخوانا را در هر آیه با رنگ **قرمز** مشخص کنید.

وَاحْسِنُوا إِنَّ اللَّهَ يُحِبُّ الْمُحْسِنِينَ

و قطعاً خدا دوست دارد را

وَاطِيعُوا اللَّهَ وَرَسُولَهُ

و را و او را

۲ یکی از نام های قرآن «**نور**» است. به نظر شما چرا خداوند قرآن را نور نامیده است؟

۳ امام علی (ع) فرموده اند: «**قرآن، دریایی است که هیچ گاه خشک نمی شود**» چه شباهتی میان دریا و قرآن وجود دارد؟



۱ معنای کلمات زیر را بنویسید .



۲ کلمه های متضاد را از متن درس (تماشا خانه ی طبیعت) پیدا کنید و بنویسید؟

۳ زیباترین جمله ی درس که نظر شما را جلب کرده است را بنویسید؟ دلیل شما از زیبا بودن این جمله چیست؟

.....

.....

۴ با استفاده از کلمات (همکلاسی، طبیعت، پاییز، تخته سیاه) یک داستان کوتاه بنویس.

.....

.....

.....

یکی از مهم ترین نکاتی که در ارتباط افراد وجود دارد، احترام به حریم شخصی افراد است.

۱ حریم شخصی هر فرد را در چند جمله توضیح دهید. می توانید آن را به هر چیزی تشبیه کنید؟

.....

.....

۲ چند نوع ارتباط غیر کلامی که با حالت های صورت امکان پذیر می شود را نقاشی کنید و پیام هر حالت را بنویسید.

۳ یک احساس **خوشایند** و یک احساس **ناخوشایند** که در طول هفته ی گذشته برایتان پیش آمده است را بنویسید.

ریاضی

۱ در کادرهای زیر جمعیت برخی از کشورهای جهان نوشته شده است. آن ها را از کمترین به بیشترین جمعیت مرتب کنید.

برزیل ۲۰۴۰۰۰۰	اندونزی ۳۵۰۰۰۰۰۰	چین ۱۳۷۲۰۰۰۰۰۰	هند ۱۲۶۰۰۰۰۰۰۰	آمریکا ۳۳۰۰۰۰۰۰۰
------------------	---------------------	-------------------	-------------------	---------------------

..... < < < <

۲ با استفاده از عددهای ۱۰، ۱۰۰، ۱۰۰۰، ۱۰،۰۰۰، ۱،۰۰۰۰، ۱۰۰،۰۰۰، ۱،۰۰۰۰۰، ۱۰،۰۰۰۰۰۰ ضرب هایی بنویسید که حاصل یک میلیارد شود.

..... × = یک میلیارد × = یک میلیارد

..... × × = یک میلیارد

..... × × = یک میلیارد

۳ اگر جمعیت فعلی کره ی زمین را ۷ میلیارد و سیصد میلیون نفر و جمعیت آسیا را ۴ میلیارد و دوست میلیون نفر در نظر بگیریم، جمعیت بقیه ی قاره های کره ی زمین چند نفر است؟

عدد ۶۰۱۳۴۹۱۷۴۰۰۰ را به حروف بنویسید.

۴

به حروف:

چه رقم‌هایی در مرتبه‌ی میلیارد قرار دارد؟

عدد ۹ در چه مرتبه‌ای و در چه طبقه‌ای قرار دارد؟

علوم

درباره‌ی اقداماتی که برای برنده شدن در مسابقه‌ی **فرره‌ی چرخان** انجام داده‌اید، به سؤالات زیر پاسخ دهید.

۱

چه چیزهایی را باید تغییر دهید؟

چه چیزهایی را باید اندازه بگیرید؟

چه چیزهایی را نباید تغییر دهید؟

ارزیابی معلم	نیاز به تلاش بیشتر	قابل قبول	خوب	خیلی خوب	ارزیابی ←	عملکرد ↓
<input type="checkbox"/> خیلی خوب						میزان فهم و درک مطالب
<input type="checkbox"/> خوب						مدیریت زمان و برنامه ریزی
<input type="checkbox"/> قابل قبول						داشتن استقلال و عدم وابستگی
<input type="checkbox"/> نیاز به تلاش بیشتر						داشتن انگیزه و رعایت اصول زیبانویسی

ارزیابی عملکرد دانش آموز در انجام تکالیف پیک نظر اولیاء محترم

پیک هفتگی ۵

پایه پنجم



WWW.SALAMPUB.COM

دانش آموز با فرهنگ یعنی قدرت تحمل انتقاد دیگران از خودت را بالا ببر.



کلاس:

دبستان:

نام زیبای من:

اجتماعی: درس چهارم صفحه ۱۶ الی ۱۹

قرآن: درس دوم و سوم صفحه ۱۶ الی ۱۹

ریاضی: فصل دوم کسر صفحه ۲۲ الی ۲۸

هدیه‌های آسمان: درس چهارم صفحه ۲۶ الی ۲۹

علوم: درس دوم صفحه ۱۴ الی ۱۶

فارسی: درس سوم صفحه ۲۶ الی ۳۰

قرآن و هدیه‌های آسمان

۱ عبارتهای قرآنی زیر را بخوانید و کلمات وقف شده را آن طور که می‌خوانید بنویسید.

.....

.....

وَجَاهِدُوا فِي اللَّهِ حَقَّ جِهَادِهِ

قَالَ يَا قَوْمِ اعْبُدُوا اللَّهَ مَا لَكُمْ مِنْ إِلَهٍ غَيْرُهُ



۲ پیامبری که در گهواره سخن گفتند نام دارد.

۳ زمانی که حضرت عیسی (ع) هنوز در گهواره بود، خداوند به او چه فرمود؟

.....

.....

۴ حضرت عیسی (ع) لقبش است و کتاب آسمانی او نام دارد

و او پیامبر اولوالعزم است و او برای هدایت قوم خود

فرستاده شده بودند ایشان حدود سال پیش از تولد پیامبر اکرم متولد شده‌اند.

۵ معجزات عیسی (ع) عبارتند از :

فارسی

۱ مترادف کلمات زیر را بنویسید.

بُرنا	دل گشا	شکوه	بلندآوازه
.....



۲ کلمه های هم خانواده را به یکدیگر وصل کنید.

سؤال	خلاصه	شرایط	طیب	مسئله
مختصر	مشروطه	مسائل	اطباء	مطب

۳ متن زیر را با علامت‌های نگارشی مناسب کامل کنید. (، -!-? -.-: «»)

طیب نگاهی به او کرد و گفت () () () بله، خیلی فرق می‌کند () فقط این تکه گوشت () سالم مانده است () پس معلوم می‌شود آن نقطه‌ی شهر که این گوشت در آن آویزان بوده است () هوای پاکیزه‌تری دارد و بیمارستان هم باید در همان محل ساخته شود () ()

۴ با استفاده از کلمات (طبیعت ، دوا ، درمانگاه ، خیال) یک داستان کوتاه بنویس.

.....

.....

.....

.....

اجتماعی

۱ سوره‌ی درباره‌ی مشورت کردن می‌باشد.

معنی آیه‌ی ۳۸ این سوره را بنویسید.....

.....

۲ گروه یعنی :

۳ برای این که یک گروه خوب و موفق باشیم، چه مواردی را باید رعایت کنیم؟

.....
 

۴ دو مورد از کارهایتان که چه در مدرسه و چه در بیرون از مدرسه با همفکری و مشورت انجام داده‌اید را بنویسید. این همفکری چه نتیجه‌ای داشته است؟

.....

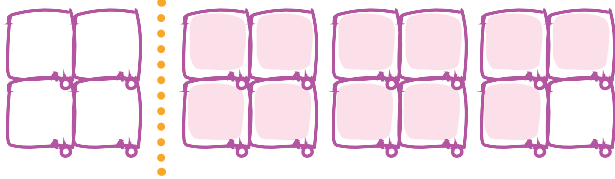
علوم

۱ از بین شکل‌های زیر تغییری که با دخالت انسان در طبیعت انجام شده است را پیدا کنید و درباره‌ی مفید و یا مضر بودن آن توضیح دهید.



.....

ریاضی



۱ با توجه به شکل به سؤالات زیر پاسخ دهید.

 کسر مربوط به شکل را بنویسید.

 روی محور نشان دهید.

 با یک تقسیم، کسر را به عدد مخلوط تبدیل کنید.

$$\frac{3}{5} \frac{1}{5} \bigcirc \frac{3}{2}$$

$$10 \frac{1}{3} \bigcirc 11 \frac{3}{7}$$

$$5 \frac{3}{4} \bigcirc 5 \frac{1}{2}$$

۲ مقایسه کنید.

۳ عددهای مخلوط را به کسر تبدیل کنید.

$$7\frac{2}{3} =$$

$$8\frac{1}{9} =$$

$$11\frac{3}{4} =$$

$$10\frac{1}{5} =$$

۴ کسره‌های زیر را به عدد مخلوط تبدیل کنید.

$$\frac{19}{3} =$$

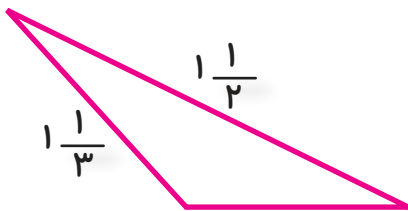
$$\frac{62}{5} =$$

$$\frac{107}{4} =$$

۵ عبارتهای زیر را روی محور نشان دهید و پاسخ را بنویسید.

$$4\frac{1}{3} + 2\frac{1}{2} =$$

$$3\frac{3}{4} - 1\frac{1}{2} =$$



۶ محیط مثلثی ۳ متر است. اگر اندازه‌ی دو ضلع آن $1\frac{1}{2}$ و $1\frac{1}{3}$ متر باشد، اندازه‌ی ضلع سوم را به دست آورید.

$$1\frac{1}{3} + 5\frac{2}{5} = ?$$

۷ یک مسئله بنویسید که جواب آن حاصل عبارت مقابل باشد و سپس آن را حل کنید.

.....

.....

ارزیابی معلم	ارزیابی ←				عملکرد ↓
	نیاز به تلاش بیشتر	قابل قبول	خوب	خیلی خوب	
خیلی خوب <input type="checkbox"/>					میزان فهم و درک مطالب
خوب <input type="checkbox"/>					مدیریت زمان و برنامه ریزی
قابل قبول <input type="checkbox"/>					داشتن استقلال و عدم وابستگی
نیاز به تلاش بیشتر <input type="checkbox"/>					داشتن انگیزه و رعایت اصول زیبانویسی

ارزیابی عملکرد دانش آموز در انجام تکالیف پیک نظر اولیاء محترم

پیک هفتگی ۲۰

پایه پنجم



WWW.SALAMPUB.COM

دانش آموز شادمان یعنی خودت شاد باش و باعث خوشحال شدن دیگران هم باش.



نام زیبای من:

دبستان:

اجتماعی: درس چهاردهم صفحه ۷۳ الی ۷۷

قرآن: درس ۸ صفحه ۶۲ الی ۶۶

علوم: درس هشتم صفحه ۶۶ الی ۶۸

هدیه‌های آسمان: درس یازدهم صفحه ۸۳ الی ۸۴

ریاضی: درس پنجم صفحه ۹۸ الی ۱۰۴

فارسی: درس دوازدهم صفحه ۹۴ الی ۹۶

قرآن و هدیه‌های آسمان

عبارات قرآنی زیر را با حالت وقف بخوانید و حالت درست وقف آخر را بنویسید و جاهای خالی را با کلمات مناسب کامل کنید.

..... از عسل

وَ اَنْهَارٌ مِّنْ عَسَلٍ مَّصْفًیّ

و خدا برای شما از آب را

وَ اَنْزَلَ لَكُمْ مِّنَ السَّمَاءِ مَاءً



معنای صحیح را علامت بزیند.

صدقات

انهار

اذی

معروف

بخشش ها

رودها

آزار

کاربر

از ویژگی‌های امام حسن عسگری (ع) ۴ نمونه بنویسید.

Four empty rounded rectangular boxes for writing.

امام حسن عسگری (ع) فرموده‌اند: «بهترین دوست تو کسی است که اشتباه تو را فراموش کند و

نیکی تو را از یاد نبرد» این حدیث امام چه ارتباطی با جمله‌ی «همیشه نیمه‌ی پر لیوان را ببین» دارد.



فارسی

۱ مترادف کلمات زیر را بنویسید.

فراز	موبدان	جلال	بفکند خوار
شیردل	پیمودن	جرئت	یزدان

۲ علامت‌های نگارشی مناسب را در جاهای خالی قرار دهید. (. ، - ؛ -)

خداوند () مهر آن کودک را در دل سیمرغ افکند () چنان‌که او را به چشم فرزندی نگریست () فرود آمد و چنگ زد و کودک را از میان سنگ‌ها برداشت و به آشیانه‌ی خود برد () جوجه‌های سیمرغ هم از دیدن کودک () شاد شدند و او را در میان گرفتند () سیمرغ () نام کودک را () دستان () گذاشت ()

۳ با استفاده از کلمات (تحصیل ، آسمان ، زیرک ، شهر) یک داستان کوتاه بنویسید.

.....

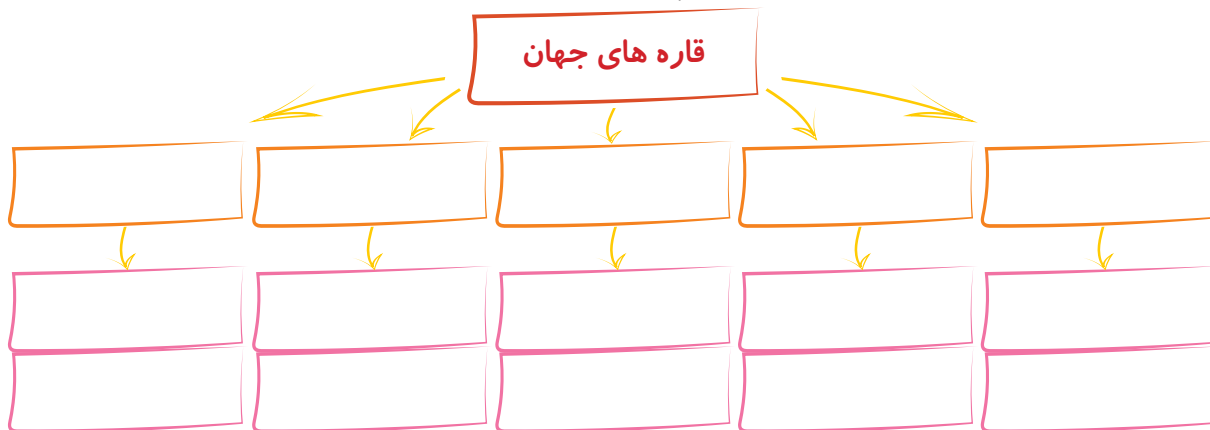
.....

.....

اجتماعی

۱ پرجمعیت‌ترین قاره‌ی جهان می‌باشد و کشورهای و پرجمعیت‌ترین کشورهای جهان هستند.

۲ از هر قاره جهان دو کشور به صورت نمونه نام ببرید.

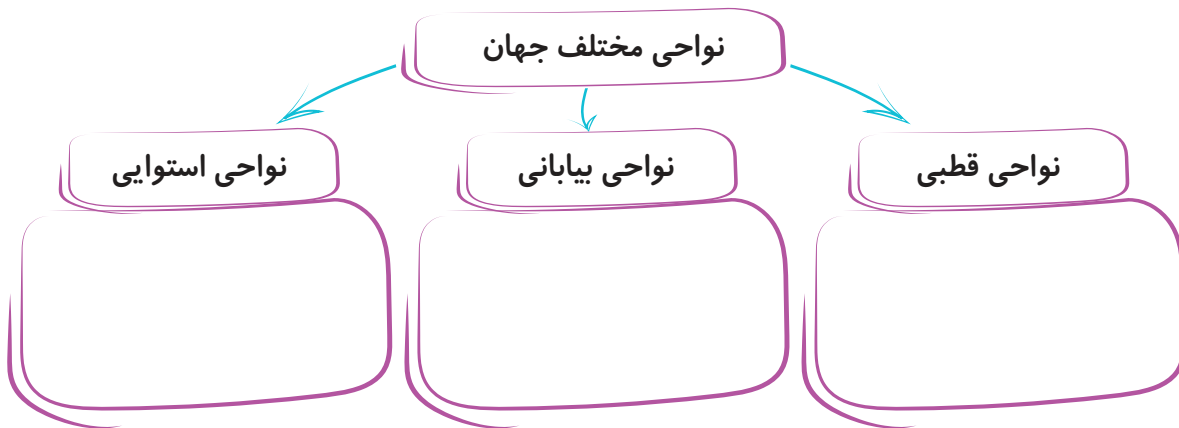


۳ نام اقیانوس‌های جهان را بنویسید.



Blank space for writing the names of the world's oceans.

۴ در مورد هر ناحیه، مختصری توضیح دهید.



علوم

۱ یک جسم زمانی حرکت می‌کند که به آن وارد می‌شود.

۲ در بدن ما استخوان‌ها نقش دارند. (اهرم - تکیه‌گاه)

۳ ترازوی دو کفه‌ای نوعی است.


۴ نمونه‌ای از ۳ نوع اهرم را بکشید و محل نیرو، جسم و تکیه‌گاه را مشخص کنید و برای هر نوع ۲

مثال بنویسید.

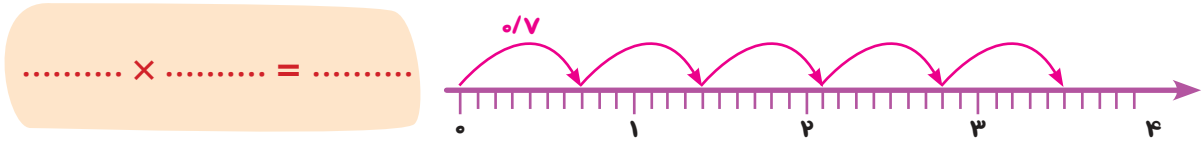
اهرم نوع اول:	اهرم نوع دوم:	اهرم نوع سوم:
..... ، مثال: ، مثال: ، مثال:

۵ در چه زمانی برای استفاده از یک اهرم نیروی کمتری استفاده می‌شود؟

Blank space for explaining when less force is needed using a lever.



۱ برای محور زیر یک عبارت ضرب بنویسید و حاصل را پیدا کنید.



۲ ابتدا عامل‌های ضرب را به کسر تبدیل کرده، سپس حاصل را به صورت عدد اعشاری بنویسید.

$$0/7 \times 1/2 =$$

$$10/1 \times 0/9 =$$

۳ حاصل عبارت‌های زیر را به دست آورید.

$$(3/92 + 0/08) \times (2 - 0/93) =$$

$$\left(\frac{3}{5} \times 0/3\right) + \frac{18}{25} =$$

۴ خیاطی برای دوختن یک مانتو $2/23$ متر پارچه مصرف می‌کند. او برای دوختن ۱۵ دست مانتو

مشابه، چند متر پارچه مصرف می‌کند؟

۵ برای ضرب اعشاری زیر، شکل مناسب کشیده و حاصل را از راه گسترده به دست آورید.

$$2/5 \times 1/8 =$$

ارزشیابی معلم	ارزیابی ← عملکرد			
	نیاز به تلاش بیشتر	قابل قبول	خوب	خیلی خوب
<input type="checkbox"/> خیلی خوب				
<input type="checkbox"/> خوب				
<input type="checkbox"/> قابل قبول				
<input type="checkbox"/> نیاز به تلاش بیشتر				
				میزان فهم و درک مطالب
				مدیریت زمان و برنامه ریزی
				داشتن استقلال و عدم وابستگی
				داشتن انگیزه و رعایت اصول زیبانویسی

ارزیابی عملکرد دانش آموز در انجام تکالیف پیک نظر اولیاء محترم

پیک هفتگی ۳۰

پایه پنجم



WWW.SALAMPUB.COM

دانش آموز ورزشکار یعنی کسی که به ورزش و سلامتی جسم خود اهمیت می دهد.



کلاس:

دبستان:

نام زیبای من:

قرآن: درس دوازدهم صفحه ۱۰۰ الی ۱۰۴ اجتماعی: درس ۲۱ و ۲۲ صفحه ۱۰۸ الی ۱۱۱

هدیه های آسمان: درس هفدهم صفحه ۱۲۳ الی ۱۲۷ علوم: درس دوازدهم صفحه ۱۰۱ الی ۱۰۴

فارسی: درس هفدهم صفحه ۱۳۶ الی ۱۴۰ ریاضی: مروری بر فصل آمار و احتمال صفحه ۱۲۶ الی ۱۳۹

قرآن و هدیه های آسمان

۱ پیامبر گرامی (ص) می فرماید: «چه کسانی پس از پیامبران والاترند»؟

اهل نماز

اهل قرآن

شیعیان


امامان

۲ ترجمه ی پیام قرآنی زیر را بنویسید.

فَسْئَلُوا أَهْلَ الذِّكْرِ إِنْ كُنْتُمْ لَا تَعْلَمُونَ

۳ منظور از "یوم الحساب" چیست؟

۴ از ویژگی های نیکوکاران و بدکاران را هر کدام ۴ مورد بنویسید.



۵ ضرب المثل «هر چه کنی به خود کنی، گر همه نیک و بد کنی» چه رابطه ای با عاقبت ما در دنیای

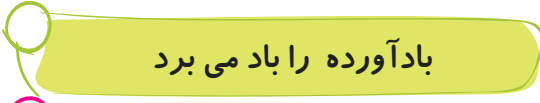
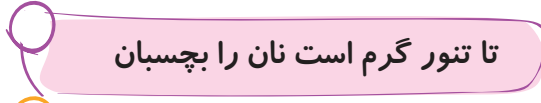
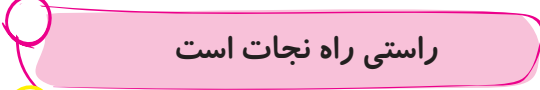
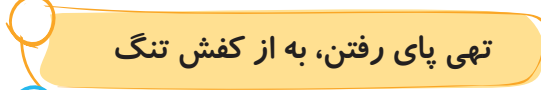
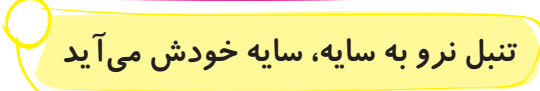

آخرت دارد؟



۱ مفهوم عبارت های زیر را بنویسید.

- همه چیز را همگان دانند: 
- همه جا محل یادگیری است: 

۲ حکایت «جوان و راهزن» بیان کننده ی کدام مثل می باشد؟

 بادآورده را باد می برد	 تا تنور گرم است نان را بچسبان
 راستی راه نجات است	 تهی پای رفتن، به از کفش تنگ
 تنبل نرو به سایه، سایه خودش می آید	 سنگ مفت گنجشک مفت

۳ متن های ادبی زیر را به زبان ساده بنویسید.

 پروردگارا، ما را بدان نوری پرور که بندگان نیک خود را پروردی.

.....

۴ متن زیر را تا یک بند ادامه بده.

امسال هم با تمام پستی و بلندی ها و خاطرات خوب و بد تمام شد و ...

.....

.....

.....

۱ جدول زیر را کامل کنید.

	نام وزیر:	وزیران ایرانی ایلخانان
	اقدامات:	
	نام وزیر:	
	اقدامات:	

۲ چه کسی و چگونه حکومت ایلخانان را تأسیس کرد؟

.....

۳ شاعران نامی ایرانی در زمان مغول و تیموری را بنویسید و به ترتیب یک اثر از هر کدام را نام ببرید.

شاعران:

آثار شاعران:

.....

.....

علوم

۱ فاطمه به پشت و روی یکی از برگ های گلدان خانه شان مقداری روغن بادام مالید. بعد از چند روز برای مشاهده ی برگ سراغ گلدان رفت.

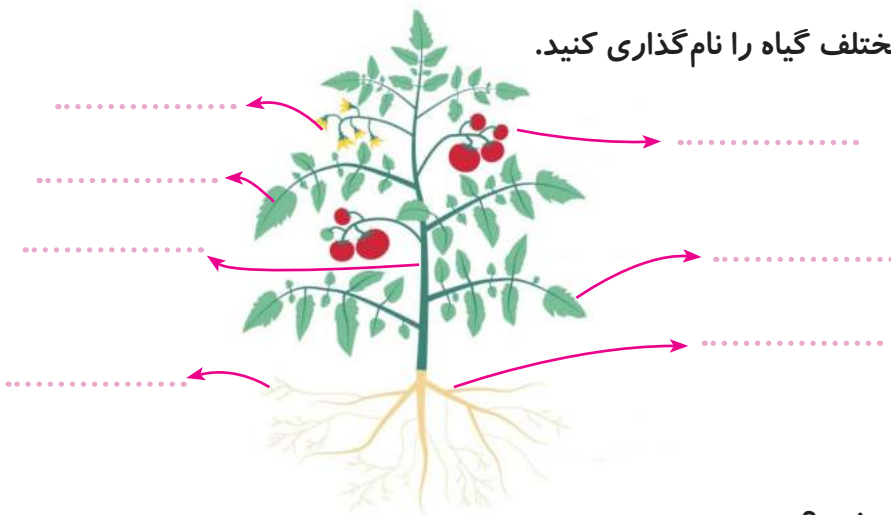
الف) فاطمه چه چیزی مشاهده کرد؟

.....

ب) چرا این اتفاق افتاده بود؟

.....

۲ در گیاه زیر قسمت های مختلف گیاه را نام گذاری کنید.



.....

.....

.....

.....

.....

۳ هوا چگونه وارد گیاهان می شود؟

.....

۱ برای مقایسه اندازه‌ی قد دانش آموزان زیر، نمودار مناسبی رسم کنید.

علی ۱۲۵ سانتی‌متر	مهدی ۱۴۰ سانتی‌متر	مجید ۱۳۵ سانتی‌متر
وحید ۱۶۰ سانتی‌متر	سعید ۱۵۰ سانتی‌متر	رضا ۱۴۵ سانتی‌متر



۲ میانگین چهار عدد $\frac{1}{4}$ ، $\frac{2}{4}$ ، $\frac{3}{4}$ ، $\frac{4}{4}$ را به دست آورید.



۳ مجموع ۵ عدد متوالی ۱۵۰ است. عدد کوچک‌تر این مجموعه را به دست آورید.



۴ اگر یک سکه را بیندازیم، احتمال دارد که رو یا پشت بیاید. به همین ترتیب برای موارد زیر احتمال‌های موجود را توضیح دهید.

(الف) تولد نوزاد در روز شنبه:



(ب) بیمار شدن فردی در بهمن ماه:



ارزیابی معلم	عملکرد				ارزیابی ←
	نیاز به تلاش بیشتر	قابل قبول	خوب	خیلی خوب	
<input type="checkbox"/> خیلی خوب					میزان فهم و درک مطالب
<input type="checkbox"/> خوب					مدیریت زمان و برنامه ریزی
<input type="checkbox"/> قابل قبول					داشتن استقلال و عدم وابستگی
<input type="checkbox"/> نیاز به تلاش بیشتر					داشتن انگیزه و رعایت اصول زیبانویسی

ارزیابی عملکرد دانش آموز در انجام تکالیف یک نظر اولیه محترم

مشخصات کتاب

پیک هفتگی رحلی پنجم دبستان

عنوان کتاب

پنجم دبستان

گروه سنی

معصومه شمس آبادی

مؤلف

رحلی

قطع کتاب

۱۲۰ صفحه (۳۰ پیک چهار صفحه ای مهر تا اردیبهشت)

تعداد صفحات