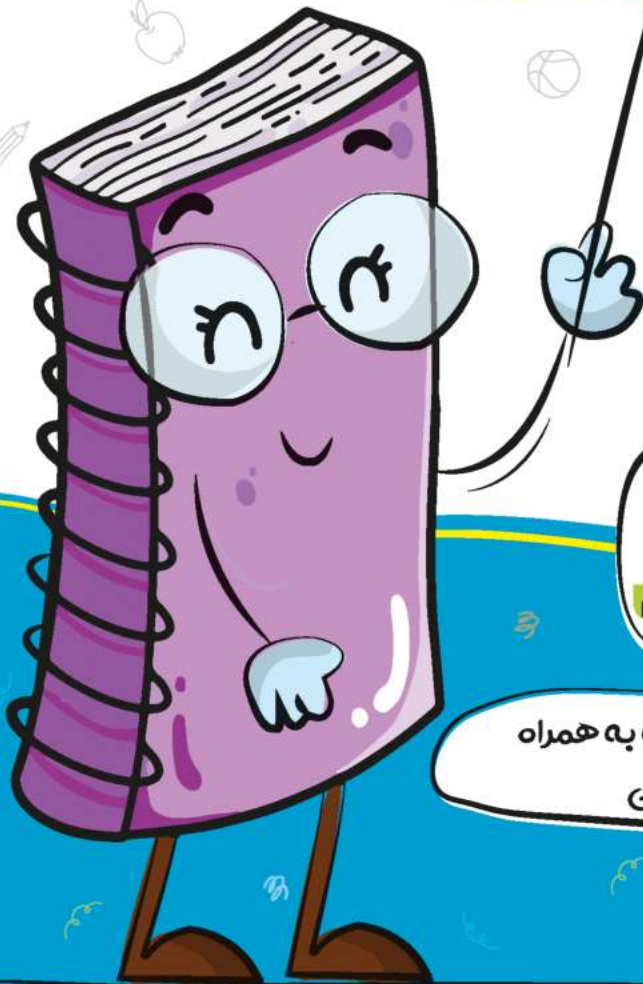


پیک هفتگی

چهارم دبستان

۴



فعالیت های پایان هفته به همراه
ویدئوهای آموزشی



مدیرفروش: ۰۹۱۰۲۰۱۵۲۰۰

 salampub.com



(با اسکن QR کد محصولات جذاب این پایه را مشاهده کنید.)


پیک هفتگی ۱

پایه چهارم



WWW.SALAMPUB.COM

دانش آموز مهربان یعنی به دوستانت خوبی کن تا محبت آن‌ها نسبت به تو بیشتر شود.



کلاس:

دبستان:

نام زیبای من:

فارسی: از صفحه ۸ تا ۱۴ ستایش - آفریدگار زیبایی
علوم: صفحه ۲ تا ۴ درس یک
اجتماعی: صفحه ۱ تا ۴ درس اول

قرآن: از صفحه ۱ تا ۴ درس اول
هدیه های آسمان: از صفحه ۸ تا ۱۲
ریاضی: از صفحه ۱ تا ۵ فصل اول الگو بابی - عدد نویسی

قرآن و هدیه های آسمان

۱ هر کدام از کلمه های زیر را همانطور که می خوانید، بنویسید.

فَاسْتَقِمَّ:

قَوْلًا:

إِلَى:

۲ معنی کلمه های قرآنی را بنویسید.


الله: رَبَّنَا: حِسَاب: يَوْم:

۳ هر یک از پدیده های زیبای خداوند، کدام نیاز انسان را جواب می دهند؟

گندم: روز: شب:
رودخانه: حیوانات اهلی: دندان:

۴ با توجه به تصویر، جدول را کامل کنید.

خداوند برای برطرف کردن هر یک از نیازهای این جانور، چه راههایی قرار داده است؟

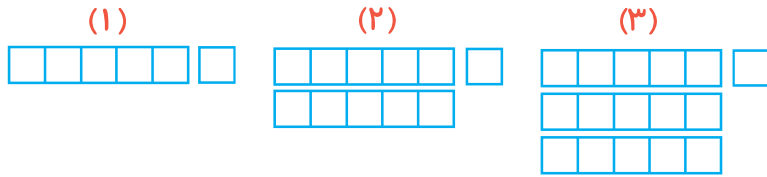


نیازها	مسکن	عَدا	حرکت	پوشش
نام جانور				



ریاضی


۱ بین شکل‌ها چه رابطه‌ای وجود دارد؟ پیدا کنید و الگو را یک مرحله‌ی دیگر ادامه دهید.



۲ کیارش و داریوش، بازی با اعداد را شروع کرده‌اند. از چپ به راست
 ↓
 کیارش: ۵۷۰ داریوش: ۶۱۰ کیارش: ۶۵۰ داریوش: ۶۹۰
 حالا شما ادامه دهید:

→ کیارش: داریوش: کیارش: داریوش:
 چه رابطه‌ای بین اعداد وجود داشت؟

۳ اگر معلم روزی ۳ صفحه ریاضی و ۴ صفحه فارسی تدریس کند، پس از یک هفته‌ی آموزشی، کلاً چند صفحه به دانش‌آموزان کلاسش درس داده است؟ (رابطه الگویی را پیدا کنید).



۴ می‌خواهیم الگوی عددی زیر را به الگوی هندسی خلاصه تبدیل کنیم.

به نمونه توجه کنید و ادامه دهید.

۲۴۰ - ۳۶۰ - ۴۸۰ - - -

الگوی عددی ←

الگوی هندسی حلقه ←

۵ با توجه به عددی که جدول ارزش مکانی نشان می‌دهد، فعالیت‌های خواسته شده را انجام دهید.

یکان	دهگان	صدگان	یکان هزار	دهگان هزار	صدگان هزار
۲	۰	۵	۷	۸	۴

الف: عدد را به حروف بنویسید.

ب: بزرگ‌ترین رقم، در چه مرتبه‌ای قرار دارد؟

پ: عددی را که طبقه‌ی هزار نشان می‌دهد به حروف بنویسید.

ت: اگر سه بسته‌ی هزارتایی به عدد جدول اضافه کنید. عدد به دست آمده، چه عددی می‌شود؟ آن را به رقم

و حروف بنویسید.

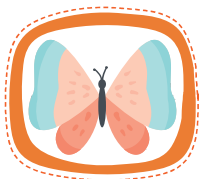
۱ در متن زیر، جاهای خالی را با کلمه‌های مناسب کامل کنید.

چهار فصل، خورشید را به داوری انتخاب کردند. بهار به درختان میوه، گردنبندهایی از گل‌های صورتی و اطراف گودال‌ها، گل‌های بنفشه را تابستان، کنار جنگل را با بوته‌های تمشک داد. پاییز به رنگ کاج‌ها و سروها و دست نزد ولی با قطره‌های باران، برگ‌های آن‌ها را داد. زمستان هم تمام زمین را به رنگ سفید درآورد.

۲ فرزندم با دقت سرمشق‌های زیر را تمرین کن.

آ ا ب ا د آ ب با بابا باد آباد آداب

۳ کدام یک از آفریده‌های خدا در نقاشی فصل بهار نبود؟ دور آن خط بکشید و برای آن یک جمله علمی بنویسید.



۱ مراحل کار یک تحقیق یا کار علمی را کامل کنید.

مرحله سوم: فرضیه سازی

مرحله دوم: طراحی سوال

مرحله اول:

مرحله پنجم:

مرحله چهارم:

دانشمندان برای پاسخ به سوالی درباره‌ی چکیدن قطره، ۸۵ سال تحقیق و آزمایش کردند و هرگز خسته نشدند.

نکته

۲ «مشاهده» یعنی چه؟ تعریف علمی آن را بنویسید.

اجتماعی

۱ سه کار زیبا که حضرت محمد (ص) انجام آن‌ها را برای رضایت خدا و پیامبر توصیه می‌کند، کدام‌اند؟

.....

.....

.....

۲ هاشم هنگام چهارشنبه سوری کارهای خطرناکی انجام می‌دهد.

اسم آن کار، است. این کار هم خطرناک است هم به خودش و همسایه‌ها می‌رساند،

هم باعث و عابران می‌شود.

۳ اگر بیماری واگیرداری شیوع پیدا کند، وظیفه‌ی ما برای حفظ سلامت اهالی ساختمان و محله چیست؟ سه

مورد بنویسید.

۴ تعریف «محله» را بنویسید. سپس نقاشی یک قسمت از محله‌ی قانون‌مند را بکشید.

.....

.....

.....

.....

.....

عملکرد	ارزیابی	خیلی خوب	خوب	قابل قبول	نیاز به تلاش بیشتر
میزان فهم و درک مطالب					
مدیریت زمان و برنامه ریزی					
داشتن استقلال و عدم وابستگی					
داشتن انگیزه و رعایت اصول زیبانویسی					

ارزشیابی معلم

خیلی خوب

خوب

قابل قبول

نیاز به تلاش بیشتر

ارزیابی عملکرد دانش آموز در انجام تکالیف پیک نظر اولیه، محترم

یک هفته‌گی ۱۰

پایه چهارم



WWW.SALAMPUB.COM

دانش آموز کتاب دوست یعنی کسی که با برگ های کتاب روح خود را به عالم نور و روشنایی پرواز می دهد.



کلاس:

دبستان:

نام زیبای من:

قرآن: از صفحه ۳۷ تا ۳۹
هدیه های آسمان: از صفحه ۴۵ تا ۴۹
ریاضی: فصل ۳: ضرب دو عدد دو رقمی - محاسبه ضرب

فارسی: شعر باران - مهمان شهر ما
علوم: گرما و ماده تا صفحه ۳۶
اجتماعی: درس ۹ ویژگی تمدن تا آخر درس

قرآن و هدیه های آسمان

۱ با توجه به علامت «مد» بنویسید کدام صدا در کلمه های زیر، کشیده خوانده می شود؟

دُعَاء:
عِنْدَه و:

۲ معنی هر کلمه را بنویسید.

عَظِيم:
عِنْد:


۳ گنبد های طلایی دو طرف خیابان « بین الحرمین » مربوط به کدام دو امام بزرگوار هستند؟ علامت بزیند.

- الف: امام حسین(ع) - حضرت ابوالفضل(ع)
- ب: امام رضا(ع) - حضرت ابوالفضل(ع)
- پ: امام جواد(ع) - امام حسین(ع)
- ت: امام جواد(ع) - امام موسی کاظم(ع)

ریاضی

۱ تعداد خودکارهای ۷۴ جعبه ی ۲۵ تایی را به روش گسترده کردن هر دو عدد، به دست آورید. (ورقه را

بچرخانید تا فضا برای حل کردن داشته باشید).



۲ جاهای خالی را با عدد مناسب، کامل کنید.

الف) $\text{---} \times \text{---} = (10 \times 12) + (7 \times 12) = \text{---}$

ب) $15 \times 37 = (\text{---} \times 30) + (\text{---} \times 7) + (5 \times \text{---}) + (5 \times \text{---}) = \text{---}$



۳ حاصل ضرب‌های زیر را به شکل تکنیکی (خلاصه) به دست آورید.

$$\begin{array}{r} 304 \\ \times 25 \\ \hline \end{array}$$

$$\begin{array}{r} 800 \\ \times 300 \\ \hline \end{array}$$

$$\begin{array}{r} 650 \\ \times 12 \\ \hline \end{array}$$

۴ بیژن در هر دقیقه ۱۰۰ تا طناب می‌زند. تعداد طناب زدن های او در یک ساعت چند تا می‌شود؟

۵ ابتدا مقدار تقریبی هر عدد را به دست آورده، سپس حاصل ضرب را بنویسید.

$$\begin{array}{r} 845 \\ \times 264 \\ \hline \end{array}$$

$$\begin{array}{r} 29 \\ \times 22 \\ \hline \end{array}$$

$$\begin{array}{r} 347 \\ \times 257 \\ \hline \end{array}$$

۶ اگر در یک جعبه دو بسته ی ۱۲ تایی مداد و در یک کارتن ۲۴ جعبه مداد جا بگیرد. کلاً چند مداد خواهیم داشت؟



۱ با حروف در هم ریخته زیر، کلمه بسازید.

ص - ل - ه - خ - ا : ی - چ - ه - ن - ا :
ا - ی - ق - ا - س - و - ن : ع - ن - م - ا :

۲ در جمله های زیر، چه چیزی به چه چیزی، شباهت داده شده است؟

الف- مشتاق و پرتوان به سوی مدرسه پر کشیدم: به شباهت داده شده است.

ب- ناگهان سر و صداها خاموش شد. مثل این که خورشید این جمعیت طلوع کرده است: به

۳ برای هر کلمه، یک هم خانواده بنویسید.



آندوه:



شوق:



جمع:



موج:



۴ با معنی هر کلمه، جمله بسازید.

الف- اندک اندک:

ب- انبوه:

پ- حضور:

۵ زیبا بنویس.

بم آباد باد داماد بادام داد




۱ سامان و البرز برای شنا به استخر رفته بودند. وقتی وارد آب شدند سامان گفت: عجب


آب سردی! ولی البرز با خنده گفت: شوخی می کنی؟ آب خیلی معتدل و خوب است.

به نظر شما دلیل تفاوت نظر سامان و البرز چیست؟

۲ انواع دماسنج را نام ببرید و شکل آن‌ها را رسم کنید.




۳ چرا وقتی شمع روشن می کنیم، اشک شمع شروع به سرازیر شدن می کند؟



۴ ما را تعریف کنید و واحد اندازه گیری آن را بنویسید.

اجتماعی

۱ نمودار زیر را کامل کنید.



۲ هر تمدن کنار کدام رود به وجود آمده بود؟ هم‌رنگ کنید.

آشور	شهر سوخته	چیرفت	مصر	تمدن
دجله	نیل	هیرمند	هلیل رود	رود

۳ ویژگی های شهر «شوش» در زمان پایتختی ایلام چگونه بود؟ و مردم این تمدن به چه کارهایی مشغول بودند؟

.....

.....

۴ ایلامی ها از چه خطی استفاده می کردند و از کجا این اطلاعات به دست ما رسیده است؟

.....

۵ معابد در دوره تمدن ایلام چه ویژگی هایی داشتند؟ معروف ترین آن ها چه نام دارد و در کجا قرار گرفته است؟

.....

ارزیابی معلم	ارزیابی ←				عملکرد ↓
	نیاز به تلاش بیشتر	قابل قبول	خوب	خیلی خوب	
<input type="checkbox"/> خیلی خوب <input type="checkbox"/> خوب <input type="checkbox"/> قابل قبول <input type="checkbox"/> نیاز به تلاش بیشتر					میزان فهم و درک مطالب
					مدیریت زمان و برنامه ریزی
					داشتن استقلال و عدم وابستگی
					داشتن انگیزه و رعایت اصول زیبانویسی

ارزیابی عملکرد دانش آموز در انجام تکالیف پیک نظر اولیاء محترم

پیک هفتگی ۱۵

پایه چهارم



WWW.SALAMPUB.COM

دانش آموز با انگیزه یعنی در هنگام ناامیدی، به موفقیت فکر کن و انگیزه‌ی خود را چند برابر کن.



کلاس:

دبستان:

نام زیبای من:

فارسی: درس اتفاق ساده و بخوان و بیندیش (درس ۱۲)
علوم: آهن ربا (از چگونه آهن ربا بسازیم تا آخر فصل)
اجتماعی: درس ۱۴ (سفری به شهر باستانی کرمانشاه)

قرآن: از صفحه ۵۴ تا ۵۶
هدیه‌های آسمان: از صفحه ۶۹ تا ۷۲
ریاضی: فصل ۴ (زاویه و اندازه گیری زاویه)

قرآن و هدیه‌های آسمان

۱ چهار حرف ریز و کوچک (ج-ز-ط-م) بالای برخی کلمه‌های قرآنی، نشانه‌ی چیست؟

الف- حروف مقطعه ب- رمز پ- وقف ت- ساکن

۲ کلمه «حیّ» و «نَبّی» به ترتیب در کدام گزینه درست معنی شده است؟

الف- پیامبران- زنده ب- زندگان- پیامبر
پ- زنده- پیامبران ت- زنده- پیامبر

۳ به چه دلیل علامه بحرالعلوم وقتی وارد حرم حضرت علی (ع) شدند شروع به خواندن شعر کردند؟

۴ سه عادت اشتباه و زشتی که مردم جاهل در زمان پیامبر(ص) داشتند را بنویسید.


۵ خداوند با برگزیدن محمد (ص) به پیامبری چه چیزهایی را برای مردم گمراه هدیه آورد؟

ریاضی

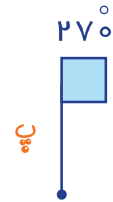
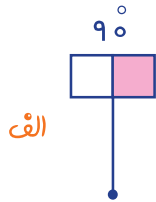
۱ با کمک نقاله، زاویه‌های خواسته شده را رسم کنید. سپس اختلاف هر کدام تا زاویه ۱۱۰ را محاسبه کنید.

ب- ۸۵°

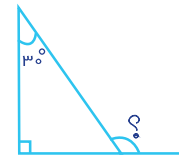
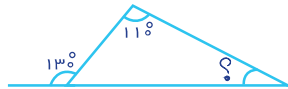
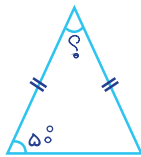
الف- ۴۵°



۲ ارسطو باید هر میله را به اندازه‌ی خواسته شده بچرخاند تا بتواند وارد مرحله‌ی دیگر بازی شود. با او همراه باشید و میله را حول نقطه‌ی داده شده بچرخانید.



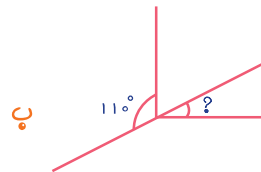
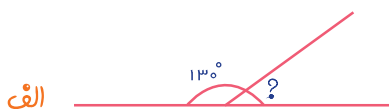
۳ در هر شکل، اندازه‌ی زاویه‌ی نامشخص را به دست آورید. (با راه حل)



۴ فرزانه می گوید بدون استفاده از نقاله می تواند زاویه‌ی چهارم از چهارضلعی های زیر را مشخص کند. اگر با او هم نظر هستید، شما هم این کار را انجام دهید.



۵ در شکل های زیر، اندازه‌ی زاویه‌ی نامشخص را به دست آورید.



۱ با معنی کلمه های زیر، جمله بسازید.

- : شوق:
- : غلتید:
- : سطر:

۲ منظور از «پروانه ظرف می‌شست» چیست؟ «پروانه» را چند شکل می‌توان معنی کرد؟

.....

۳ با توجه به متن شعر «اتفاق ساده» نویسنده‌ی نامه چه چیزهایی در نامه‌اش گفته بود؟

.....

۴ برای هر اسم، یک ویژگی بنویسید و مانند مثال عمل کنید تا مطمئن شوید کلمه‌ای که نوشته‌اید، ویژگی است؟

درخت + زیبا = درخت زیبا = درخت، زیبا است. (جمله، زیبایی درخت را نشان می‌دهد.)

چادُر + = = ()

خیابان + = = ()

پدر + = = ()

۵ داستان کوتاه زیر را بخوان و خودت ادامه بده.

زنگ ورزش با دوستانم در حیاط مدرسه بازی می‌کردیم تا اینکه درب ورودی مدرسه باز شد و

.....




۱ چه عواملی باعث می‌شود قدرت جذب آهن ربا کم شود ✓ بزنید.



۲ سیم آهن‌ربا را به سوزن‌های روی میز نزدیک کرد. سوزن‌ها به شکل زیر به آهن‌ربا چسبیدند. به نظر شما


دلیل این اتفاق چیست؟ (آزمایش و تحقیق کنید)



.....

۳ مهم‌ترین قسمت یک قطب‌نما چیست و چه خاصیتی دارد؟

.....



۴ آهن ربای الکتریکی گروه مریم، نمی‌تواند میخ را جذب کند. به نظر شما این گروه باید چه چیزهایی را دوباره بررسی و آزمایش کنند تا مشکل برطرف شود؟

- ۱-
 ۲-
 ۳-
 ۴-



۱ کرمانشاه مورد توجه پادشاهان کدام دوره‌ها بوده است؟ به چه دلیل؟

.....

۲ جاهای خالی را به درستی کامل کنید.

- الف- طاق بستان به خاطر داشتن و گردشگران زیادی را به خود جلب می‌کند.
 ب- سنگ نوشته‌ها و سنگ نگاره‌های طاق بستان، مربوط به دوره ی است.
 پ- نقش برجسته ی خسرو پرویز سوار بر اسب در کرمانشاه قرار دارد.
 ت- در زمان ساسانیان هنر و پیشرفت زیادی کرد.

۳ درست : 😊 نادرست : ☹️ صورتک بکشید.

الف- اردشیر دوم، شاهپور دوم و سوم از پادشاهان اشکانی بودند.

ب- شاپور اول امپراتور روم را اسیر کرد.

۴ کارهای مهم خسرو انوشیران را بنویسید.

.....

ارزشیابی معلم

خیلی خوب

خوب

قابل قبول

نیاز به تلاش بیشتر

عملکرد ↓	ارزیابی ←	خیلی خوب	خوب	قابل قبول	نیاز به تلاش بیشتر
میزان فهم و درک مطالب					
مدیریت زمان و برنامه ریزی					
داشتن استقلال و عدم وابستگی					
داشتن انگیزه و رعایت اصول زیبانویسی					

ارزیابی عملکرد دانش آموز در انجام تکالیف بیک نظر اولیاء معتمد


یک هفتگی ۲۸

پایه چهارم



WWW.SALAMPUB.COM

دانش آموز منظم یعنی در انجام همه کارها نظم و ترتیب را رعایت می کند.



کلاس:

دبستان:

نام زیبای من:

فارسی: فصل ۷ (مثل - نیایش)

قرآن: درس ۱۴

علوم: درس ۱۳ زیستگاه (از زیستگاه تا آخر)

هدیه های آسمان: از صفحه ۱۰۹ تا ۱۱۴

اجتماعی: مرور فصل ۱ تا ۳ (۱-۲-۳-۴-۵-۶-۷-۸-۹-۱۰)

ریاضی: مرور فصل ۶ و ۷

قرآن و هدیه های آسمان

۱ «خدا، بهترین نگه دارنده است» واژه ی نگه دارنده در قرآن با چه کلمه ای آمده است؟

- الف - راحمین ب - رَحمان پ - حافظاً ت - محفوظاً

۲ آیات ۳ و ۴ سوره ی یوسف درباره ی چه موضوعی صحبت کرده است؟

۳ «حق معلّم بر شاگرد این است که زمانی که یکی از شاگردان از او سوال می کند، تو پاسخ ندهی.»

این سخن از کیست؟

- الف - امام سجاد (ع) ب - امام زین العابدین (ع)
 پ - امام علی بن الحسین (ع) ت - همه ی موارد


۴ خداوند در سوره ی آل عمران آیه ی ۱۴۳، دلیل برانگیختن پیامبران را چه عنوان کرده است؟

ریاضی

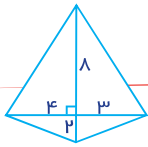
۱ کدام یک از موارد زیر، به طور حتم اتفاق نمی افتد؟

- الف - بارش برف در فصل بهار ب - در پرتاب تاس، عدد ۶ ظاهر شود
 پ - طلوع خورشید از باختر ت - در پرتاب سکه، «رو» ظاهر شود

۲ در نمودار خط شکسته، علامت های و و را معنی کنید.




۳ مساحت شکل روبه رو را به دست آورید.

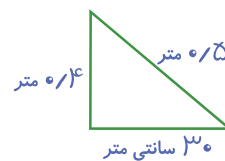


۴ کدام یک از موارد زیر، از ویژگی‌های مستطیل نیست؟

- الف - مجموع دو زاویه‌ی کنار هم، برابر ۱۸۰ است.
- ب - ضلع‌های روبه رو، با هم موازی‌اند.
- پ - همه‌ی ضلع‌ها با هم برابرند.
- ت - همه‌ی زاویه‌ها با هم برابرند.
- ۵ محیط و مساحت هر یک از شکل‌های زیر را به دست آورید.



(الف)



(ب)

فارسی

۱ برای هر کلمه یک هم خانواده بنویسید.

حضرت

طفل

منع

تأثیر

۲ در جمله‌ی «پیامبر (ص) فرمود: دیروز خودم خرما خورده بودم، حرفم در او تأثیر نداشت.»



الف - «حرفم» یعنی چه؟

ب - مفعول این جمله کدام است؟

پ - فاعل کدام است؟

ت - کدام کلمه با یک پیشوند، به گذشته تبدیل شده است؟

۳ معنی «خدایا در زبان من صواب آر» دعای بنده‌ی خود، مستجاب آر، را بنویسید.

.....

.....

۴ عطار نیشابوری در الهی نامه‌ی خود از خدا چه درخواستی دارد؟ ۳ مورد بنویسید.

.....

.....

.....

۵ زیبا بنویس.

ایرانی با ایمان، بیدار است. ما ایران را دوست داریم.

.....

علوم

۱ فکر کنید و ۳ مورد زنجیره غذایی رسم کنید که آخرین حلقه‌ی آن‌ها «انسان» باشد.


الف
ب
پ

۲ کامل کنید.

الف- زیستگاه را تعریف کنید.

ب- موجوداتی که با زیستگاه در ارتباط هستند کدامند؟

۳ سه مورد زیستگاه طبیعی و سه مورد زیستگاه مصنوعی نام ببرید.



۴ «باغ وحش» چه نوع زیستگاهی است؟ با ذکر دلیل توضیح دهید.

.....

۱ اولین محله‌ها، شهرها و روستاها، چگونه تشکیل شده اند؟

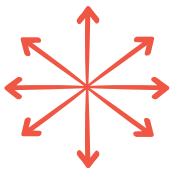


.....

.....

.....

۲ به چه دلیل جهت‌های فرعی، به وجود آمدند؟



.....

.....

.....

۳ ویژگی‌های یک تمدن را بنویسید. سپس سه تمدن مهم را نام ببرید.

.....

.....

۴ دو اتفاق مهم که باعث تغییرات مهمی در زندگی انسان‌های گذشته شد کدامند؟

.....

.....

ارزشیابی معلم

خیلی خوب

خوب

قابل قبول

نیاز به تلاش بیشتر

عملکرد ↓	ارزیابی ←	خیلی خوب	خوب	قابل قبول	نیاز به تلاش بیشتر
میزان فهم و درک مطالب					
مدیریت زمان و برنامه ریزی					
داشتن استقلال و عدم وابستگی					
داشتن انگیزه و رعایت اصول زیبانویسی					

ارزیابی عملکرد دانش آموز در انجام تکالیف پیک
نظر اولیاء محترم



مشخصات کتاب

پیک هفتگی رحلی چهارم دبستان

عنوان کتاب

چهارم دبستان

گروه سنی

فهمه حبیبی

مؤلف

رحلی

قطع کتاب

۱۲۰ صفحه (۳۰ پیک چهار صفحه ای مهر تا اردیبهشت)

تعداد صفحات