

پیک هفتگی

سوم دبستان


۳



فعالیت های پایان هفته به همراه  
ویدئوهای آموزشی



مدیرفروش: ۰۹۱۰۲۰۱۵۲۰۰

 salampub.com





WWW.SALAMPUB.COM

# یک هفتگی ۳ پایه سوم



هدیه های آسمان: (صفحه ۸ تا ۱۳)  
فارسی: درس یک (صفحه ۱۰ الی ۲۴)  
اجتماعی: درس سوم (صفحه ۷ الی ۱۰)

قرآن: فصل یک (صفحه ۹ الی ۱۱)  
ریاضی: فصل یک (صفحه ۱۶ الی ۱۸)  
علوم: مرور درس ۲۰۱

نام زیبای من: .....  
دبستان: .....  
کلاس: .....

دانش آموز هنرمند یعنی دانش آموز خلاق که با حقیقت زندگی مانوس است.

## قرآن و هدیه های آسمان

۱ ذکر «سُبْحَانَ رَبِّيَ الْعَظِيمِ وَ بِحَمْدِهِ» در کدام قسمت نماز خوانده می شود؟

(د) سلام

(ج) رکوع

(ب) تشهد

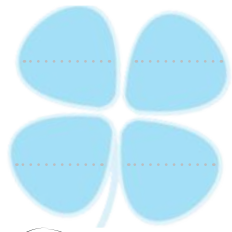
(الف) سجده



۲ یکی از بهترین لحظه ها برای دعا کردن را بنویسید.

.....

۳ در این گل، نام چهار نفر را که دوست دارید برای آن ها دعا کنید ، بنویسید. سپس برای



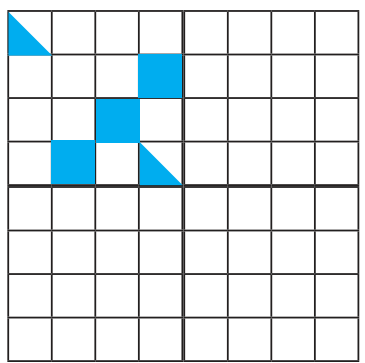
دو نفر از آن ها یک جمله ی دعایی بنویسید.

.....  
.....

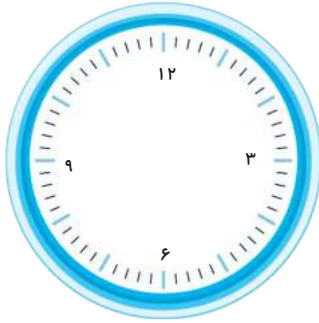
## ریاضی

۴ قسمت های دیگر شکل را مانند نمونه کامل کنید. سپس، تعداد مربع های رنگی را به


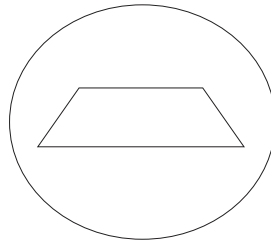
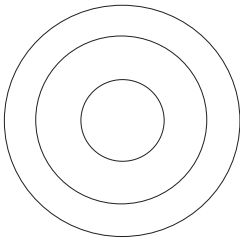
کمک خط تقارن بشمارید.



۲) رضا ساعت ۹ صبح به مهمانی رفت و ساعت ۱ بعد از ظهر برگشت. او چند ساعت در مهمانی بوده است؟



۳) خط تقارن شکل‌های زیر را رسم کنید. کدام شکل خط تقارن ندارد؟



۱) کدام کلمه جمع است؟

(ب) دروازه‌بان

(الف) بوستان

(د) دوستان

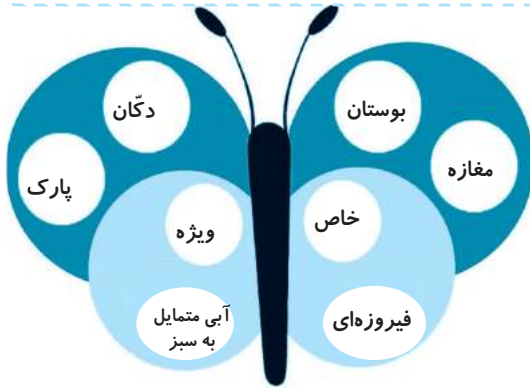
(ج) خیابان



۲ در جمله‌های زیر، نشانه‌های جمع مناسب را در جاهای خالی بنویسید.

با دیدن عکس‌ها می‌توانیم خاطره «ان - ات» ..... بسیاری را در ذهن خودمان یادآوری کنیم.

بچه «ات - ها» ..... با شروع ماه مهر، سال جدید تحصیلی را شروع می‌کنند.



۳ کلمات هم معنی را هم رنگ کنید.

۴ فرزندانم سرمشق‌های زیر را تمرین کن.

بابا آب داد. بابا با آدب آب داد.  
بابا آب داد. بابا با آدب آب داد.



علوم

۱ مهم‌ترین وعده‌ی غذایی ..... است.

۲ در هنگام خرید مواد غذایی باید به ..... و ..... آن‌ها توجه کنیم.



۳ تخم‌مرغ در کدام گروه مواد غذایی قرار دارد؟

- الف) گروه ویتامین  ب) گروه پروتئین   
ج) گروه چربی  د) گروه غلات

۴ یک غذای ایرانی بنویسید که برای پختن آن، از چهار گروه مواد غذایی استفاده

شده باشد.

۵ هر ماده ی غذایی را در گروه مربوط به خود قرار دهید.



سیب زمینی

کلم

لوبیا

برنج

شیر

شیر

پرتقال

گوشت

روغن زیتون

- ۱- این مواد غذایی به رشد بدن کمک می کنند و دارای پروتئین می باشند.
- ۲- این مواد به بدن ما انرژی می دهند.
- ۳- این مواد دارای ویتامین هستند و باعث سالم ماندن بدن ما می شوند.
- ۴- این مواد بعضی از ویتامین ها و مواد مورد نیاز بدن ما را تأمین می کنند.



اجتماعی

۱ کدام مورد زیر از تفاوت های میان انسان هاست؟

(د) نیاز به آب

(ج) رنگ پوست

(ب) نیاز به غذا

(الف) نیاز به محبت

۲ اگر همه ی انسان ها مثل هم بودند و توانایی هایشان کاملاً شبیه هم بود، چه می شد؟

.....

ارزشیابی معلم	ارزیابی ← عملکرد			
	نیاز به تلاش بیشتر	قابل قبول	خوب	خیلی خوب
خیلی خوب <input type="checkbox"/>				میزان فهم و درک مطالب
خوب <input type="checkbox"/>				مدیریت زمان و برنامه ریزی
قابل قبول <input type="checkbox"/>				داشتن استقلال و عدم وابستگی
نیاز به تلاش بیشتر <input type="checkbox"/>				داشتن انگیزه و رعایت اصول زیبانویسی

ارزیابی عملکرد دانش آموز در انجام تکالیف یک نظر اولیه محترم



WWW.SALAMPUB.COM

# یک هفته‌گی ۸

## پایه سوم



هدیه های آسمان: ( صفحه ۳۰ الی ۳۴ )  
فارسی: درس چهارم ( صفحه ۳۶ الی ۴۱ )  
اجتماعی: درس هفتم ( صفحه ۱۸ الی ۲۲ )

قرآن: فصل دوم ( صفحه ۳۶ الی ۴۲ )  
ریاضی: فصل دوم ( صفحه ۳۷ الی ۴۲ )  
علوم: درس چهارم ( صفحه ۳۱ الی ۳۴ )

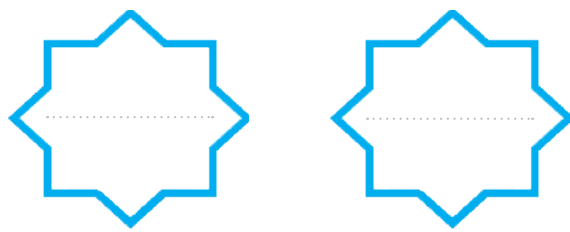
نام زیبای من: .....  
دبستان: .....  
کلاس: .....

دانش آموز شجاع یعنی شجاعت داشته باش تا با حقیقت رو برو شوی.



### قرآن و هدیه های آسمان

۱ دو کلمه‌ی قرآنی بنویسید که در آن‌ها حروف «ناخوانا» وجود داشته باشد.



۲ به بانوی قهرمان معروف بودند. ....

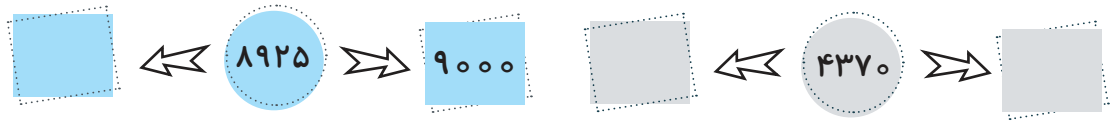
۳ نام یکی از فرزندان امام حسن (ع) را بنویسید که در روز عاشورا به شهادت رسیدند.  
.....

۴ یک سخن از امام حسین (ع) درباره‌ی «نماز» بنویس.  
.....



### ریاضی

۱ مشخص کنید عددهای زیر، بین کدام دو عدد قرار دارد؟





۲ جاهای خالی را با عدد مناسب پر کنید.

۴۲۷ سانتی متر ..... متر و ..... سانتی متر است.

..... سانتی متر برابر با ۳ متر و ۴ سانتی متر است.

۷۰۰۰ گرم برابر با ..... کیلوگرم است.

۲۵ سانتی متر برابر با ..... میلی متر است.

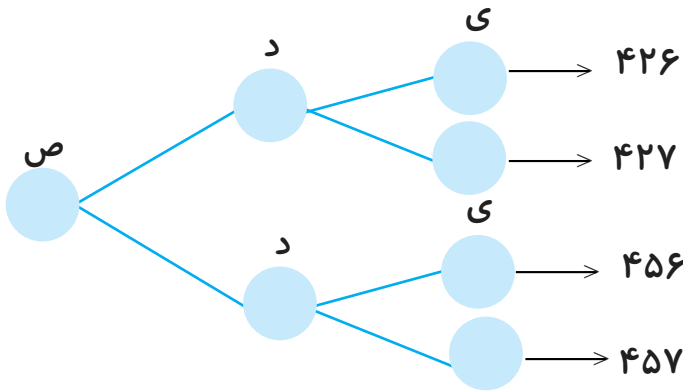
۲۵۸۰ متر می شود: ..... کیلومتر و ..... متر.

۳ به اعداد زیر ۳۰۰۰ تا اضافه کنید و بنویسید سپس از بزرگ به کوچک مرتب کنید.

۶۰۱۵	۱۰۰۰	۶۰۷	۳۶۰۰
○	○	○	○

..... > ..... > ..... > .....

۴ جاهای خالی را پر کنید.



۵ واحد مناسب را بنویسید.

طول میز امید ۱۲۰ ..... است. / فاصله ی مشهد تا کرمان ۹۰۵ ..... است.

قدّ علی ۱۳۵ ..... است. / جرم یک هندوانه ۳ ..... و ۱۰۰ ..... است.

۶ شما دوست دارید ۱۰۰۰ تا از چه چیزی داشته باشید؟



۱ جمله بسازید.

نظر:

بحث:

۲ با حروف آخر کلمه‌ی داده شده، کلمه‌ای از درس (آواز گنجشک) پیدا کنید که این حرف اولین حرف کلمه‌ی بعد باشد.

مناسبت ← تعجب ← ..... ← ..... ← ..... ← .....



۳ حروف درهم ریخته را مرتب کنید و کلمه بسازید.

د - ت - ا - ع ←

ت - م - ا - و - ی - ل - ب ←

۴ عبارت ها را با توجه به متن درس (آواز گنجشک) کامل کنید.

صدای بلند تلویزیون و .....

مریم، عضو گروه .....

۵ فرزندم با دقت سرمشق‌های زیر را تمرین کن.

داماد بادام داد. داماد بادام آمدم.  
داماد بادام داد. داماد بادام آمدم.



۱ مقدار ماده‌ی تشکیل دهنده‌ی هر جسم را ..... آن جسم می‌نامند.



۲ جرم اجسام را با چه وسیله‌ای اندازه‌گیری می‌کنند؟

۳ واحدهای زیر را تعریف کنید.



لیتر: .....

جرم: .....

۴ آزمایشی طراحی کنید که نشان دهد با تغییر شکل جسم، جرم آن تغییر نمی‌کند.

.....

.....

.....



اجتماعی

۱ خداوند در قرآن در سوره‌ی اسراء، آیه‌ی ۲۳ درباره‌ی پدر و مادر چه فرموده‌اند؟

.....

۲ در درس ۷ اجتماعی منظور مادر بزرگ از این که به نوه‌اش می‌گفت: تو دست منی

تو پای منی و ... چه بود؟ .....

۳ دعای مادر بزرگ درباره‌ی نوه‌اش را بنویسید.

.....

ارزشیابی معلم	ارزیابی ←				عملکرد ↓
	نیاز به تلاش بیشتر	قابل قبول	خوب	خیلی خوب	
خیلی خوب <input type="checkbox"/>					میزان فهم و درک مطالب
خوب <input type="checkbox"/>					مدیریت زمان و برنامه ریزی
قابل قبول <input type="checkbox"/>					داشتن استقلال و عدم وابستگی
نیاز به تلاش بیشتر <input type="checkbox"/>					داشتن انگیزه و رعایت اصول زیبانویسی

ارزیابی عملکرد دانش آموز در انجام تکالیف  
تجرباتی





WWW.SALAMPUB.COM

# یک هفته‌گی ۱۳ پایه سوم



هدیه های آسمان: (صفحه ۵۰ الی ۵۵)  
فارسی: درس هفتم (صفحه ۵۶ الی ۵۹)  
اجتماعی: درس یازدهم (صفحه ۳۲ الی ۳۵)

قرآن: فصل سوم (صفحه ۵۸ الی ۶۳)  
ریاضی: فصل چهارم (صفحه ۶۱ الی ۶۹)  
علوم: درس هفتم (صفحه ۵۲ الی ۵۵)


نام زیبای من: .....  
دبستان: .....  
کلاس: .....

دانش آموز مثبت نگر یعنی زیبا فکر کن و با محبت با دیگران رفتار کن.




## قرآن و هدیه های آسمان

۱) معنی کلمات قرآنی زیر را بنویسید.



صلاة:



أجر:

۲) به کارهایی که حتماً باید انجام دهیم ..... گفته می شود.

مانند: ..... و .....

۳) به کارهایی که نباید انجام دهیم ..... گفته می شود.

مانند: ..... و .....

۴) شیوهی درست انجام دستورات خدا را چه کسانی به شما می آموزند؟

.....



۵) عبادت یعنی چه؟

.....

.....



## ریاضی

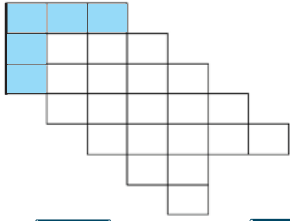
۱) برای هر یک از موارد زیر یک تساوی بنویسید و به آنها پاسخ دهید.

چه عددی اگر با ۸۳ جمع شود، حاصل جمع ۲۰۰۰ می شود؟

.....

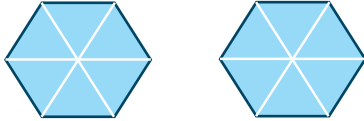
از ۴۰۰۰ چند واحد کم کنیم تا ۱۹۰۰ به دست آید؟

.....



۲ جاهای خالی را کامل کنید.

..... دسته کاشی..... تایی می شود..... مربع




۳ برای شکل مقابل یک تساوی ضرب بنویسید.

..... × ..... = .....

۴ خط تقارن را رسم کنید و به کمک آن تعداد مربع‌ها را پیدا کنید

و برای آن‌ها یک عبارت ضرب بنویسید.



..... × ..... = .....

فارسی


۱ کلمه‌ها را با حروف مناسب کامل کنید.

مو.....وع

مر.....

م.....مولى

۲ یکی از صحنه‌های مهم داستان «کار نیک» را نقاشی کنید و برای آن جمله‌ای بنویسید.



۳ کدام کلمه‌ها زمان آینده را نشان می‌دهند؟ رنگ بزنید.



۴ با کلمات زیر جملات خنده‌دار بنویسید.



۵ موضوعی را به دلخواه انتخاب کنید و یک بند درباره‌ی آن بنویسید.

موضوع: .....



علوم

۱ منبع نور چیست؟

۲ کدام تصویر، منبع نور طبیعی و کدام منبع نور مصنوعی است؟



شمع



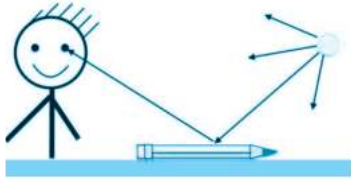
کرم شب تاب



چراغ قوه



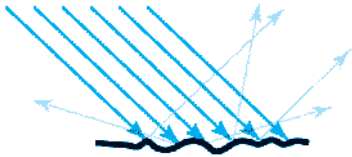
خورشید



۳ تصویر زیر بیانگر کدام پدیده است؟ آن را تعریف کنید.

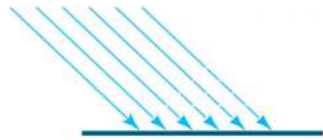
۴ کدام یک از تصاویر زیر بازتابش منظم و کدام یک بازتابش نامنظم را نشان می دهند؟

برای هر کدام دو مثال بزنید.



بازتابش

مانند: ..... و .....



بازتابش

مانند: ..... و .....



۱ منابع طبیعی چیست؟ .....

۲ چرا باید از منابع طبیعی به درستی استفاده کنیم؟ .....

۳ اسم چهار وسیله را که در خانه یا مدرسه از آن استفاده می کنید بنویسید. سپس بگویید

چه منابعی در آن به کار رفته است؟

نام کالا یا وسیله	منابع
.....	.....
.....	.....
.....	.....



ارزشیابی معلم	ارزیابی ←				عملکرد ↓
	نیاز به تلاش بیشتر	قابل قبول	خوب	خیلی خوب	
خیلی خوب <input type="checkbox"/>					میزان فهم و درک مطالب
خوب <input type="checkbox"/>					مدیریت زمان و برنامه ریزی
قابل قبول <input type="checkbox"/>					داشتن استقلال و عدم وابستگی
نیاز به تلاش بیشتر <input type="checkbox"/>					داشتن انگیزه و رعایت اصول زیابانویسی

ارزیابی عملکرد دانش آموز در انجام تکالیف  
نظر اولیاء محترم



WWW.SALAMPUB.COM

# یک هفته‌گی ۲۳

## پایه سوم



قرآن: فصل سوم (صفحه ۹۷ الی ۹۹)      هدیه‌های آسمان: (صفحه ۹۰ الی ۹۵)  
 ریاضی: فصل ششم (صفحه ۱۰۶ الی ۱۰۸)      فارسی: درس چهاردهم (صفحه ۹۸ الی ۱۰۸)  
 علوم: مرور درس دهم و یازدهم      اجتماعی: درس هجدهم (صفحه ۵۵ الی ۵۹)


نام زیبای من: .....  
 دبستان: ..... کلاس: .....

دانش آموز دوستدار کتاب یعنی کسی که با کتاب آرامش می‌یابد.



### قرآن و هدیه‌های آسمان

- ۱ امام پنجم مسلمانان ..... نام داشت که در ..... به دنیا آمد.
- ۲ از بهترین و شایسته‌ترین زنان جهان است.
- ۳ کامل کنید. حضرت زهرا (س):




### ریاضی

$$\begin{array}{r} ۲۲۴۲ \\ + ۱۴۳۹ \\ \hline \end{array}$$

- ۱ برای جمع زیر شکل بکشید.

- ۲ سارا ۳۱۰۰ تومان پول دارد. خواهرش صبا ۱۱۳۰ تومان کمتر از او پول دارد. آن‌ها روی هم چند تومان دارند؟

۳) یک مزرعه‌ی مستطیل شکل به طول ۶۰۰ متر و عرض ۲۵۰ متر داریم. می‌خواهیم دور این مزرعه را نرده بکشیم، به چند متر نرده نیاز داریم؟



۴) قیمت یک جعبه مداد رنگی ۹۷۰۰ تومان است. مریم برای خرید یک جعبه‌ی مداد رنگی یک اسکناس ۵۰۰۰ تومانی، یک اسکناس ۱۰۰۰۰ ریالی و سه اسکناس ۵۰۰ تومانی به فروشنده داد. مریم برای خریدن جعبه‌ی مداد رنگی به چند تومان نیاز دارد؟

۵) حاصل جمع‌های زیر را به دست آورید.

$$\begin{array}{r} 6764 \\ + 1879 \\ \hline \end{array}$$

$$\begin{array}{r} 3068 \\ + 4609 \\ \hline \end{array}$$

$$\begin{array}{r} 3908 \\ + 4987 \\ \hline \end{array}$$

$$\begin{array}{r} 5287 \\ + 4389 \\ \hline \end{array}$$



۱) کلمات هم خانواده را هم رنگ کنید.



۲ داستان کوتاه زیر را ادامه دهید.

روباه خیلی گرسنه بود، تا اینکه چشم‌هایش به کلاغ که یک قالب پنیر در دهانش بود افتاد.....

.....

۳ جدول زیر را کامل کنید.

۱- نام یکی از فلزات ایران .....

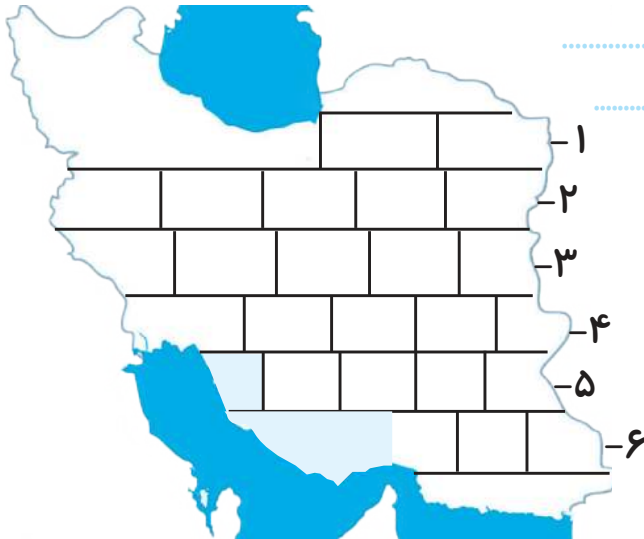
۲- بزرگ‌ترین و پرجمعیت‌ترین شهر ایران .....

۳- زبان ملی ما ایرانیان .....

۴- آرامگاه شاهچراغ در آنجاست .....


۵- مهم‌ترین سوغاتی کرمان .....

۶- استانی سه حرفی .....



علوم

۱ برای هر کدام از برگ‌های زیر یک مثال بنویسید.



.....

.....

.....



۲ برای هر کدام از این دانه‌ها، دو مثال بزنید.

دانه‌ی یک قسمتی

دانه‌ی دو قسمتی

۳ به دو گل در محیط زندگی خود نگاه کنید و با توجه به تعداد گلبرگ‌ها، آن‌ها را دسته‌بندی کنید.

نام گل: ..... تعداد گلبرگ: .....

نام گل: ..... تعداد گلبرگ: .....

۴ گیاهانی مانند درخت کاج به جای ..... و ..... مخروط دارند.



۱ خانه‌ی دوم ..... نام دارد.

۲ مسئولیت اصلی را ..... در مدرسه بر عهده دارد.

۳ معاون در مدرسه چه کارهایی انجام می‌دهد؟ (دو مورد)

.....

.....

ارزشیابی معلم	ارزیابی ←				عملکرد ↓
	نیاز به تلاش بیشتر	قابل قبول	خوب	خیلی خوب	
خیلی خوب <input type="checkbox"/>					میزان فهم و درک مطالب
خوب <input type="checkbox"/>					مدیریت زمان و برنامه ریزی
قابل قبول <input type="checkbox"/>					داشتن استقلال و عدم وابستگی
نیاز به تلاش بیشتر <input type="checkbox"/>					داشتن انگیزه و رعایت اصول زیبانویسی

ارزیابی عملکرد دانش آموز در انجام تکالیف  
نظر اولیاء معتمد

# مشخصات کتاب

پیک هفتگی وزیری سوم دبستان

عنوان کتاب

سوم دبستان

گروه سنی

زهرا نیک

مؤلف

وزیری

قطع کتاب

۱۲۰ صفحه (۳۰ پیک چهار صفحه ای مهر تا اردیبهشت)

تعداد صفحات