

پیک هفتگی

پنجم دبستان

۵



فعالیت های پایان هفته به همراه
ویدئوهای آموزشی

مدیرفروش: ۰۹۱۰۲۰۱۵۲۰۰

 salampub.com



(با اسکن QR کد محصولات جذاب این پایه را مشاهده کنید.)

یک هفتگی ۲

پایه پنجم



WWW.SALAMPUB.COM



فارسی: از صفحه ۸ تا ۱۴ ستایش - آفریدگار زیبایی
علوم: صفحه ۲ تا ۴ درس یک
اجتماعی: صفحه ۱ تا ۴ درس اول

قرآن: از صفحه ۱ تا ۴ درس اول
هدیه های آسمان: از صفحه ۸ تا ۱۲
ریاضی: از صفحه ۱ تا ۵ فصل اول الگویابی - عدد نویسی

نام زیبایی من:
دبستان:
کلاس:

دانش آموز دانشمند یعنی کسی که فرق میان «من می دانم» و «من فکر می کنم» را می داند.

قرآن و هدیه های آسمان

۱ عبارات های قرآنی را بخوانید، ترجمه ی آنها را کامل کنید و حروف ناخوانا را در هر آیه با رنگ قرمز مشخص کنید.

وَاحْسِنُوا إِلَى اللَّهِ يَحِبُّ الْمُحْسِنِينَ

و قطعاً خدا دوست دارد را

وَاطِيعُوا اللَّهَ وَرَسُولَهُ

و را و او را

۲ یکی از نام های قرآن «نور» است. به نظر شما چرا خداوند قرآن را نور نامیده است؟

۳ امام علی (ع) فرموده اند: «قرآن، دریایی است که هیچ گاه خشک نمی شود» چه شباهتی میان دریا و قرآن وجود دارد؟



فارسی

۱ | معنای کلمات زیر را بنویسید .

تصور

تأمل

درنگ

۲ | کلمه های متضاد را از متن درس (تماشا خانه ی طبیعت) پیدا کنید و بنویسید؟

۳ | زیباترین جمله ی درس که نظر شما را جلب کرده است را بنویسید؟ دلیل شما از زیبا بودن این جمله چیست؟

.....

.....

۴ | با استفاده از کلمات (همکلاسی ، طبیعت ، پاییز ، تخته سیاه) یک داستان کوتاه بنویس .

.....

.....

.....

اجتماعی

یکی از مهم ترین نکاتی که در ارتباط افراد وجود دارد، احترام به حریم شخصی افراد است.

۱ | حریم شخصی هر فرد را در چند جمله توضیح دهید. می توانید آن را به هر چیزی تشبیه کنید؟

.....

۲ چند نوع ارتباط غیر کلامی که با حالت های صورت امکان پذیر می شود را نقاشی کنید و پیام هر حالت را بنویسید.

۳ یک احساس خوشایند و یک احساس ناخوشایند که در طول هفته ی گذشته برایتان پیش آمده است را بنویسید.





ریاضی

۱ در کادرهای زیر جمعیت برخی از کشورهای جهان نوشته شده است. آن ها را از کمترین به بیشترین جمعیت مرتب کنید.

برزیل ۲,۰۴۰,۰۰۰	اندونزی ۳۵۰,۰۰۰,۰۰۰	چین ۱,۳۷۲,۰۰۰,۰۰۰	هند ۱,۲۶۰,۰۰۰,۰۰۰	آمریکا ۳۳۰,۰۰۰,۰۰۰
--------------------	------------------------	----------------------	----------------------	-----------------------

..... < < < <

۲ با استفاده از عددهای ۱۰، ۱۰۰، ۱۰۰۰، ۱۰،۰۰۰، ۱۰۰،۰۰۰، ۱،۰۰۰،۰۰۰ ضرب هایی بنویسید که حاصل یک میلیارد شود.

..... × = یک میلیارد × = یک میلیارد

..... × = یک میلیارد × = یک میلیارد

۳ اگر جمعیت فعلی کره ی زمین را ۷ میلیارد و سیصد میلیون نفر و جمعیت آسیا را ۴ میلیارد و دو بیست میلیون نفر در نظر بگیریم، جمعیت بقیه ی قاره های کره ی زمین چند نفر است؟

۴ عدد ۰۰۰۰۱۷۴۹۱۳۴۹۶ را به حروف بنویسید.

به حروف:

چه رقم‌هایی در مرتبه‌ی میلیارد قرار دارد؟

عدد ۹ در چه مرتبه‌ای و در چه طبقه‌ای قرار دارد؟

علوم

۱ درباره‌ی اقداماتی که برای برنده شدن در مسابقه‌ی **فره‌ی چرخان** انجام داده‌اید، به سؤالات زیر پاسخ دهید.

چه چیزهایی را باید تغییر دهید؟

چه چیزهایی را باید اندازه بگیرید؟

چه چیزهایی را نباید تغییر دهید؟

ارزیابی معلم	نیاز به تلاش بیشتر	قابل قبول	خوب	خیلی خوب	ارزیابی ←	↓ عملکرد
خیلی خوب <input type="checkbox"/>						میزان فهم و درک مطالب
خوب <input type="checkbox"/>						مدیریت زمان و برنامه ریزی
قابل قبول <input type="checkbox"/>						داشتن استقلال و عدم وابستگی
نیاز به تلاش بیشتر <input type="checkbox"/>						داشتن انگیزه و رعایت اصول زیبانویسی

ارزیابی عملکرد دانش آموز در انجام تکالیف یکی
نظر اولیاء محترم

یک هفتگی ۵ پایه پنجم



WWW.SALAMPUB.COM



اجتماعی: درس چهارم (صفحه ۱۶ تا ۱۹)
 علوم: درس دوم و سوم (صفحه ۱۴ تا ۱۶)
 ریاضی: فصل دوم کسر (صفحه ۲۲ تا ۲۸)

قرآن: درس دوم و سوم (صفحه ۱۶ تا ۱۹)
 هدیه های آسمان: درس چهارم (صفحه ۲۶ تا ۲۹)
 فارسی: درس سوم (صفحه ۲۶ تا ۳۰)

نام زیبای من:
 دبستان:
 کلاس:

دانش آموز با فرهنگ یعنی قدرت تحمل انتقاد دیگران از خودت را بالا ببر.

قرآن و هدیه های آسمان

عبارت های قرآنی زیر را بخوانید و کلمات وقف شده را آن طور که می خوانید بنویسید.

و جَاهِدُوا فِي اللَّهِ حَقَّ جِهَادِهِ
 قَالَ يَا قَوْمِ اعْبُدُوا اللَّهَ مَا لَكُمْ مِنْ إِلَهٍ غَيْرُهُ

۲ پیامبری که در گهواره سخن گفتند نام دارد.

۳ زمانی که حضرت عیسی (ع) هنوز در گهواره بود، خداوند به او چه فرمود؟



۴ حضرت عیسی (ع) لقبش است و کتاب آسمانی او نام دارد

و او پیامبر اولوالعزم است و او برای هدایت قوم خود

فرستاده شده بودند ایشان حدود سال پیش از تولد پیامبر اکرم متولد شده اند.

۵ معجزات عیسی (ع) عبارتند از :

فارسی

۱ مترادف کلمات زیر را بنویسید.

بُرنا

دل گشا

شکوه

بلند آوازه

۲ کلمه های هم خانواده را به یکدیگر وصل کنید.

سؤال	خلاصه	شرایط	طیب	مسئله
مختصر	مشروطه	مسائل	اطباء	مطب

۳ متن زیر را با علامت‌های نگارشی مناسب کامل کنید. (« - : - - ؟ - ! - ،)

طیب نگاهی به او کرد و گفت () () به، خیلی فرق می‌کند () فقط این تکه گوشت () سالم مانده است () پس معلوم می‌شود آن نقطه ی شهر که این گوشت در آن آویزان بوده است () هوای پاکیزه‌تری دارد و بیمارستان هم باید در همان محل ساخته شود () ()

۴ با استفاده از کلمات (طیب، دوا، درمانگاه و خیال) یک داستان کوتاه بنویس.

.....

.....

.....

اجتماعی



۱ سوره ی درباره ی مشورت کردن می باشد.
معنی آیه ی ۳۸ این سوره را بنویسید.

.....

۲ گروه یعنی :

۳ برای این که یک گروه خوب و موفق باشیم، چه مواردی را باید رعایت کنیم؟

.....



۴ دو مورد از کارهایتان که چه در مدرسه و چه در بیرون از مدرسه با هم فکری و مشورت انجام داده‌اید را بنویسید. این هم فکری چه نتیجه‌ای داشته است؟

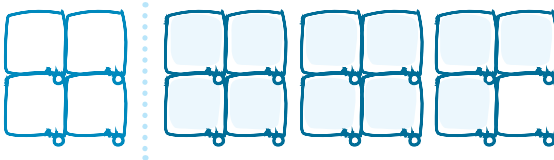
علوم

۱ از بین شکل‌های زیر تغییری که با دخالت انسان در طبیعت انجام شده است را پیدا کنید و درباره‌ی مفید و یا مضر بودن آن توضیح دهید.



ریاضی

۱ با توجه به شکل به سوالات زیر پاسخ دهید.



کسر مربوط به شکل را بنویسید.

روی محور نشان دهید.

با یک تقسیم، کسر را به عدد مخلوط تبدیل کنید.

۲ مقایسه کنید.

$$3\frac{1}{5} \bigcirc 3\frac{3}{2}$$

$$10\frac{1}{3} \bigcirc 11\frac{3}{7}$$

$$5\frac{3}{4} \bigcirc 5\frac{1}{2}$$

۳ کسرهای زیر را به عدد مخلوط تبدیل کنید.

$$\frac{19}{3} =$$

$$\frac{62}{5} =$$

$$\frac{107}{4} =$$

۴ عددهای مخلوط را به کسر تبدیل کنید.

$$7\frac{2}{3} =$$

$$8\frac{1}{9} =$$

$$11\frac{3}{4} =$$

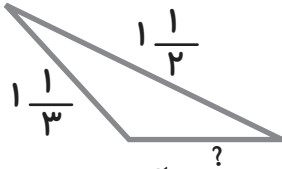
$$10\frac{1}{5} =$$

۵ عبارت‌های زیر را روی محور نشان دهید و پاسخ را بنویسید.

$$4\frac{1}{3} + 2\frac{1}{2} =$$

$$3\frac{3}{4} - 1\frac{1}{2} =$$

۶ محیط مثلثی ۳ متر است. اگر اندازه‌ی دو ضلع آن $1\frac{1}{2}$ و $1\frac{1}{3}$ متر باشد، اندازه‌ی ضلع سوم را به دست آورید.



۷ یک مسئله بنویسید که جواب آن حاصل عبارت مقابل باشد و سپس آن را حل کنید.

$$1\frac{1}{3} + 5\frac{2}{5}$$

ارزیشایی معلم	نیاز به تلاش بیشتر	قابل قبول	خوب	خیلی خوب	ارزیشایی ←	عملکرد ↓
خیلی خوب <input type="checkbox"/>						میزان فهم و درک مطالب
خوب <input type="checkbox"/>						مدیریت زمان و برنامه ریزی
قابل قبول <input type="checkbox"/>						داشتن استقلال و عدم وابستگی
نیاز به تلاش بیشتر <input type="checkbox"/>						داشتن انگیزه و رعایت اصول زیبانویسی

ارزیشایی عملکرد دانش آموز در انجام تکالیف یک نظر اولیه معلم

یک هفتگی ۲۰

پایه پنجم



WWW.SALAMPUB.COM



فارسی: از صفحه ۸ تا ۱۴ ستایش - آفریدگار زیبایی
 علوم: صفحه ۲ تا ۴ درس یک
 اجتماعی: صفحه ۱ تا ۴ درس اول

قرآن: از صفحه ۱ تا ۴ درس اول
 هدیه های آسمان: از صفحه ۸ تا ۱۲
 ریاضی: از صفحه ۱ تا ۵ فصل اول الگو یابی - عدد نویسی

نام زیبای من:
 دبستان:
 کلاس:

دانش آموز شادمان یعنی خودت شاد باش و باعث خوشحال شدن دیگران هم باش.

قرآن و هدیه های آسمان

۱ عبارات قرآنی زیر را با حالت وقف بخوانید و حالت درست وقف آخر را بنویسید و جاهای خالی را با کلمات مناسب کامل کنید.

..... از عسل

وَ أَنْهَارٌ مِّنْ عَسَلٍ مُّصَفًّى

و خدا برای شما از آب را

وَ أَنْزَلَ لَكُمْ مِنَ السَّمَاءِ مَاءً

۲ معنای صحیح را علامت بزنید.



۳ از ویژگی های امام حسن عسگری (ع) ۴ نمونه بنویسید.

۴ امام حسن عسگری (ع) فرموده اند: «بهترین دوست تو کسی است که اشتباه تو را

فراموش کند و نیکی تو را از یاد نبرد» این حدیث امام چه ارتباطی با جمله ی «همیشه

نیمه ی پرلیوان را ببین» دارد.

.....

.....

فارسی

۱ مترادف کلمات زیر را بنویسید.

فراز	موبدان	جلال	بفکند خوار
شیردل	پیمودن	جرئت	یزدان

۲ علامت‌های نگارشی مناسب را در جاهای خالی قرار دهید. (. ، - ؛ :)

خداوند () مهر آن کودک را در دل سیمرغ افکند () چنان‌که او را به چشم
فرزندی نگریست () فرود آمد و چنگ زد و کودک را از میان سنگ‌ها برداشت و
به آشیانه‌ی خود برد () جوجه‌های سیمرغ هم از دیدن کودک () شاد شدند و او
را در میان گرفتند () سیمرغ () نام کودک را () داستان () گذاشت ()

۳ با استفاده از کلمات (تحصیل ، آسمان، زیرک، شهر) یک داستان بنویس.

.....

.....

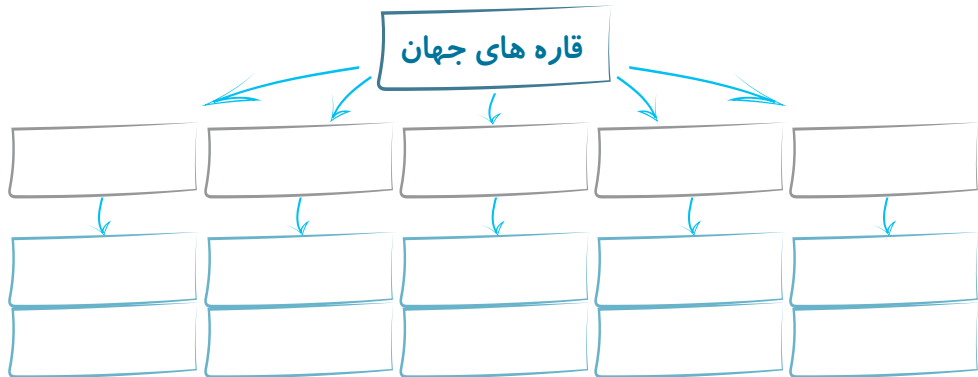
.....

اجتماعی

۱ پرجمعیت‌ترین قاره‌ی جهان می‌باشد و کشورهای

..... و پرجمعیت‌ترین کشورهای جهان هستند.

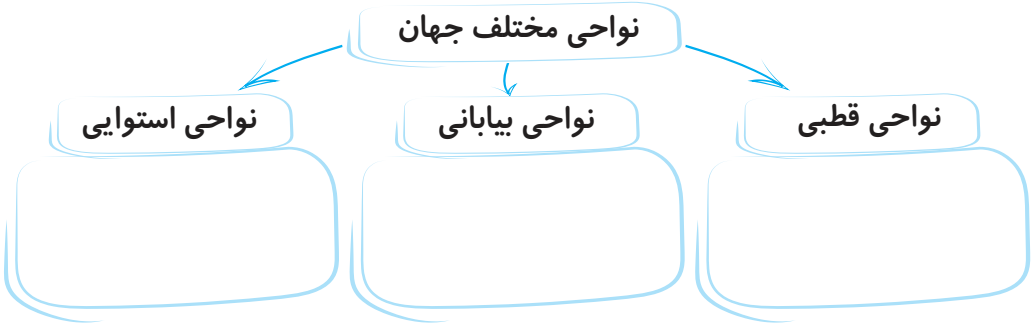
۲ از هر قاره جهان دو کشور به صورت نمونه نام ببرید.





۳ نام اقیانوس‌های جهان را بنویسید.

۴ در مورد هر ناحیه، مختصری توضیح دهید.



علوم

۱ یک جسم زمانی حرکت می‌کند که به آن وارد می‌شود.


۲ در بدن ما استخوان‌ها نقش دارند. (اهرم - تکیه‌گاه)

۳ ترازوی دو کفه‌ای نوعی است.

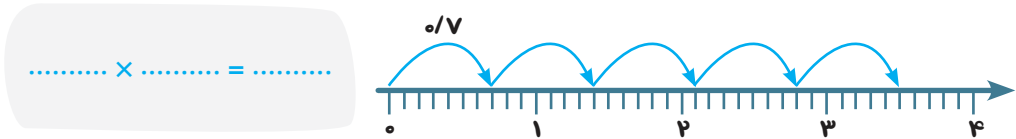
۴ نمونه‌ای از ۳ نوع اهرم را بکشید و محل نیرو، جسم و تکیه‌گاه را مشخص کنید و برای هر نوع ۲ مثال بنویسید.

اهرم نوع اول:	اهرم نوع دوم:	اهرم نوع سوم:
مثال:	مثال:	مثال:

۵ در چه زمانی برای استفاده از یک اهرم نیروی کمتری استفاده می‌شود؟



۱ برای محور زیر یک عبارت ضرب بنویسید و حاصل را پیدا کنید.



۲ ابتدا عامل‌های ضرب را به کسر تبدیل کرده، سپس حاصل را به صورت عدد اعشاری بنویسید.

$0.7 \times 1.2 =$


$10.1 \times 0.9 =$

۳ حاصل عبارت‌های زیر را به دست آورید.

$(3.92 + 0.08) \times (2 - 0.93) =$

$(\frac{3}{5} \times 0.3) + \frac{18}{25} =$

۴ خیاطی برای دوختن یک مانتو $2\frac{23}{23}$ متر پارچه مصرف می‌کند. او برای دوختن ۱۵ دست مانتو مشابه، چند متر پارچه مصرف می‌کند؟



۵ برای ضرب اعشاری زیر، شکل مناسب کشیده و حاصل را از راه گسترده به دست آورید.

$2/5 \times 1/8 =$

↓ عملکرد	ارزیابی ←			
	خیلی خوب	خوب	قابل قبول	نیاز به تلاش بیشتر
میزان فهم و درک مطالب				
مدیریت زمان و برنامه ریزی				
داشتن استقلال و عدم وابستگی				
داشتن انگیزه و رعایت اصول زیبانویسی				

- ارزشیابی معلم
- خیلی خوب
 - خوب
 - قابل قبول
 - نیاز به تلاش بیشتر

ارزیابی عملکرد دانش آموز در انجام تکالیف یک نظر ارائه معلم

یک هفته‌گی ۳۰ پایه پنجم



WWW.SALAMPUB.COM



قرآن : درس دوازدهم صفحه ۱۰۴ تا ۱۰۰
هدیه های آسمان: درس هفدهم صفحه ۱۲۳ تا ۱۲۷ علوم: درس دوازدهم صفحه ۱۰۱ تا ۱۰۴
فارسی: درس هفدهم صفحه ۱۳۶ تا ۱۴۰
اجتماعی: درس ۲۱ و ۲۲ صفحه ۱۰۸ تا ۱۱۱
ریاضی : مروری بر فصل آمار و احتمال صفحه ۱۲۶ تا ۱۲۹

نام زیبای من:
دبستان:
کلاس:

دانش آموز ورزشکار یعنی کسی که به ورزش و سلامتی جسم خود اهمیت می دهد.

قرآن و هدیه های آسمان

۱ پیامبر گرامی (ص) می فرماید: «چه کسانی پس از پیامبران والاترند»؟

- اهل نماز
- اهل قرآن
- شیعیان
- امامان


۲ ترجمه‌ی پیام قرآنی زیر را بنویسید.



فَسِئَلُوا أَهْلَ الذِّكْرِ إِنْ كُنْتُمْ لَا تَعْلَمُونَ

۳ منظور از "یوم الحساب" چیست؟

از ویژگی های نیکوکاران و بدکاران را هر کدام ۴ مورد بنویسید.



۴ ضرب المثل « هر چه کنی به خود کنی، گر همه نیک و بد کنی، چه رابطه ای با عاقبت ما در دنیای آخرت دارد؟

.....

.....

فارسی

۱ مفهوم عبارت های زیر را بنویسید.

همه چیز را همگان دانند:

همه جا محل یادگیری است:

حکایت «جوان و راهزن» بیان کننده ی کدام مثل می باشد؟

بادآورده را باد می برد

تا تنور گرم است نان را بچسبان

راستی راه نجات است

تهی پای رفتن، به از کفش تنگ

تنبل نرو به سایه، سایه خودش می آید

سنگ مفت گنجشک مفت

۲ متن های ادبی زیر را به زبان ساده بنویسید.

پروردگارا، ما را بدان نوری پیور که بندگان نیک خود را پروردی.

۳ متن زیر را تا یک بند ادامه بده.

امسال هم با تمامی پستی و بلندی ها و خاطرات خوب و بد تمام شد و

اجتماعی

۱ جدول زیر را کامل کنید.

نام وزیر:	اقدامات:
.....
وزیران ایرانی ایلخانان	
نام وزیر:	اقدامات:
.....

۲ چه کسی و چگونه حکومت ایلخانان را تأسیس کرد؟

.....

۳ شاعران نامی ایرانی در زمان مغول و تیموری را بنویسید و به ترتیب یک اثر از هر کدام را نام

ببرید.

شاعران:

آثار شاعران:

علوم

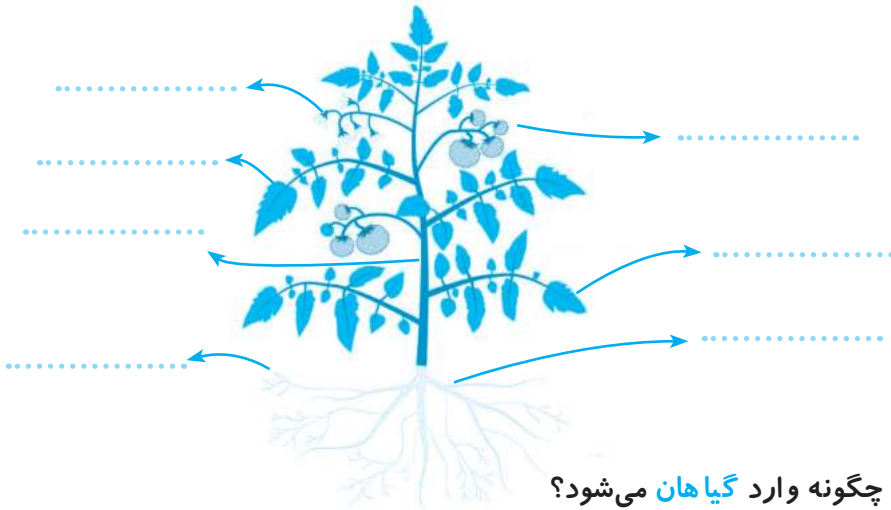
۱ فاطمه به پشت و روی یکی از برگ های گلدان خانه شان مقداری روغن بادام مالید.

بعد از چند روز برای مشاهده ی برگ سراغ گلدان رفت.

الف) فاطمه چه چیزی مشاهده کرد؟

ب) چرا این اتفاق افتاده بود؟

۲ در گیاه زیر قسمت های مختلف گیاه را نام گذاری کنید.



۳ هوا چگونه وارد گیاهان می شود؟

.....


ریاضی

۱ برای مقایسه اندازه‌ی قد دانش‌آموزان زیر، نمودار مناسبی رسم کنید.


مهدی ۱۴۰ سانتی‌متر	مجید ۱۳۵ سانتی‌متر
سعید ۱۵۰ سانتی‌متر	رضا ۱۴۵ سانتی‌متر
علی ۱۲۵ سانتی‌متر	وحید ۱۶۰ سانتی‌متر



۲ میانگین چهار عدد $\frac{۳}{۴}$ ، $\frac{۲}{۴}$ ، $\frac{۱}{۴}$ ، ۲ را به دست آورید.



۳ مجموع ۵ عدد متوالی ۱۵۰ است. عدد کوچک‌تر این مجموعه را به دست آورید.



۴ اگر یک سکه را بیندازیم، احتمال دارد که رو یا پشت بیاید. به همین ترتیب برای

موارد زیر احتمال‌های موجود را توضیح دهید.

الف) تولد نوزاد در روز شنبه:



ب) بیمار شدن فردی در بهمن ماه:



↓ عملکرد	ارزیابی ←	خیلی خوب	خوب	قابل قبول	نیاز به تلاش بیشتر
میزان فهم و درک مطالب					
مدیریت زمان و برنامه ریزی					
داشتن استقلال و عدم وابستگی					
داشتن انگیزه و رعایت اصول زیبانویسی					

- ارزشیابی معلم
- خیلی خوب
 - خوب
 - قابل قبول
 - نیاز به تلاش بیشتر

ارزیابی عملکرد دانش‌آموز در انجام تکالیف بیک نظر اولیاء محترم

مشخصات کتاب

پیک هفتگی وزیری پنجم دبستان

عنوان کتاب

پنجم دبستان

گروه سنی

معصومه شمس آبادی

مؤلف

وزیری

قطع کتاب

۱۲۰ صفحه (۳۰ پیک چهار صفحه ای مهر تا اردیبهشت)

تعداد صفحات