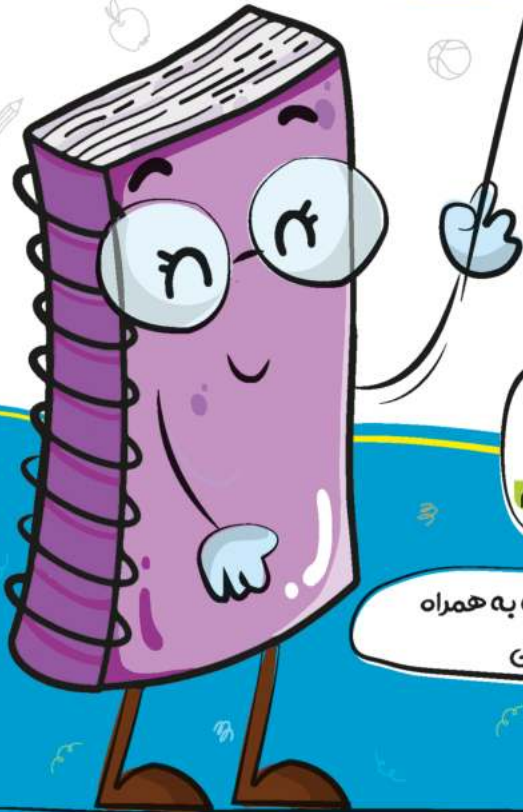


بیک هفتگی

چهارم دبستان


۴



فعالیت های پایان هفته به همراه
ویدئوهای آموزشی



مدیر فروش: ۰۹۱۰۲۰۱۵۲۰۰

 salampub.com



با اسکن QR کد محصولات جذاب این پایه را مشاهده کنید.

یک هفتگی پایه چهارم



WWW.SALAMPUB.COM



فارسی: از صفحه ۸ تا ۱۴ ستایش - آفریدگار زیبایی
علوم: صفحه ۲ تا ۴ درس یک
اجتماعی: صفحه ۱ تا ۴ درس اول

قرآن: از صفحه ۱ تا ۴ درس اول
هدیه های آسمان: از صفحه ۸ تا ۱۲
ریاضی: از صفحه ۱ تا ۵ فصل اول الگویابی - عدد نویسی

نام زیبای من:
دبستان:
کلاس:

دانش آموز مهربان یعنی به دوستانت خوبی کن تا محبت آنها نسبت به تو بیشتر شود.

قرآن و هدیه های آسمان

فَاسْتَقِمَّ:

قَوْلًا:

إِلَى:

۲. معنی کلمه های قرآنی را بنویسید.


الله: رَبَّنَا: حِسَاب: یَوْم:

۳. هر یک از پدیده های زیبای خداوند، کدام نیاز انسان را جواب می دهند؟

گندم: روز: شب:
رودخانه: حیوانات اهلی: دندان:

۴. با توجه به تصویر، جدول را کامل کنید.

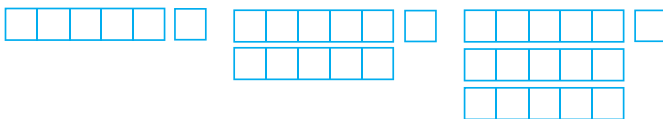
خداوند برای برطرف کردن هر یک از نیازهای این جانور، چه راههایی قرار داده است؟



نیازها نام جانور	مسکن	غذا	حرکت	پوشش
<input type="text"/>	<input type="text"/>	<input type="text"/>	<input type="text"/>	<input type="text"/>

ریاضی

۱. بین شکل ها چه رابطه ای وجود دارد؟ پیدا کنید و الگو را یک مرحله دیگر ادامه دهید.



(۱)

(۲)

(۳)


(۴)

۲ کیارش و داریوش، بازی با اعداد را شروع کرده‌اند. از چپ به راست

کیارش: ۵۷۰ داریوش: ۶۰۰ کیارش: ۶۵۰ داریوش: ۶۹۰
حالا شما ادامه دهید:

کیارش: داریوش: کیارش: داریوش:
چه رابطه‌ای بین اعداد وجود داشت؟

۳ اگر معلم روزی ۳ صفحه ریاضی و ۴ صفحه فارسی تدریس کند، پس از یک هفته‌ی آموزشی، کلاً چند صفحه به دانش‌آموزان کلاسش درس داده است؟ (رابطه‌ی الگویی را پیدا کنید)



۴ می‌خواهیم الگوی عددی زیر را به الگوی هندسی خلاقانه تبدیل کنیم.

به نمونه توجه کنید و ادامه دهید.

الگوی عددی

الگوی هندسی خلاقانه

..... - - - ۴۸۰ - ۳۶۰ - ۲۴۰

۵ با توجه به عددی که جدول ارزش مکانی نشان می‌دهد، فعالیت‌های خواسته شده را انجام دهید.

یکان	دهگان	صدگان	یکان هزار	دهگان هزار	صدگان هزار
۲	۰	۵	۷	۸	۴

الف: عدد را به حروف بنویسید.

ب: بزرگ‌ترین رقم، در چه مرتبه‌ای قرار دارد؟

پ: عددی را که طبقه‌ی هزار نشان می‌دهد به حروف بنویسید.

ت: اگر سه بسته‌ی هزارتایی به عدد جدول اضافه کنید. عدد به دست آمده، چه عددی می‌شود؟

آن را به رقم و حروف بنویسید.

فارسی

۱ در متن زیر، جاهای خالی را با کلمه‌های مناسب کامل کنید.

چهار فصل، خورشید را به داوری انتخاب کردند. بهار به درختان میوه، گردنبندهایی از گل‌های


صورتی و اطراف گودال ها، گل های بنفشه را
 تابستان، کنار جنگل را با بوته های تمشک داد. پاییز به رنگ کاج ها و سروها
 و دست نزد ولی با قطره های باران، برگ های آن ها را داد. زمستان هم تمام
 زمین را به رنگ سفید در آورد.

۲ فرزندی با دقت سرمشق های زیر را تمرین کن.

آ ا ب ب ا د آ ب با بابا باد آباد آداب

۳ کدام یک از آفریده های خدا در نقاشی فصل بهار نبود؟ دور آن خط بکشید و برای آن یک جمله علمی

بنویسید.



..... :

علوم

۱ مراحل کار یک تحقیق یا کار علمی را کامل کنید.

مرحله سوم: فرضیه سازی

مرحله دوم: طراحی سوال

مرحله اول:

مرحله پنجم:

مرحله چهارم:

۲ «مشاهده» یعنی چه؟ تعریف علمی آن را بنویسید.

.....

اجتماعی

۱ سه کار زیبا که حضرت محمد (ص)، انجام آن‌ها را برای رضایت خدا و پیامبرش توصیه می‌کند،

کدام‌اند؟

.....

.....

.....

۲ هاشم، هنگام چهارشنبه سوری کارهای خطرناکی انجام می‌دهد.

اسم آن کار، است. این کار هم خطرناک است هم به خودش و همسایه‌ها می‌رساند، هم باعث و ابران می‌شود.

۳ اگر بیماری واگیر داری، شیوع پیدا کند، وظیفه‌ی ما برای حفظ سلامت اهالی ساختمان و محله چیست؟ سه مورد بنویسید.

.....

.....

.....

۴ تعریف «محله» را بنویسید. سپس نقاشی یک قسمت از محله‌ی قانونمند را بکشید.

.....

.....

.....

.....

.....

↓ عملکرد	ارزیابی ←	خیلی خوب	خوب	قابل قبول	نیاز به تلاش بیشتر
میزان فهم و درک مطالب					
مدیریت زمان و برنامه ریزی					
داشتن استقلال و عدم وابستگی					
داشتن انگیزه و رعایت اصول زیبانویسی					

ارزشیابی معلم

- خیلی خوب
- خوب
- قابل قبول
- نیاز به تلاش بیشتر

ارزیابی عملکرد دانش آموز در انجام تکالیف یک نظر ارائه محترم

پیک هفتگی ۱۰

پایه چهارم



WWW.SALAMPUB.COM



فارسی: شعر باران - مهمان شهر ما
علوم: گرما و ماده تا صفحه ی ۳۶
اجتماعی: درس ۹ ویژگی تمدن تا آخر درس

قرآن: از صفحه ۳۷ تا ۳۹
هدیه های آسمان: از صفحه ۴۵ تا ۴۹
ریاضی: فصل ۳: ضرب دو عدد دو رقمی - محاسبه ضرب

نام زیبایی من:
دبستان:
کلاس:

دانش آموز کتاب دوست یعنی کسی که با برگ های کتاب روح خود را به عالم نور و روشنایی پرواز می دهد.

قرآن و هدیه های آسمان

۱ با توجه به علامت «مد» بنویسید کدام صدا در کلمه های زیر،

کشیده خوانده می شود؟

دُعَاء: عِنْدَه و:

۲ معنی هر کلمه را بنویسید.

عَظِيم: عِنْد:

۳ گنبدهای طلایی دو طرف خیابان « بین الحرمین » مربوط به کدام دو امام بزرگوار هستند؟ علامت


بزنید.

- الف: امام حسین(ع) - حضرت ابوالفضل(ع) ب: امام رضا(ع) - حضرت ابوالفضل(ع)
- پ: امام جواد(ع) - امام حسین(ع) ت: امام جواد(ع) - امام موسی کاظم(ع)

ریاضی

۱ تعداد خودکارهای ۷۴ جعبه ی ۲۵ تایی را به روش گسترده کردن هر دو عدد، به دست آورید.

(ورقه را بچرخانید تا فضا برای حل کردن داشته باشید.)



۲ حاصل ضرب های زیر را به شکل تکنیکی (خلاصه) به دست آورید.

$$\begin{array}{r} 304 \\ \times 25 \\ \hline \end{array}$$

$$\begin{array}{r} 800 \\ \times 300 \\ \hline \end{array}$$

$$\begin{array}{r} 650 \\ \times 12 \\ \hline \end{array}$$

۳ ابتدا مقدار تقریبی هر عدد را به دست آورده، سپس حاصل ضرب را بنویسید.

$$\begin{array}{r} ۸۴۵ \\ \times ۲۶۴ \\ \hline \end{array}$$

$$\begin{array}{r} ۲۹ \\ \times ۲۲ \\ \hline \end{array}$$

$$\begin{array}{r} ۳۴۷ \\ \times ۲۵۷ \\ \hline \end{array}$$

۴ بیژن در هر دقیقه ۱۰۰ تاناب می‌زند. تعداد طناب زدن‌های او در یک ساعت چند تایی شود؟

۵ اگر در یک جعبه دو بسته ی ۱۲ تایی مداد و در یک کارتن ۲۴ جعبه مداد جا بگیرد. کلاً چند مداد خواهیم داشت؟

۶ جاهای خالی را با عدد مناسب کامل کنید.

الف) \times = $(۱۰ \times ۱۲) + (۷ \times ۱۲)$

ب) $۱۵ \times ۳۷ = (\dots \times ۳۰) + (\dots \times ۷) + (۵ \times \dots) + (۵ \times \dots) = \dots$

فارسی

۱ با حروف در هم ریخته زیر، کلمه بسازید.

ص - ل - ه - خ - ا ؛ ی - ج - ه - ن - ا ؛

ا - ی - ق - ا - س - و - ن ؛ ع - ن - م - ا ؛

۲ در جمله‌های زیر، چه چیزی به چه چیزی، شباهت داده شده است؟

الف- مشتاق و پرتوان به سوی مدرسه پر کشیدم: به شباهت داده شده است.

ب- ناگهان سر و صداها خاموش شد. مثل این که خورشید این جمعیت طلوع کرده است: به

۳ برای هر کلمه، یک هم خانواده بنویسید.



اندوه:



شوق:



جمع:



موج:

۴ با معنی هر کلمه، جمله بسازید.

الف- اندک اندک:

ب- انبوه:

پ- حضور:

۴ زیبا بنویس.

بم آباد باد دمام بادام داد

علوم




۱ سامان و البرز برای شنا به استخر رفته بودند. وقتی وارد آب

شدند سامان گفت: عجب آب سردی! ولی البرز با خنده گفت:

شوخی می کنی؟ آب خیلی معتدل و خوب است.

به نظر شما دلیل تفاوت نظر سامان و البرز چیست؟

۲ انواع دماسنج را نام ببرید و شکل آن ها را رسم کنید.

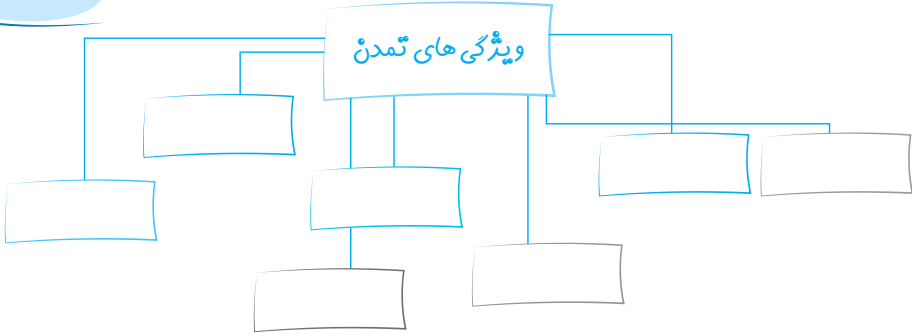


۲ چرا وقتی شمع روشن می کنیم، اشک شمع شروع به سرازیر شدن می کند؟



۳ دما را تعریف کنید و واحد اندازه گیری آن را بنویسید.

۱ نمودار زیر را کامل کنید.



۲ هر تمدن کنار کدام رود به وجود آمده بود؟ هم‌رنگ کنید.

آشور	شهر سوخته	چیرفت	مصر	تمدن
دجله	نیل	هیرمند	هلیل رود	رود

۳ ویژگی‌های شهر «شوش» در زمان پایتختی ایلام چگونه بود؟ و مردم این تمدن به چه کارهایی مشغول بودند؟

.....

.....

۴ ایلامی‌ها از چه خطی استفاده می‌کردند و از کجا این اطلاعات به دست ما رسیده است؟

.....

۵ معابد در دوره تمدن ایلام چه ویژگی‌هایی داشتند؟ معروف‌ترین آن‌ها چه نام دارد و در کجا قرار گرفته است؟

.....

ارزیابی معلم	ارزیابی ←				عملکرد ↓
	نیاز به تلاش بیشتر	قابل قبول	خوب	خیلی خوب	
خیلی خوب <input type="checkbox"/>					میزان فهم و درک مطالب
خوب <input type="checkbox"/>					مدیریت زمان و برنامه ریزی
قابل قبول <input type="checkbox"/>					داشتن استقلال و عدم وابستگی
نیاز به تلاش بیشتر <input type="checkbox"/>					داشتن انگیزه و رعایت اصول زبانیسی

ارزیابی عملکرد دانش آموز در انجام تکالیف یک نظر اولیه معلم

پیک هفتگی ۱۵

پایه چهارم



WWW.SALAMPUB.COM



فارسی: درس اتفاق ساده و بخوان و بیندیش (درس ۱۲)
علوم: آهن ربا (از چگونه آهن ربا بسازیم تا آخر فصل)
اجتماعی: درس ۱۴ (سفری به شهر باستانی کرمانشاه)

قرآن: از صفحه ۵۴ تا ۵۶
هدیه های آسمان: از صفحه ۶۹ تا ۷۲
ریاضی: فصل ۴ (زاویه و اندازه گیری زاویه)

نام زیبای من:
دبستان:
کلاس:

دانش آموز با انگیزه یعنی در هنگام ناامیدی، به موفقیت فکر کن و انگیزه‌ی خود را چند برابر کن.

قرآن و هدیه های آسمان

۱ چهار حرف ریز و کوچک (ج-ز-ط-م) بالای برخی کلمه های قرآنی، نشانه ی چیست؟

الف- حروف مقطعه ب- رمز پ- وقف ت- ساکن

۲ کلمه «حیّ» و «تَبّی» به ترتیب در کدام گزینه درست معنی شده است؟

الف- پیامبران- زنده ب- زندگان- پیامبر
پ- زنده- پیامبران ت- زنده - پیامبر

۳ به چه دلیل علامه بحرالعلوم وقتی وارد حرم حضرت علی (ع) شدند شروع به خواندن شعر کردند؟

.....
.....

۴ سه عادت اشتباه و زشتی که مردم جاهل در زمان پیامبر(ص) داشتند را بنویسید.

.....
.....

۵ خداوند با برگزیدن محمد (ص) به پیامبری چه چیزهایی را برای مردم گمراه هدیه آورد؟

.....
.....

ریاضی

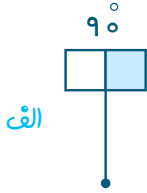
۱ با کمک نقاله، زاویه های خواسته شده را رسم کنید. سپس اختلاف هر کدام تا زاویه ۱۱۰ را محاسبه کنید.



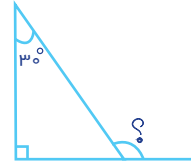
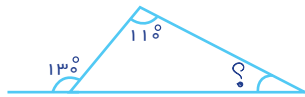
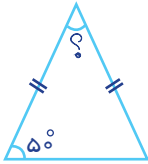
ب- ۸۵°

الف- ۴۵°

۲ ارسطو باید هر میله را به اندازه‌ی خواسته شده بچرخاند تا بتواند وارد مرحله‌ی دیگر بازی شود. با او همراه باشید و میله را حول نقطه‌ی داده شده بچرخانید.



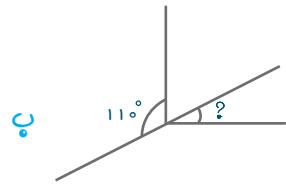
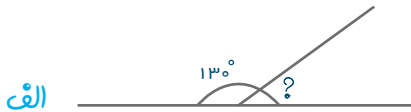
۳ در هر شکل، اندازه‌ی زاویه‌ی نامشخص را به دست آورید (با راه حل)



۴ فرزانه می‌گوید بدون استفاده از نقاله می‌تواند زاویه‌ی چهارم از چهارضلعی‌های زیر را مشخص کند. اگر با او هم نظر هستید، شما هم این کار را انجام دهید.



۵ در شکل‌های زیر، اندازه‌ی زاویه‌ی نامشخص را به دست آورید.



فارسی

۱ با معنی کلمه‌های زیر، جمله بسازید.

- شوق:
- غلتید:
- سطر:

۲ منظور از «پروانه ظرف می شست» چیست؟ «پروانه» را چند شکل می توان معنی کرد؟

.....

۳ با توجه به متن شعر «اتفاق ساده» نویسنده ی نامه چه چیزهایی در نامه اش گفته بود؟

.....

۴ برای هر اسم، یک ویژگی بنویسید و مانند مثال عمل کنید تا مطمئن شوید کلمه ای که نوشته اید، ویژگی است؟

درخت + زیبا = درختِ زیبا = درخت، زیبا است. (جمله، زیبایی درخت را نشان می دهد.)

- چادر + = =
 خیابان + = =
 پدر + = =

۵ داستان کوتاه زیر را بخوان و خودت ادامه بده.

زنگ ورزش با دوستانم در حیاط مدرسه بازی می کردیم تا اینکه درب ورودی مدرسه باز شد و

.....

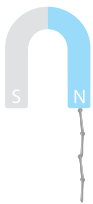
علوم

۱ چه عواملی باعث می شود قدرت جذب آهن ربا کم شود ✓ بزیند.

<input type="radio"/>	گذشت زمان	<input type="radio"/>	الکتریکی کردن	<input type="radio"/>	استفاده زیاد
<input type="radio"/>		<input type="radio"/>	گرما	<input checked="" type="radio"/>	ضربه

۲ سینا آهن ربا را به سوزن های روی میز نزدیک کرد. سوزن ها به شکل زیر به آهن ربا چسبیدند.

به نظر شما دلیل این اتفاق چیست؟ (آزمایش و تحقیق کنید)



.....

۳ مهم‌ترین قسمت یک قطب‌نما چیست و چه خاصیتی دارد؟

.....

.....

۴ آهن ربای الکتریکی گروه مریم، نمی‌تواند میخ را جذب کند. به نظر شما این گروه باید چه چیزهایی را دوباره بررسی و آزمایش کنند تا مشکل برطرف شود؟

- ۱- -۲
- ۳- -۴

اجتماعی

۱ کرامانشاه مورد توجه پادشاهان کدام دوره‌ها بوده است؟ به چه دلیل؟

.....

۲ جاهای خالی را به درستی کامل کنید.

الف- طاق بستان به خاطر داشتن و گردشگران زیادی را به خود جلب می‌کند.

ب- سنگ نوشته‌ها و سنگ نگاره‌های طاق بستان، مربوط به دوره ی است.

پ- نقش برجسته ی خسرو پرویز سوار بر اسب در کرامانشاه قرار دارد.

ت- در زمان ساسانیان هنر و پیشرفت زیادی کرد.

۳ (درست - ☀️) نادرست (☁️) صورتک بکشید..

الف- اردشیر دوم، شاهپور دوم و سوم از پادشاهان اشکانی بودند.

ب- شاپور اول امپراتور روم را اسیر کرد.

۴ کارهای مهم خسرو انوشیران را بنویسید.

.....

.....

ارزایی عملکرد ↓	ارزایی ←			
	نیاز به تلاش بیشتر	قابل قبول	خوب	خیلی خوب
میزان فهم و درک مطالب				
مدیریت زمان و برنامه ریزی				
داشتن استقلال و عدم وابستگی				
داشتن انگیزه و رعایت اصول زیبانویسی				

ارزشیابی معلم

- خیلی خوب
- خوب
- قابل قبول
- نیاز به تلاش بیشتر

ارزایی عملکرد دانش آموز در انجام تکالیف یک نظر اولیه معلم

بیک هفتگی ۲۸

پایه چهارم



WWW.SALAMPUB.COM



فارسی: فصل ۷ (مثل - نیایش)
علوم: درس ۱۳ زیستگاه (از زیستگاه تا آخر)
اجتماعی: مرور فصل ۱ (۱-۲-۳-۴-۵-۶-۷-۸-۹-۱۰)

قرآن: درس ۱۴
هدیه های آسمان: از صفحه ۹ تا ۱۱۴
ریاضی: مرور فصل ۶ و ۷

نام زیبای من:
دبستان:
کلاس:

دانش آموز منظم یعنی در انجام همه کارها نظم و ترتیب را رعایت می کند.

قرآن و هدیه های آسمان

۱ «خدا، بهترین نگه دارنده است» واژه ی نگه دارنده در قرآن با چه کلمه ای آمده است؟

الف - راحمین ب - رحمان پ - حافظاً ت - محفوظاً

۲ آیات ۳ و ۴ سوره ی یوسف درباره ی چه موضوعی صحبت کرده است؟

.....

.....

۳ «حق معلم بر شاگرد این است که زمانی که یکی از شاگردان از او سوال می کند، تو پاسخ ندهی.»

این سخن از کیست؟

الف - امام سجاد (ع) ب - امام زین العابدین (ع)
پ - امام علی بن الحسین (ع) ت - همه ی موارد

۴ خداوند در سوره ی آل عمران آیه ی ۱۴۳، دلیل برانگیختن پیامبران را چه عنوان کرده است؟


.....

ریاضی

۱ کدام یک از موارد زیر، به طور حتم اتفاق نمی افتد؟

الف - بارش برف در فصل بهار ب - در پرتاب تاس، عدد ۶ ظاهر شود
پ - طلوع خورشید از باختر ت - در پرتاب سکه، «رو» ظاهر شود

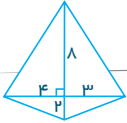
۲ در نمودار خط شکسته، علامت های و را معنی کنید.



.....

.....

۳ مساحت شکل روبه رو را به دست آورید.



۴ کدام یک از موارد زیر، از ویژگی‌های مستطیل نیست؟



الف- مجموع دو زاویه ی کنار هم، برابر ۱۸۰ است.



ب- ضلع‌های روبه رو، با هم موازی اند.

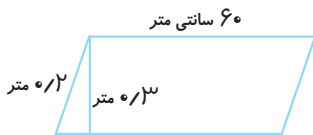


پ- همه ی ضلع ها با هم برابرند.

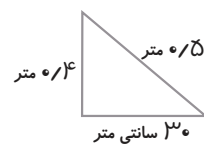


ت- همه ی زاویه ها با هم برابرند.

۵ محیط و مساحت هر یک از شکل‌های زیر را به دست آورید.



(الف)



(ب)

فارسی

۱ برای هر کلمه یک هم خانواده بنویسید.

..... ← حضرت

..... ← طفل

..... ← منع

..... ← تأثیر

۲ در جمله ی «پیامبر (ص) فرمود: دیروز خودم خرما خورده بودم، حرفم در او تأثیر نداشت.»

الف- «حرفم» یعنی چه؟

ب- مفعول این جمله کدام است؟

پ- فاعل کدام است؟

ت- کدام کلمه با یک پیشوند، به گذشته تبدیل شده است؟

پایه چهارم

دعای بنده ی خود، مستجاب آر» را بنویسید.



معنی «خدایا در زبان من صواب آر

۳

عطار نیشابوری در الهی نامه ی خود از خدا چه درخواستی دارد؟ ۳ مورد بنویسید.

۴

زیبا بنویس.

۵

ایرانی با ایمان، بیدار است . ما ایران را دوست داریم .

علوم

۱ فکر کنید و ۳ مورد زنجیره غذایی رسم کنید که آخرین حلقه ی آن ها «انسان» باشد.

الف

ب

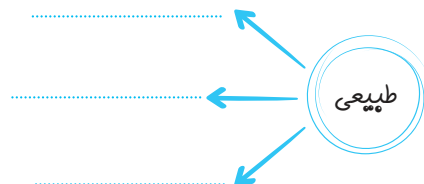
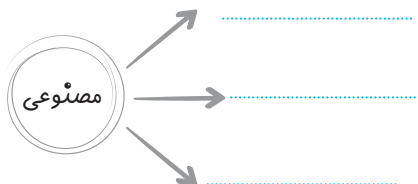
پ

۲ کامل کنید.

الف- زیستگاه را تعریف کنید.

ب- موجوداتی که با زیستگاه در ارتباط هستند کدامند؟

۳ سه مورد زیستگاه طبیعی و سه مورد زیستگاه مصنوعی نام ببرید.



۴ «باغ وحش» چه نوع زیستگاهی است؟ با ذکر دلیل توضیح دهید.

.....

.....

اجتماعی

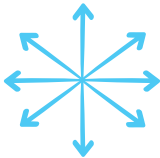


۱ اولین محله‌ها، شهرها و روستاها، چگونه تشکیل شده اند؟

.....

.....

۲ به چه دلیل جهت‌های فرعی، به وجود آمدند؟



.....

.....

۳ ویژگی‌های یک تمدن را بنویسید. سپس سه تمدن مهم را نام ببرید.

.....

.....

۴ دو اتفاق مهم که باعث تغییرات مهمی در زندگی انسان‌های گذشته شد کدامند؟

.....

.....

ارزشیابی معلم	نیاز به تلاش بیشتر	قابل قبول	خوب	خیلی خوب	ارزیابی ←	↓ عملکرد
خیلی خوب <input type="checkbox"/>						میزان فهم و درک مطالب
خوب <input type="checkbox"/>						مدیریت زمان و برنامه ریزی
قابل قبول <input type="checkbox"/>						داشتن استقلال و عدم وابستگی
نیاز به تلاش بیشتر <input type="checkbox"/>						داشتن انگیزه و رعایت اصول زیبایی‌شناسی

ارزیابی عملکرد دانش آموز در انجام تکالیف به نظر اولیاء معتمد

مشخصات کتاب

پیک هفتگی وزیری چهارم دبستان

عنوان کتاب

چهارم دبستان

گروه سنی

فهیمه حبیبی

مؤلف

وزیری

قطع کتاب

۱۲۰ صفحه (۳۰ پیک چهارم صفحه ای مهر تا اردیبهشت)

تعداد صفحات