

بیک نوروزی

سوم دیستان



سال نو مبارک

مواقع تفریح و شادمانی فرصت است. افراد عاقل زندگی را مغتنم می‌شمارند و از آن‌ها به نفع خوشبختی و سعادت خویش استفاده می‌کنند.
امام علی (ع)

سوم فروردین

سلام فرزندم!
صدای پای بهار عالم را فرا می‌گیرد. نبض باغچه می‌تپد و درختان به تولدی دوباره فراخوانده می‌شوند. تغییر فصل نیز یکی از نشانه‌های قدرت خداوند بر روی زمین است و هر آنچه که نشان از پاک‌ی و خیردارد با بهار به تصویر کشیده می‌شود. از این رو هنگام تحویل سال، دست به دعا برمی‌داریم و از خداوند متعال می‌خواهیم که عالی‌ترین شکل تحول را در ما ایجاد کند.

رمضان مبارک

یا مُدَبِّرَ اللَّيْلِ وَالنَّهَارِ
خَوَّلَ حَالَنَا إِلَى أَحْسَنِ الْحَالِ

یا مُقَلِّبَ الْقُلُوبِ وَالْأَبْصَارِ
یا مُخَوِّلَ الْحَوَالِ وَالْأَحْوَالِ

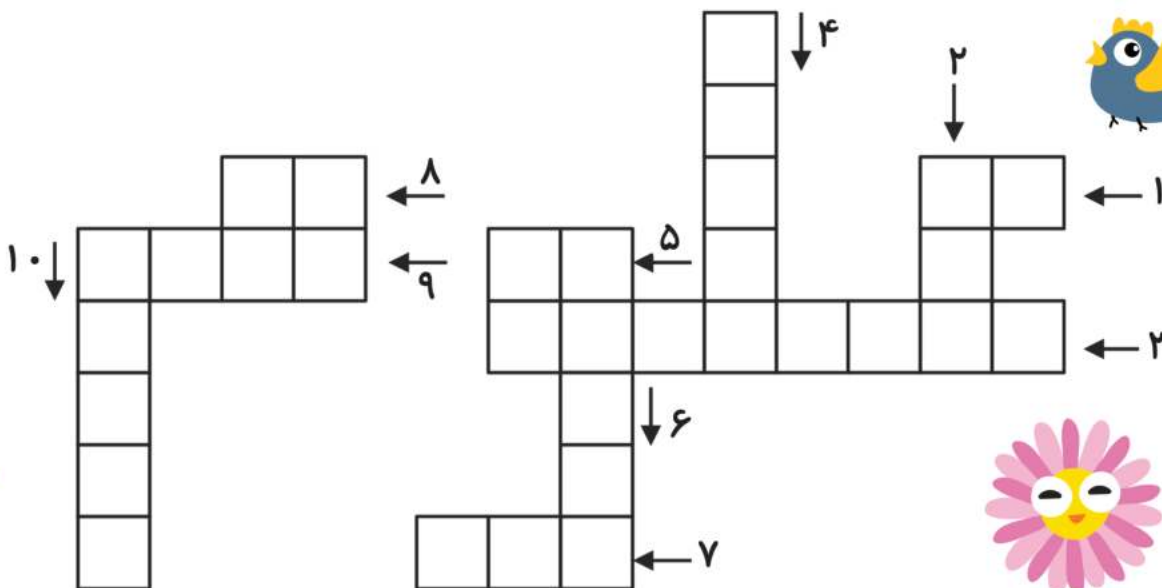


با علما معاشرت کن تا علمت زیاده ادبت نیکو و جاننت پاک شود.

امام علی (ع)

پنجم فروردین

- ۱- یکی از غذاهای سنتی ایران، که ۴ گروه مواد غذایی را داراست.
- ۲- ماده‌ی غذایی سفید رنگ که استفاده زیاد آن به بدن آسیب می‌رساند.
- ۳- یک پژوهشگر برای جمع آوری اطلاعات می‌تواند از منابع مختلفی مانند استفاده کند.
- ۴- هنگامی که کشتو میز خود را باز می‌کنیم با نیرو ایجاد می‌کنیم.
- ۵- حالت جامد آب را می‌گویند.
- ۶- برای دیدن اجسام لازم است.
- ۷- از به هم پیوستن جوی‌های کوچک تشکیل می‌شود.
- ۸- بیشتر سطح کره‌ی زمین را فرا گرفته است.
- ۹- گاز موجود در بالن می‌باشد.
- ۱۰- نام فرایندی که در آن مایع به گاز تبدیل می‌شود.



هشتم فروردین

نازنینم! شعر را بخوان و کلمات مخالف آن را پیدا کن
و روبروی هم بنویس.

در روز مهمون ماست
مثل همیشه زیباست!
قصه پرام بخونه
تو آسمون پمونه!

خورشید خانم دوباره
مثل همیشه روشن
کاشکی همیشه خورشید
حتی شبای تاریک

کلمات پنهان

با وصل کردن حروف
کلمات سین های هفت
سین را پیدا کنید.

دیوارهای تراس ما قهوه ای است. **سین**...

رسول خدا(ص) فرمودند: هر کس که من مولای اویم از این پس علی (ع) مولای اوست.

با دماسنج دمای هوا را اندازه می گیرند.


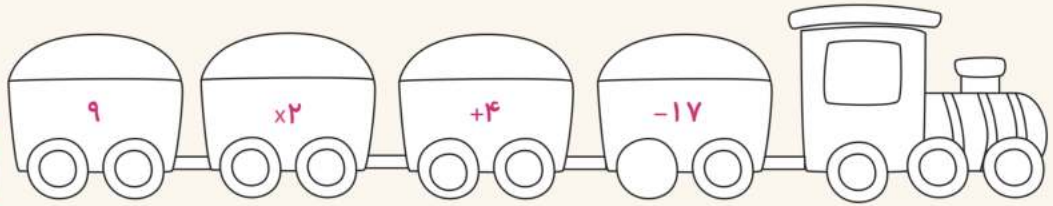
پسرک همراه خانواده اش به دید و بازدید نوروزی رفت.

با دیدن سبزه زارها به قدرت و توانایی آفریدگار عالم پی می بریم.

معلم از درس من و دوستم رضایت دارد.


اتوبوس مسیر حرکت خود را تغییر داد.

کلمه! کدام قطار بار سنگین تری را جابه‌جا می‌کند؟ آن را رنگ بزن.



دهم فروردین

به دلخواه خودت رنگ آمیزی کن.



عزیزم! نیمی دیگر شکل را
کامل کن و به کمک تقارن
تعداد مربع‌ها را مشخص کن و
بنویس

.....



اهمیت طبیعت

منابع طبیعی چیست؟.....

چرا باید از منابع طبیعی به درستی استفاده کنیم؟.....

اسم چهار وسیله را که در خانه یا مدرسه از آن استفاده می کنید بنویسید. سپس بگویید چه منابعی در آن به کار رفته است؟

منابع	نام کالا یا وسیله
-----	-----
-----	-----
-----	-----
-----	-----

کلمه ها را بخوان و آن هایی که هم معنی هستند را کنار هم بنویس.

آشپانه - مزرعه - خراب - خواهش - خوراک - ویران - لانه - کشاورز - غذا - کشتزار - تقاضا - برزگر

