

مجموعه آزمون‌های مداد کاغذی و عملکردی پیشرفت تحصیلی



پایه اول دبستان |

آزمون ماهینه



ارزشیابی مهر ماه

پایه اول

تاریخ آزمون:

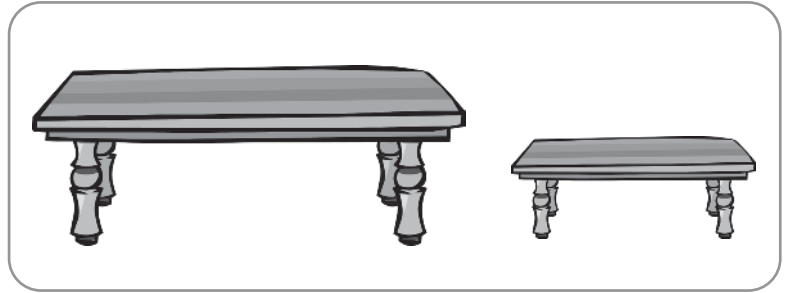

مدت آزمون:

نام و نام خانوادگی:

نام دبستان:

ریاضی


۱- دور تصویر کوچکتر خط بکش.



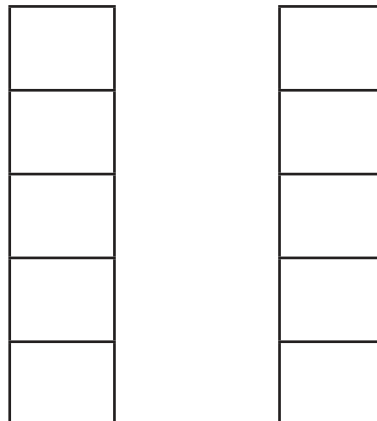
۲- الگوهای زیر را ادامه بده.



۳- جدول شگفت انگیز را کامل کن.



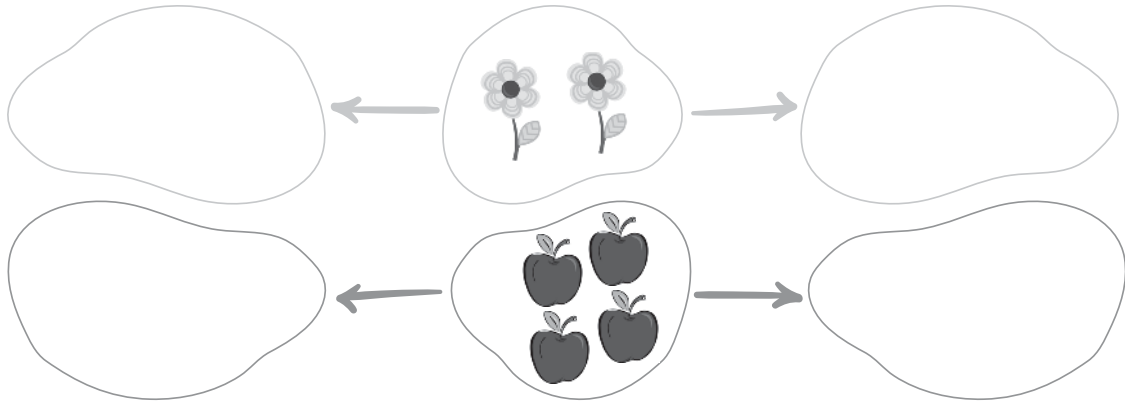
۴- از خانه های سمت چپ سه تا خط بزن و به تعداد باقی مانده از سمت راست رنگ بزن.




۵- کدام یک از شکل های زیر بعد از آخرین شکل الگو قرار می گیرد، علامت بزن.



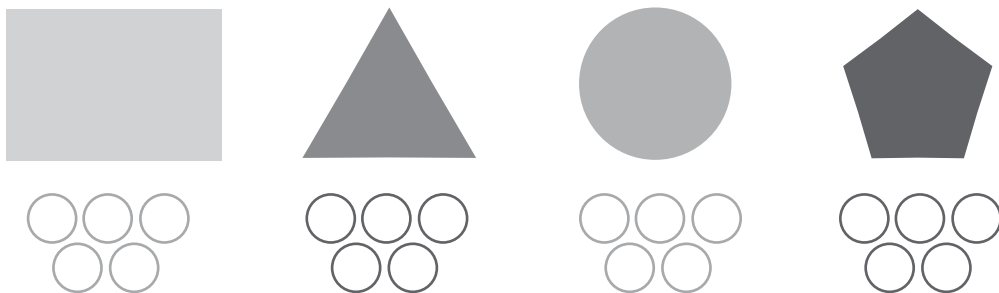
۶- از تصاویر زیر یکی کم کن در سمت چپ و یکی اضافه کن در سمت راست بکش.



۷- دور الگوی درست را خط بکش.



۸- به تعداد گوشه های هر شکل از دایره ها رنگ بزن.



خیلی خوب خوب قابل قبول نیاز به تلاش بیشتر

توضیحات آموزگار:

ارزشیابی مهر ماه

پایه اول

تاریخ آزمون:




مدت آزمون:

نام و نام خانوادگی:

نام دبستان:

فارسی

۱- تصاویری را که صدای اولشان «س» است، علامت بزن.



۲- مانند نمونه ۲ بار بنویس.



..... - - ه

..... - - ح


..... - - م

..... - - ه


۳- تصاویری که صدای آخرشان مثل هم است با خط به هم وصل کن.




۴- در هر ردیف صدای اول کدام تصویر با بقیه فرق دارد؟ علامت بزن.



۵- یک تصویر در سمت راست بگش که صدای اول آن مثل صدای اول تصویر سمت چپ باشد.




۶- اختلاف بین دو تصویر را پیدا کن و با علامت در تصویر نشان بده.



۷- تصاویری که صدای آخرشان مثل هم است، رنگ بزن.



۸- سه تا از وسایل سفره هفت سین را که «س» دارد نقاشی کن.



خیلی خوب خوب قابل قبول نیاز به تلاش بیشتر

توضیحات آموزگار:

ارزشیابی آبان ماه

پایه اول

تاریخ آزمون:

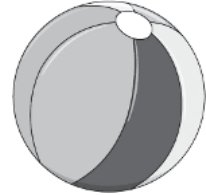
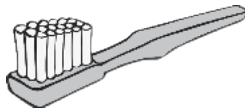
مدت آزمون:

نام و نام خانوادگی:

نام دبستان:

علوم



۱- کودکی که بیمار است، هر یک از تصاویر زیر برای سلامتی او مناسب است علامت × بزن.



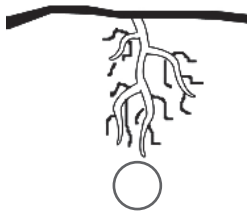
۲- هر کدام از تصاویر که زنده نیست علامت × بزن.



۳- هر جانور را به غذای خودش وصل کن.



۴- کدام قسمت از درخت آب را از خاک می گیرد و به قسمت های دیگر درخت می رساند؟



۵- هر کدام از تصاویر زیر که رشد می کند علامت × بزن.



۶- جانوران زیر چه فایده هایی برای ما دارند؟ آنها را به تصاویر مربوط به خودش وصل کن.



۷- کدام یک از کارهای زیر خطرناک است علامت × بزن.



خیلی خوب خوب قابل قبول نیاز به تلاش بیشتر

توضیحات آموزگار:

ارزشیابی فروردین ماه

پایه اول

نام و نام خانوادگی:

نام دبستان:

فارسی

۱- کلمات را به هم وصل کن و در جای خالی کلمه مناسب بنویس.

- | | |
|---|-------------------------------|
| ← <input type="checkbox"/> خورشید | <input type="checkbox"/> عید |
| ← <input type="checkbox"/> انگشت | <input type="checkbox"/> مثل |
| ← <input type="checkbox"/> علوم | <input type="checkbox"/> اثر |
| ← <input type="checkbox"/> مبعث | <input type="checkbox"/> کتاب |

۲- برای نشانه‌های زیر دو کلمه بنویس.

- ← ع - ← ع
- ← ذ - ← ث

۳- کلمات مخالف را به هم وصل کن.

- | | | | |
|--------------------------------|--------------------------------|--------------------------------|--------------------------------|
| <input type="checkbox"/> خواب | <input type="checkbox"/> آینده | <input type="checkbox"/> شروع | <input type="checkbox"/> تمیز |
| <input type="checkbox"/> پایان | <input type="checkbox"/> کثیف | <input type="checkbox"/> بیدار | <input type="checkbox"/> گذشته |

۴- مرتب کن.

..... : پاکیزه‌ای - است - معصومه - دختر

..... : می‌شود - باعث - سلامتی - ورزش

۵- نام تصاویر زیر را بنویس.



.....

.....

.....

.....

۶- برای تصاویر زیر جمله بنویس.

.....



.....



۷- کلمه‌های زیر را بخش کن و بنویس.

..... - : اذان

..... - : شعار

..... - : دُعا

..... - : مخصوص

۸- کلمات زیر را در جای مناسب بنویس.

(تشکر - صف - می‌گذارم - معلم)

بچه‌ها در بودند.

من وسایلم را در جای مخصوص

مادر از آموزگار کرد.

..... درس را با نام خدا شروع می‌کند.

خیلی خوب خوب قابل قبول نیاز به تلاش بیشتر

..... توضیحات آموزگار:

ارزشیابی اردیبهشت ماه

پایه اول

تاریخ آزمون:

مدت آزمون:

نام و نام خانوادگی:

نام دبستان:

ریاضی

۱- دور عدد مناسب خط بکش.

▲	▲	▲	▲
▲	▲	▲	▲
▲	▲	▲	▲
▲	▲	▲	▲
▲	▲	▲	▲
▲	▲	▲	▲

۳۴ ۲۴ ۲۵

○	○	○	○	○
○	○	○	○	○
○	○	○	○	○
○	○	○	○	○
○	○	○	○	○
○	○	○	○	○

۳۰ ۲۸ ۵۴

■	■	■	■	■	■	■
■	■	■	■	■	■	■
■	■	■	■	■	■	■
■	■	■	■	■	■	■
■	■	■	■	■	■	■
■	■	■	■	■	■	■

۵۹ ۳۶ ۴۹

۲- چوب خط اعداد زیر را بکش.

۱۸ =

۱۳ =

۳- اعداد زیر را به رقم یا حروف بنویس.

۵۹ =

سی و هشت =

۶۴ =

هفتاد و یک =

۴- در جای خالی عدد مناسب بنویس.

	۴۰			۴۳				
--	----	--	--	----	--	--	--	--

۵- الگوهای زیر را ادامه بده.

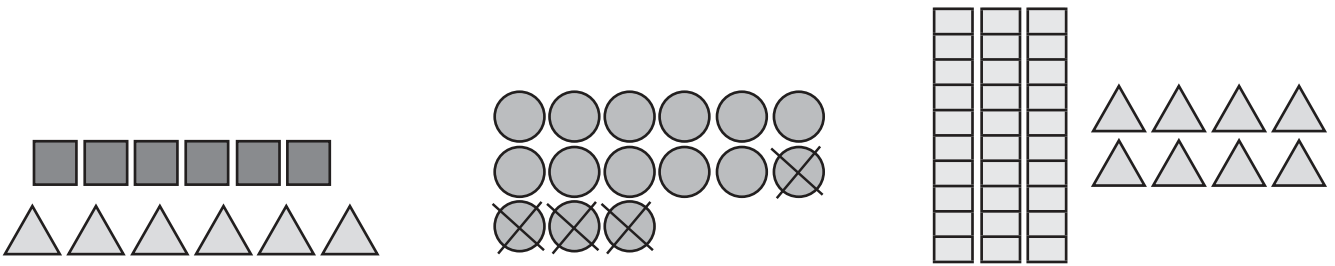
۱۷ - ۲۳ - - - -

+۶

۱۴ - ۲۴ - - - -

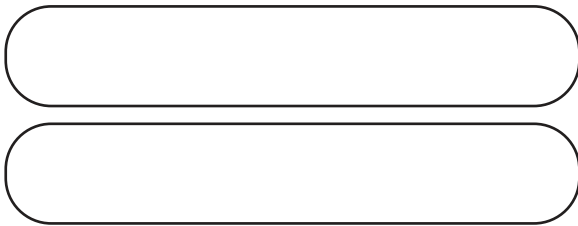
+۱۰

۶- با توجه به شکل جمع و تفریق‌های مناسب را بنویس.



.....

۷- جاهای خالی را کامل کن و شکل بکش.



۶ بسته‌ی ده‌تایی می‌شود تا.

۳ بسته‌ی ده‌تایی و ۴ یکی می‌شود تا.

۸- در جای خالی عدد مناسب بنویس.



ساعت از گذشته است.




کمی به ساعت مانده است.

۹- جمع‌های زیر را انجام بده.

$$۲۵ + ۱۰ + ۵ + ۵ = \square$$

$$۳۰ + ۲۰ + ۴ = \square$$

۱۰- نام شکل‌های زیر را بنویس.



.....

.....

.....

.....

خیلی خوب خوب قابل قبول نیاز به تلاش بیشتر

توضیحات آموزگار:

مشخصات کتاب

آزمون ماهیانه ۱

عنوان کتاب

اول دبستان

گروه سنی

مژگان ژیان پور

مؤلف

رحلی

قطع کتاب

۴۸

تعداد صفحات