

هرگونه کپی برداری به صورت کلی یا جزئی از این محصول از لحاظ قانونی و شرعی ممنوع می باشد.



پایه اول دبستان



درس آزمون ریاضی



مجموعه آزمون های مدادکاغذی
پیشرفت تحصیلی درس به درس

مدیرفروش: ۰۹۱۰۲۰۱۵۲۰۰
salampub.com




با اسکن QR کد محصولات جذاب این پایه را مشاهده کنید.

آزمون ریاضی پایه اول


تم ۱

نام و نام خانوادگی: نام دبستان: کلاس: آموزگار:


۱- در هر دسته تعداد کدام شکل‌ها به اندازه‌ی انگشتان دست هستند؟ (دور آن‌ها خط بکش).



۲- دسته‌هایی که تعداد شکل‌هایشان مثل هم است با خط کش به هم وصل کن.



۳- با کمک خط کش شابلونی، با توجه به دسته‌ی سمت چپ، شکلی را که در دسته سمت راست نیست را بکش.



آزمون ریاضی پایه اول


نوبت اول

نام و نام خانوادگی: نام دبستان: کلاس: آموزگار:

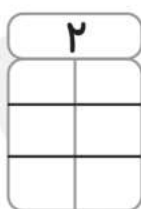
۱- عدد مربوط به هر دسته از شکل ها را بنویسید.



۲- عدد قبل و بعد هر عدد را بنویس.



۳- دو عدد پیدا کن که جمع آنها برابر با عدد بالای ستون باشد.



هرگونه کپی برداری به صورت کلی یا جزئی از این محصول از لحاظ قانونی و شرعی ممنوع می باشد.



پایه اول دبستان

درس نمونه فارسی

مجموعه آزمون های مادداغذی
پیشرفت تحصیلی درس به درس

مدیرفروش: ۰۹۱۰۲۰۱۵۲۰۰
salampub.com



با اسکن QR کد محصولات جذاب این پایه را مشاهده کنید.



آزمون فارسی پایه اول


نشانه (او و)

نام و نام خانوادگی: نام دبستان: کلاس: آموزگار:

۱- دلبندم جدول دوستی را کامل کن.

او و	آ	آ	↶
			ب
			د
			ر
			س


۲- فرزندم کامل کن.



م.....ش



ت.....پ





س.....ت



آ.....ه

۳- دلبندم نام هر تصویر را بنویس.









۴- فرزندم صداها را بنویس.




سبَد



اسباب



مَسْموم




آزمون فارسی پایه اول


نوبت اول

نام و نام خانوادگی: نام دبستان: کلاس: آموزگار:

۱- نام هر تصویر را بنویس.



۲- فرزندم با توجه به شکل جمله ها را کامل کن.

آزاده با دامن می دوزد 

مادر در سبد دارد 

۳- هر کلمه را به تصویر مربوط وصل کن.


بستنی

زنبور

دوربین

سینی

بازی



۴- دلبندم ترکیب کن و بعد جمله بساز.

.....

مین

نار

سیر

آ

هرگونه کپی برداری به صورت کلی یا جزئی از این محصول از لحاظ قانونی و شرعی ممنوع می باشد.



پایه اول دبستان



درس آزمون علوم



مجموعه آزمون های مدادکاغذی
پیشرفت تحصیلی درس به درس

مدیرفروش: ۰۹۱۰۲۰۱۵۲۰۰
salampub.com



با اسکن QR کد محصولات جذاب این پایه را مشاهده کنید.

آزمون علوم پایه اول


درس ۲ (به من خوب نگاه کن)

نام و نام خانوادگی: نام دبستان: کلاس: آموزگار:

۱- به تصاویر نگاه کن، وسایلی که در اتاق یک خانه یافت می شود. علامت (✓) بزن.



۲- نگاه کردن به کدام یک به چشم ما آسیب می رساند؟ علامت (✓) بزن.





۳- «بو کردن» و «چشیدن» در کدام شغل اهمیت بیشتری دارد؟ (دور آن خط بکش).




۴- بینایی کدام جانور قوی تر است؟ (دور آن خط بکش).




۵- هر جانور را به محل زندگی اش وصل کن.



۶- کدام یک از پرنده‌های زیر نمی‌توانند پرواز کنند؟ (دور آن‌ها خط بکش).



۷- وسیله‌های که برای سلامتی و ایمنی کودکان خطرناک هستند را با علامت (✓) مشخص کن.



۸- کدام یک از جانوران زیر گوشت خوار است؟ علامت بزن.



مشخصات کتاب

درس آزمون ۱-ریاضی

عنوان کتاب

اول دبستان

گروه سنی

محمد زارع ثانی

مؤلفان

رحلی

قطع کتاب

۶۴

تعداد صفحات

مشخصات کتاب

درس آزمون ۱ - فارسی

عنوان کتاب

اول دبستان

گروه سنی

مصطفی عظیمی پور

مؤلفان

رحلی

قطع کتاب

۴۸

تعداد صفحات

مشخصات کتاب

درس آزمون ۱ - علوم

عنوان کتاب

اول دبستان

گروه سنی

محمد حارث آبادی

مؤلفان

رحلی

قطع کتاب

۴۸

تعداد صفحات