

# پیک هفتگی



+ صفحات جادویی  
واقعیته افزوده

## ۵

### پنجم دبستان



تصویر کن و  
پین، یاد بگیر و لذت ببر!



گروه تخصصی کودک و نوجوان

مدیر فروش: ۰۹۱۰۲۰۱۵۲۰۰

salampub

@Salam\_PUB

www.salampub.com

## پیک هفتگی

به همراه ویدئوهای آموزشی (معلم خصوصی)



نام و نام خانوادگی: \_\_\_\_\_ دپستتان: \_\_\_\_\_ کلاس: \_\_\_\_\_

قرآن: درس دهم (صفحه ۷۹ تا ۸۴)

اجتماعی: درس هفدهم (صفحه ۸۸ تا ۹۱)

هدیه های آسمان: درس سیزدهم (صفحه ۹۲ تا ۹۸)

علوم: مرور بردرس هشت و نه (صفحه ۷۴ تا ۷۸)

فارسی: درس چهاردهم (صفحه ۱۰۷ تا ۱۱۱)

ریاضی: مرور بردرس اندازه گیری (صفحه ۱۰۲ تا ۱۱۲)

بیک هفتگی  
۲۴



## قرآن و هدیه های آسمان

۱ ترجمه ی عبارت قرآنی را کامل کنید.

ببین، یاد بگیر و لذت ببر!

شهر رمضان الَّذِي أَنْزَلَ فِيهِ الْقُرْآنَ هُدًى لِّلنَّاسِ «بقره ۱۸۵»

..... رمضان که ..... در آن ..... برای .....

۲ معنای صحیح هر کلمه را پیدا کنید و رنگ بزنید.

مبارک باد    مبارک    مبارکه

انزل کرد    نازل شد    انزل

مردم    مرد    شب    لیل    تاریک

۳ خداوند در آیه ی ۳۱ سوره ی اعراف درباره ی اسراف و اسراف کاران چه فرموده اند؟



۴ چند نمونه از اسراف هایی که در زندگی انجام می دهیم را بنویسید.

۵ برای هر یک از موارد زیر دو مثال بنویسید.



اسراف کردن:

مصرف کردن:

۶ خانواده ی شما برای جلوگیری از اسراف، چه مواردی را در خانه رعایت می کنند؟

..... -۱

- خیلی خوب     خوب     قابل قبول     نیاز به تلاش بیشتر



۱) کلمات هم‌خانواده را پیدا کرده و هم‌رنگ کنید.

متفکر	شرافت	ایمان	حادثه	شریف
کمال	کامل	مؤمن	امن	حوادث
افکار	مکمل	تفکرات		

۱) شجاعت اخلاقی دارد یعنی چه؟ سه نمونه از شجاعت‌های اخلاقی را نام ببرید.



۲) به عبارت‌های مرکب زیر (-، ی) اضافه کرده و عبارت جدید را بنویسید.

..... ← نمره + خوب:	..... ← حرف + راست:
..... ← اخلاق + پسندیده:	..... ← صحنه + نبرد:
..... ← مو + سفید:	..... ← روستا + آباد:

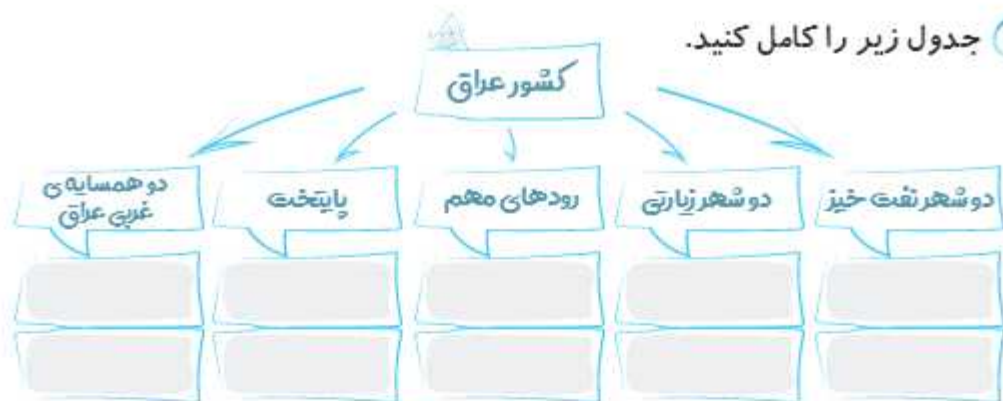
خیلی خوب  خوب  قابل قبول  نیاز به تلاش بیشتر

۱) جاهای خالی را با کلمات و عبارت‌های مناسب کامل کنید.



- عراق همسایه غربی کشور ..... است.
- مهم‌ترین محصول کشاورزی عراق ..... است.
- آب‌وهوای عراق ..... است.
- بندر معروف کشور عراق می‌باشد.

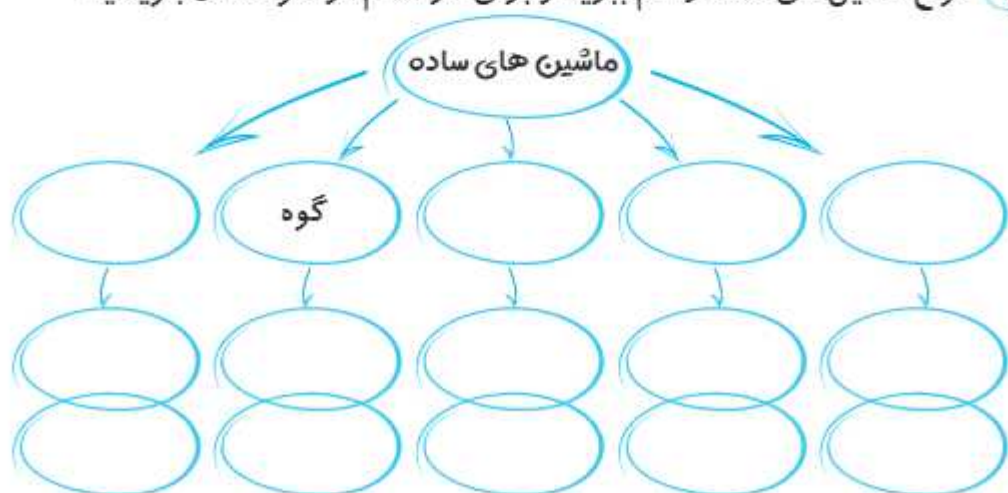
۲ جدول زیر را کامل کنید.



خیلی خوب     خوب     قابل قبول     نیاز به تلاش بیشتر

۱ کلمات مناسب را به جمله‌ی مناسب وصل کنید.

- وسیله‌ای است که در آن اهرم نوع سوم و گوه وجود دارد.
  - از این وسیله برای بلند کردن اجسام سنگین استفاده می‌شود.
  - قرقره‌ی ثابت مانند این نوع اهرم عمل می‌کند.
  - نوعی چرخ و محور است که نیرو به محور وارد شده و چرخ می‌چرخد.
  - نوعی چرخ و محور است که نیرو به چرخ وارد شده و محور می‌چرخد.
- ۲ انواع ماشین‌های ساده را نام ببرید و برای هر کدام دو نمونه مثال بنویسید.

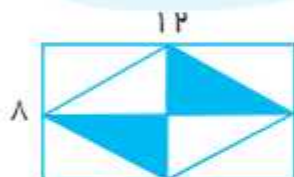


خیلی خوب     خوب     قابل قبول     نیاز به تلاش بیشتر


۱) محیط شکل‌های زیر را به دست آورید.




۲) مساحت قسمت رنگی شکل مقابل را به دست آورید.



۳) دوزنقه ای داریم با قاعده‌های ۱۸ و ۱۰ و ارتفاع ۹، مساحت آن را به دست آورید.



۴) مساحت یک لوزی ۲۱۶ سانتی‌متر مربع است. اگر اندازه‌ی قطر کوچک آن ۱۸ سانتی‌متر باشد. اندازه‌ی قطر بزرگ این لوزی چند سانتی‌متر است؟



خیلی خوب   
  خوب   
  قابل قبول   
  نیاز به تلاش بیشتر

نظر یا پیشنهاد والدین:

ارزیابی آموزگار:



کلاس:

دبستان:

نام و نام خانوادگی:

اجتماعی: درس ۲۱ و ۲۲ صفحه ۱۰۸ تا ۱۱۱

قرآن: درس دوازدهم صفحه ۱۰۰ تا ۱۰۴

علوم: درس دوازدهم صفحه ۱۰۱ تا ۱۰۴

هدیه های آسمان: درس هفدهم صفحه ۱۳۲ تا ۱۳۷

ریاضی: ضرورت بر فصل آمار و احتمال صفحه ۱۳۶ تا ۱۳۹

فارسی: درس هفدهم صفحه ۱۳۲ تا ۱۴۰

بیک هفتگی  
۳۰



### قرآن و هدیه های آسمان

ببین، یاد بگیر و لذت ببر!

۱ پیامبر گرامی (ص) می فرماید چه کسانی پس از پیامبران و الاترند؟

- اهل نماز
- اهل قرآن
- شیعیان
- امامان

۲ ترجمه ی پیام قرآنی زیر را بنویسید.



فَسَيَتْلُوا أَهْلَ الذِّكْرِ إِنْ كُنْتُمْ لَا تَعْلَمُونَ

.....

۳ منظور از "یوم الحساب" چیست؟

۴ از ویژگی های نیکوکاران و بدکاران را هر کدام ۴ مورد بنویسید.

<div style="border: 1px solid black; border-radius: 15px; padding: 5px; margin-bottom: 5px;">.....</div> <div style="border: 1px solid black; border-radius: 15px; padding: 5px; margin-bottom: 5px;">.....</div> <div style="border: 1px solid black; border-radius: 15px; padding: 5px; margin-bottom: 5px;">.....</div> <div style="border: 1px solid black; border-radius: 15px; padding: 5px;">.....</div>	<p>بدکاران</p>	<div style="border: 1px solid black; border-radius: 15px; padding: 5px; margin-bottom: 5px;">.....</div> <div style="border: 1px solid black; border-radius: 15px; padding: 5px; margin-bottom: 5px;">.....</div> <div style="border: 1px solid black; border-radius: 15px; padding: 5px; margin-bottom: 5px;">.....</div> <div style="border: 1px solid black; border-radius: 15px; padding: 5px;">.....</div>	<p>نیکوکاران</p>
---	----------------	---	------------------

۵ ضرب المثل "هر چه کنی به خود کنی، گر همه نیک و بد کنی" چه رابطه ای با عاقبت

ما در دنیای آخرت دارد.

- خیلی خوب  خوب  قابل قبول  نیاز به تلاش بیشتر



۱ مفهوم عبارت های زیر را بنویسید.

همه چیز را همگان دانند:

همه جا محل یادگیری است:

۲ حکایت «جوان و راهزن» بیان کننده ی کدام مثل می باشد؟

بادآورده را باد می برد

تا تنور گرم است نان را بچسبان

راستی راه نجات است

تهی پای رفتن، به از کفش تنگ

تنبل نرو به سایه، سایه خودش می آید

سنگ مفتف گنجشک مفت

۳ متن های ادبی زیر را به زبان ساده بنویسید.

۱ پروردگارا، ما را بدان نوری پیروز که بندگان نیک خود را پروردی.

۲ ملکا، غافلان را به لطف خود، بیدار گردان.

خیلی خوب  خوب  قابل قبول  نیاز به تلاش بیشتر

۱ جدول زیر را کامل کنید.

نام وزیر:	اقدامات:	وزیران ایرانی ایلخان
نام وزیر:	اقدامات:	

۲ چه کسی و چگونه حکومت ایلخانان را تأسیس کرد؟

۳ شاعران نامی ایرانی در زمان مغول و تیموری را بنویسید و به ترتیب یک اثر از هر کدام را نام ببرید.

شاعران:

آثار شاعران:

خیلی خوب  خوب  قابل قبول  نیاز به تلاش بیشتر

علوم

۱ فاطمه به پشت و روی یکی از برگ های گلدان خانه شان مقداری روغن بادام مالید. بعد از چند روز برای مشاهده ی برگ سراغ گلدان رفت.

الف) فاطمه چه چیزی مشاهده کرد؟

ب) چرا این اتفاق افتاده بود؟

۲ در گیاه زیر قسمت های مختلف گیاه را نام گذاری کنید.



۳ هوا چگونه وارد گیاهان می شود؟

خیلی خوب  خوب  قابل قبول  نیاز به تلاش بیشتر



۱) برای مقایسه اندازه‌ی قد دانش‌آموزان زیر، نمودار مناسبی رسم کنید.

مهدی ۱۴۰ سانتی‌متر	مجید ۱۳۵ سانتی‌متر
سعید ۱۵۰ سانتی‌متر	رضا ۱۴۵ سانتی‌متر
علی ۱۲۵ سانتی‌متر	وحید ۱۶۰ سانتی‌متر



۲) میانگین چهار عدد  $\frac{۳}{۴}$ ،  $\frac{۲}{۴}$ ،  $\frac{۱}{۴}$  را به دست آورید.



۳) مجموع ۵ عدد متوالی ۱۵۰ است. عدد کوچک‌تر این مجموعه را به دست آورید.



۴) اگر یک سکه را بیندازیم، احتمال دارد که رو یا پشت بیاید. به همین ترتیب برای موارد زیر احتمال‌های موجود را توضیح دهید.

الف) تولد نوزاد در روز شنبه: .....

.....

ب) بیمار شدن فردی در بهمن ماه: .....

.....

خیلی خوب  خوب  قابل قبول  نیاز به تلاش بیشتر

نظر یا پیشنهاد والدین:  
ارزیابی آموزگار:



نام و نام خانوادگی: \_\_\_\_\_ دپستتان: \_\_\_\_\_ کلاس: \_\_\_\_\_

قرآن: جلسه دوم و سوم (صفحه ۸۵ تا ۸۷)

هدیه آسمان: درس اول و دوم (صفحه ۱۳ تا ۱۴)

فارسی: درس اول (صفحه ۱۴ تا ۱۵)

اجتماعی: درس اول و دوم (صفحه ۴۵ تا ۸۷)

علوم: درس اول (صفحه ۴۵ تا ۷۳)

ریاضی: معرفی میلیارد (صفحه ۵۵ تا ۱۰۷)

بیک هفتگی

۲



## هدیه های آسمان و قرآن

ببین، یاد بگیر و لذت ببر!

۱ عبارتهای قرآنی را بخوانید، ترجمه‌ی آنها را کامل کنید و حروف ناخوانا را در هر آیه با رنگ قرمز مشخص کنید.

وَاحْسِنُوا إِلَى اللَّهِ يَحِبُّ الْمُحْسِنِينَ

و ..... قطعاً خدا دوست دارد ..... را

وَاطِيعُوا اللَّهَ وَرَسُولَهُ

و ..... را و ..... او را

۲ یکی از نامهای قرآن «نور» است. به نظر شما چرا خداوند قرآن را نور نامیده است؟

۳ امام علی (ع) فرموده‌اند: «قرآن، دریایی است که هیچ گاه خشک نمی‌شود» چه شباهتی میان دریا و قرآن وجود دارد؟



خیلی خوب  خوب  قابل قبول  نیاز به تلاش بیشتر

۱

پایه پنجم دبستان

۱ معنای کلمات زیر را بنویسید.



۲ کلمه های متضاد را از متن درس (تماشاخانه ی طبیعت) پیدا کنید و بنویسید؟

۳ داستانی تخیلی و کوتاه بنویسید که نقش آفرینان داستان شما، آفریده های ساکت خداوند باشند.

.....

.....

.....

۴ زیباترین جمله ی درس که نظر شما را جلب کرده است را بنویسید؟ دلیل شما از زیبا بودن این جمله چیست؟

.....

.....

خیلی خوب  خوب  قابل قبول  نیاز به تلاش بیشتر

یکی از مهم ترین نکاتی که در ارتباط افراد وجود دارد، احترام به حریم شخصی افراد است.

۱ حریم شخصی هر فرد را در چند جمله توضیح دهید. می توانید آن را به هر چیزی تشبیه کنید؟

.....





۴ عدد ۰۰۰۰۷۴۹۱۳۴۶ را به حروف بنویسید.

به حروف:

چه رقم‌هایی در مرتبه‌ی میلیارد قرار دارد؟

عدد ۹ در چه مرتبه‌ای و در چه طبقه‌ای قرار دارد؟

خیلی خوب  خوب  قابل قبول  نیاز به تلاش بیشتر

علوم

۱ درباره‌ی اقداماتی که برای برنده شدن در مسابقه‌ی **فرره‌ی چرخان** انجام داده‌اید، به سؤالات زیر پاسخ دهید.

چه چیزهایی را باید تغییر دهید؟

چه چیزهایی را باید اندازه بگیرید؟

چه چیزهایی را نباید تغییر دهید؟

خیلی خوب  خوب  قابل قبول  نیاز به تلاش بیشتر

نظر یا پیشنهاد والدین

ارزیابی آموزگار



بیک هفتگی  
۱۱

نام و نام خانوادگی: \_\_\_\_\_ دپستتان: \_\_\_\_\_ کلاس: \_\_\_\_\_

قرآن: درس پنجم (صفحه ۳۷ تا ۳۹)	اجتماعی: درس هشتم (صفحه ۳۷ تا ۴۰)
هدیه آسمان: درس هفتم (صفحه ۴۸ تا ۵۲)	علوم: درس چهارم (صفحه ۳۰ تا ۳۲)
فارسی: درس هشتم (صفحه ۵۲ تا ۶۱)	ریاضی: فصل سوم (صفحه ۵۶ تا ۵۹)



ببین، یاد بگیر و لذت ببر!

### هدیه‌های آسمان و قرآن



۱ ترجمه‌ی عبارت قرآنی زیر را کامل کنید.

إِنَّ الَّذِينَ آمَنُوا وَعَمِلُوا الصَّالِحَاتِ لَهُمْ جَنَّاتُ النَّعِيمِ

قطعا ..... و ..... برای آن‌ها ..... ی پر نعمت است.

۲ کلمه‌های هم معنی را به یکدیگر وصل کنید.

جَنّات	غلام	صالح	عمل	نعیم
کار خوب	انجام داد	بهشت‌ها	نوکر	پر نعمت
پسر				

۳ جاهای خالی را با کلمات مناسب کامل کنید.

امام علی (ع) می‌فرماید: «..... بهترین ماه است،  
..... بهترین شب سال، و ..... بهترین روز هفته است»

۴ رنگین‌کمان جمعه را کامل کنید و به رنگ‌های رنگین‌کمان رنگ کنید.

خیلی خوب  خوب  قابل قبول  نیاز به تلاش بیشتر



۱ در متن زیر کلمه های نادرست را بیابید و شکل صحیح آن ها را بنویسید.

تخت جمشید با عضمت و شکوه خیر کننده اش، مرکز فرمانروایی این سرزمین پهن آور بود. در میان این همه شکوه و جلال، نگاه تاخت و تاذی سهمگین از سوی با خطر، آغاز گشت. اسکندر که مدری شحرت طلب و جنگ جو بود، از سرزمین مغدونیه با لشکری انبو به سوی کشور ما ایران هجوم آورد.

شکل صحیح کلمات:

۲ متن زیر را بخوانید، ابتدا تعداد جملات را مشخص کرده و سپس فعل های آن را بنویسید.

آیا باید تسلیم شد و چیرگی دشمن را بر خانمان دید و خواری و خفت را به جان خرید، یا جنگید و خاک وطن را از خون خود گلگون کرد؟

فعل های متن:

تعداد جمله:

۳ سه مورد موصوف و صفت از متن درس «دفاع از میهن» پیدا کنید و بنویسید.

۴ جمله ای زیبا خطاب به آریوبرزن، دلاور ایرانی بنویسید. و یک نقاشی زیبا از صحنه ی دلآوری او بکشید.

خیلی خوب  خوب  قابل قبول  نیاز به تلاش بیشتر

۱ هر کدام از مفاهیم زیر را به طور خلاصه تعریف کنید.

صادرات:

واردات:

بازرگانی:

۲ جدول زیر را کامل کنید.

واردات	تولیدات و صادرات	نام استان
		استان گیلان
		استان خراسان جنوبی
		استان کرمان

خیلی خوب  خوب  قابل قبول  نیاز به تلاش بیشتر

۱ شرایط لازم برای تشکیل فسیل را بنویسید؟

۲ زمین شناسان چگونه به وجود آثار جانداران در زمین دست می‌یابند؟

۳ فسیل‌ها در میان کدام نوع سنگ‌ها دیده می‌شود؟ چرا؟

۴ چرا از بدن جانداران خشکی، فسیل کمتری تشکیل می‌شود؟

خیلی خوب  خوب  قابل قبول  نیاز به تلاش بیشتر

۱) ابتدا جدول را کامل کنید و سپس به سوالات پاسخ دهید.

اندازه ضلع مربع	۱	۲	...	۹
اندازه‌ی محیط مربع	۴	...	۱۶	...

جدول (۱)




اندازه ضلع مربع	۱	۲	...	۹
مساحت مربع	۱	۴	۱۶	...

جدول (۲)

تناسب در جدول ..... برقرار است. چون: .....

تناسب در جدول ..... برقرار نیست. چون: .....

۲) با توجه به الگوی به کار رفته در شکل های زیر جدول را کامل کنید.

		
۱	۲	۳

تعداد مربع			
تعداد ضلع			

۳) نسبت طول به عرض مستطیلی مانند ۴ به ۲ است. اگر محیط مستطیل ۷۰ سانتی متر باشد، اندازه‌ی طول و عرض مستطیل را به دست آورید.



۴) نسبت سن پسری به پدرش مثل عدد ۲ به ۷ است. اگر اختلاف سن آنها ۱۵ سال باشد، سن پسر چند سال است؟

خیلی خوب  خوب  قابل قبول  نیاز به تلاش بیشتر

نظم یا پیشنهاد والدین

ارزیابی آموزگار