



گروه آموزشی سلام

کتاب کار
اول دبستان

ریاضی



محبوبه عرفانی
فریبا ابراهیم پور

به نام خدا

کتاب کار
اول دبستان

ریاضی

گروه آموزشی سلام

- بهترین سوال‌ها به ترتیب تم‌های کتاب درسی
- جدول، چيستان، بازی و سرگرمی
- آزمون تشخیصی و پایانی



گروه آموزشی سلام



مولفان:

- محبوبه عرفانی حامد عید گاهی
- فریبا ابراهیم پور



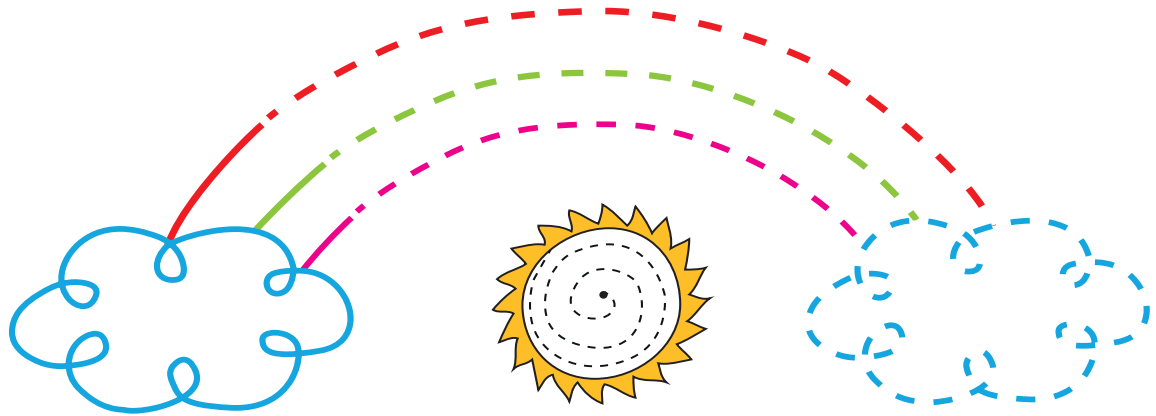
فهرست

- | | |
|------------------------|--------------------|
| • تم ۱۴ ۷۲ | • مقدمه ۴ |
| • ارزشیابی نوبت اول ۸۰ | • ارزشیابی ورودی ۵ |
| • تم ۱۵ ۸۴ | • تم ۱ ۹ |
| • تم ۱۶ ۸۹ | • تم ۲ ۱۴ |
| • تم ۱۷ ۹۷ | • تم ۳ ۱۸ |
| • تم ۱۸ ۱۰۴ | • تم ۴ ۲۱ |
| • تم ۱۹ ۱۱۳ | • تم ۵ ۲۵ |
| • تم ۲۰ ۱۲۰ | • تم ۶ ۲۹ |
| • تم ۲۱ ۱۲۶ | • تم ۷ ۳۲ |
| • تم ۲۲ ۱۳۴ | • تم ۸ ۳۵ |
| • تم ۲۳ ۱۴۱ | • تم ۹ ۴۰ |
| • تم ۲۴ ۱۴۷ | • تم ۱۰ ۴۶ |
| • تم ۲۵ ۱۵۲ | • تم ۱۱ ۵۱ |
| • ارزشیابی پایانی ۱۵۶ | • تم ۱۲ ۵۷ |
| | • تم ۱۳ ۶۴ |






ارزشیابی ورودی

۱ نقطه چین ها را پررنگ کن.

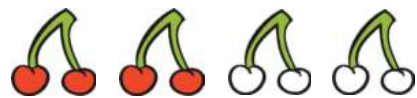
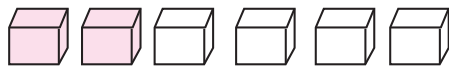
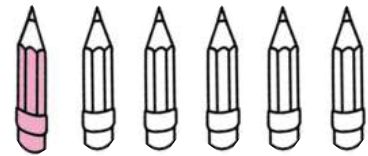




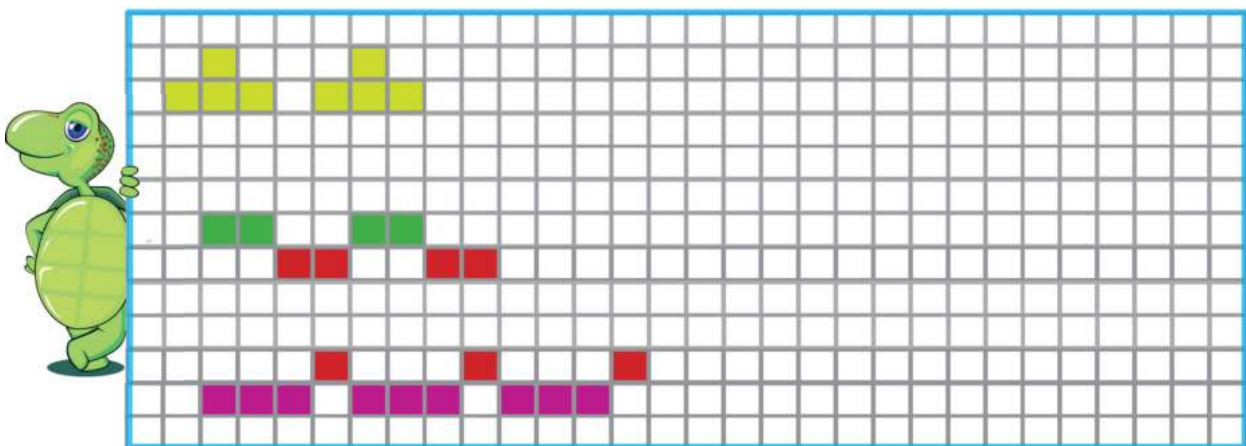
۱ به هر دسته ۲ شکل اضافه کن و تعداد آن ها را با انگشتان دست چپ نشان بده.



۲ در هر ردیف ۲ شکل دیگر را رنگ بزن و تعداد شکل های رنگ شده را بلند بگو.



۳ مانند الگو ادامه بده.



۸ از هر دسته ۲ شکل بردار و بگو چند تا می ماند.

Illustration of 3 teddy bears, with the last two crossed out. An empty oval shape is provided for the student to write the remaining count.


Illustration of 5 purple elephants. An empty oval shape is provided for the student to write the remaining count.

Illustration of 4 orange crabs. An empty oval shape is provided for the student to write the remaining count.

۹ مربع های شگفت انگیز را کامل کن.

☆	●	☾	
▽	☾		☆
	▽		☾
		▽	●

■	■	■	■
■			
■			
■			





۱ به تعداد تکه پیتزاهای خورده شده، از گردی های سمت چپ زرد و به تعداد تکه پیتزاهای مانده، از گردی های سمت راست قرمز کن.

۲ اعداد را پررنگ کن و نوشتن را ادامه بده.

۱	۱	۱	۱	۱				
۲	۲	۲	۲	۲				






۱ اعداد را پررنگ کن و نوشتن را ادامه بده.

۳	۳	۳	۳	۳				
۴	۴	۴	۴	۴				

۲ سومین جوجه از سمت چپ را رنگ بزن.



۳ گلابی‌ها را بشمار و عدد مناسب را بنویس.







۴ به تعداد عدد نوشته شده، واگن قطارها را کامل کن.










هشتم



ارزشیابی نوبت اول

(تم های ۱ الی ۱۴)


۱ عدد هر دسته را بنویس و در جای خالی علامت (> یا =) قرار بده.



۲ برای هر عدد از یک رنگ استفاده کن و با رنگ کردن جواب جمع را پیدا کن.


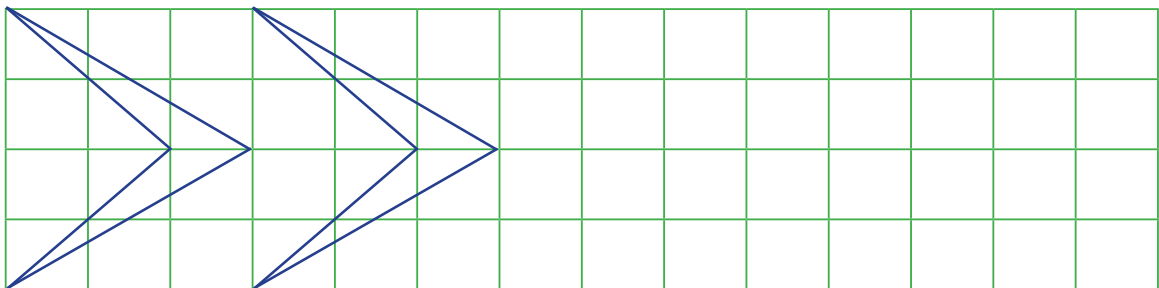


$$۳ + ۵ + ۲ =$$

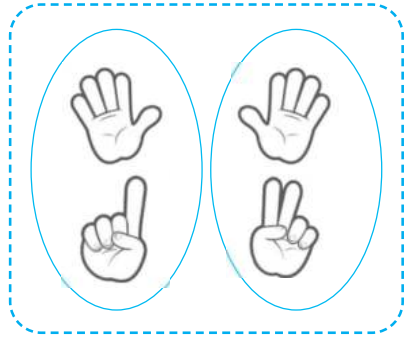



$$۲ + ۳ + ۱ =$$

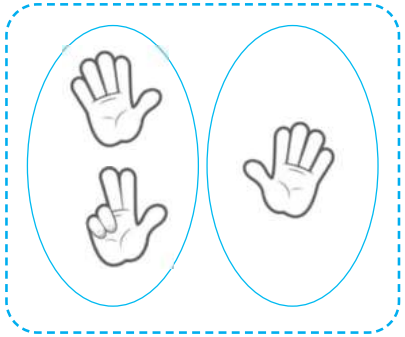
۳ الگو را با خط کش ادامه بده.



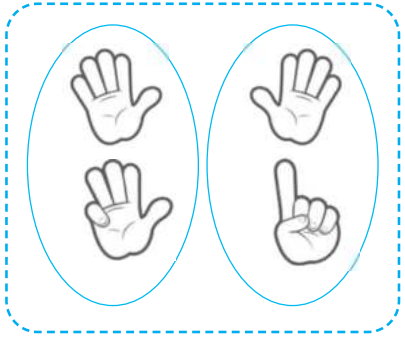
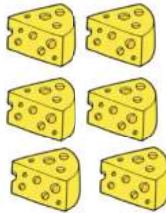

۷ با استفاده از مقوای رنگی چهار تا دست درست کن و با کمک آن‌ها جواب جمع‌ها را پیدا کن.



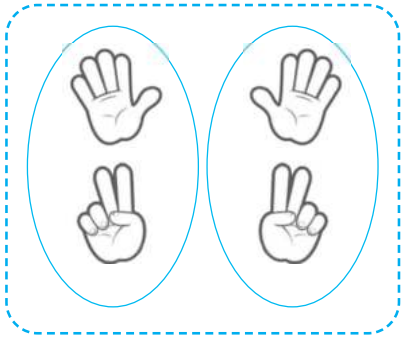


$$\dots\dots\dots 6 \dots\dots\dots + \dots\dots\dots 7 \dots\dots\dots = \dots\dots\dots 13 \dots\dots\dots$$



$$\dots\dots\dots + \dots\dots\dots = \dots\dots\dots$$



$$\dots\dots\dots + \dots\dots\dots = \dots\dots\dots$$



$$\dots\dots\dots + \dots\dots\dots = \dots\dots\dots$$

تم ۱۶



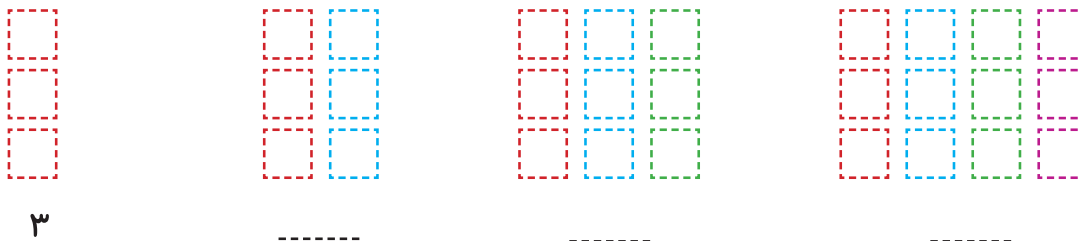


۱ در یک روز آفتابی قورباغه تصمیم گرفت ورزش کند. او به روی چینه های خالی پرید. عدد خانه های خالی را با مداد قرمز بنویس.

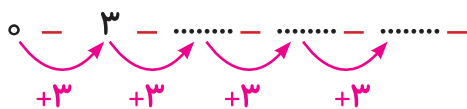
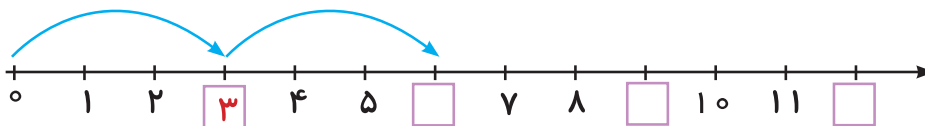


۱	۲	۳	۴	۵		۷	۸		۱۰	۱۱	
---	---	---	---	---	--	---	---	--	----	----	--

۲ عددهایی را که با قرمز نوشته ای در ردیف پایین بنویس و نقطه چین ها را پر رنگ کن و شکل ها را با توجه به رنگ نقطه چین ها رنگ بزن.



۳ محور را کامل کن و در جای خالی عدد مناسب بنویس.




۴ سه تا سه تا بشمار و در خانه های خالی عددهای مناسب بنویس. از دو رنگ استفاده کن.

۱	۲	۳						





۱ با توجه به شکل‌ها جاهای خالی را پر کن.



ده تایی	یکی
۱	۰
۱۰	



ده تایی	یکی
.....
.....	



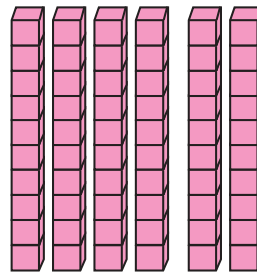
ده تایی	یکی
.....
.....	




ده تایی	یکی
.....
.....	




ده تایی	یکی
.....
.....	



ده تایی	یکی
.....
.....	



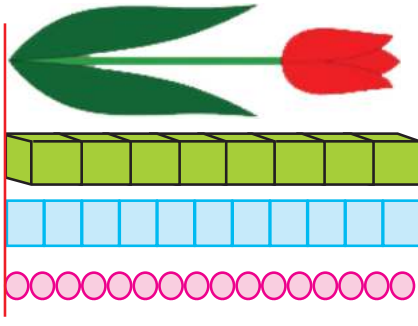
ده تایی	یکی
.....
.....	



ده تایی	یکی
.....
.....	

۱۹ تم





۷ اندازه‌ی گل بین کدام دو عدد است؟

اندازه‌ی گل بین ۷ و ۸ است. 

اندازه‌ی گل بین و است. 


اندازه‌ی گل بین و است. 

۸ با کلمات بلندترین، کوتاه‌ترین و هم اندازه جمله‌ها را کامل کن.


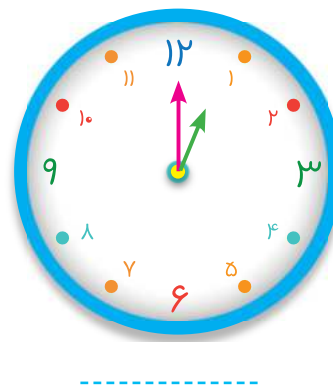
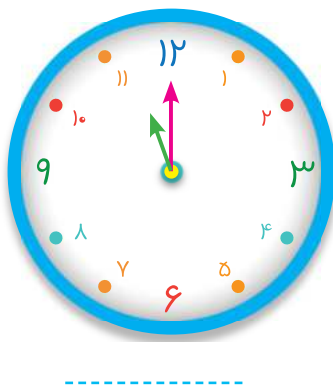
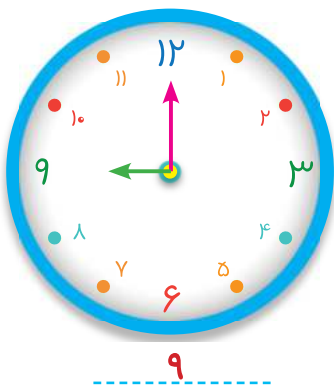
گل شماره‌ی ۴ با گل شماره‌ی ۱ است.

گل شماره‌ی ۳ گل است.

گل شماره‌ی ۲ گل است.



۹ زمانی را که هر ساعت نشان می‌دهد بنویس.



مشخصات کتاب

عنوان کتاب کتاب کار ریاضی اول دبستان

گروه سنی پایه اول

مؤلفان محبوبه عرفانی حامد عیدگاهی
فریبا ابراهیم پور

قطع کتاب رحلی

تعداد صفحات ۱۶۰