

پیک خوردوزی

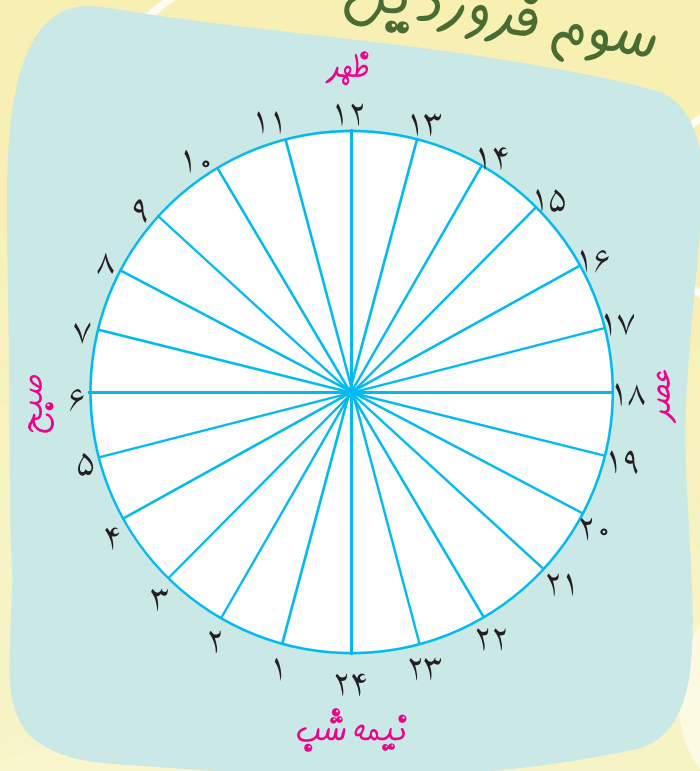
ششم دبستان

۶



با توجه به مطالبی که در کتاب اجتماعی خود یاد گرفته‌اید نمودار زندگی روزانه‌ی خود را در (ایام عید نوروز) کامل کرده و سپس به سوالات پاسخ دهید.

سوم فروردین



راهنما

.....

.....

.....

.....

.....

.....

.....



رمضان ماه میهمانی خدا

چه کسری از شبانه‌روز را برای انجام فعالیت‌های درسی اختصاص دادید؟

تقریباً چند درصد از ساعات هر شبانه‌روز خود را به انجام فعالیت‌های درسی اختصاص داده‌اید؟

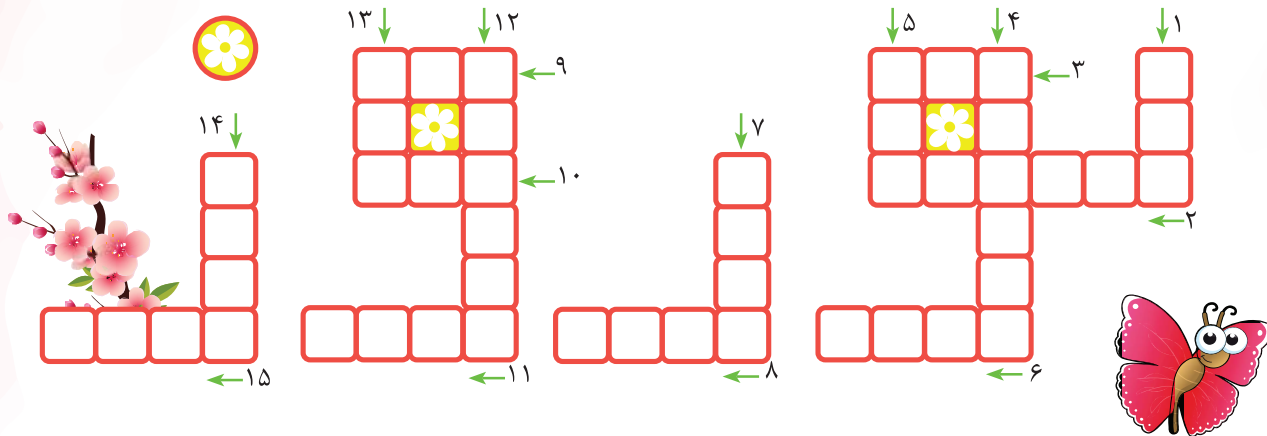
بطور تقریبی در هر شبانه‌روز چند درصد از وقت خود را برای بازی، دید و بازدید و ... در نظر گرفته‌اید؟

آیا بعد از تمام شدن تعطیلات نوروزی هنوز هم می‌توانید همین برنامه را داشته باشید؟ علت را توضیح دهید:

چهارم فروردین

دنيا زندان مؤمن و بهشت كافر است. پیامبر (ص)

جدول را کامل کنید.



- ۱- به اعدادی که یکان آن‌ها (۸، ۶، ۴، ۲، ۰) باشد، عدد می‌گوییم.
- ۲- یکی از مهم‌ترین منابع غذایی بعد از غلات، محصولات می‌باشند.
- ۳- نام سی‌امین حرف از حروف فارسی است.
- ۴- نامی برای محصولات سفیدکننده است.
- ۵- هم به معنی «سرپرست» است و هم مترادف «اما».
- ۶- یکی از اجزای درخت‌های تنومند که برای تهیه کاغذ مناسب است.
- ۷- هسته‌ی خارجی زمین چنین حالتی دارد.
- ۸- جمع مکسر آن، «علما» می‌شود.
- ۹- صیاد آن را پهن می‌کند.
- ۱۰- یکی از موادی که جزو عوامل انسانی مؤثر در کشاورزی است.
- ۱۱- نام مادر بزرگواری که وقتی فرزندش تشنه بود هفت پار پنبه دو کوه «صفا» و «مره» را دوید.
- ۱۲- نام یکی از پادگان‌هایی که در زمان جنگ تحمیلی محل سازماندهی بهترین جوانان ایرانی بود.
- ۱۳- نام مکانی برای نگهداری کودکان.
- ۱۴- به دو زاویه که مجموعشان ۹۰ درجه باشد، گفته می‌شود.
- ۱۵- مترادف واژه‌ی «دلیل» است.

آداب معاشرت

آداب معاشرت به رفتارهایی گفته می‌شود که ما هنگام رو به رو شدن با دیگران و برای رعایت ادب و نزاکت در برابر رفتارهایشان انجام می‌دهیم، به طور خلاصه احترامی است که برای دیگران قائل هستیم. خداوند نیز در قرآن کریم به ما دستور می‌دهد که در برابر دیگران، هم گفتار و هم رفتار پسندیده‌ای داشته باشیم. اکنون به سوالات زیر پاسخ دهید. در کدام آیات و در چه سوره‌ای از قرآن درباره‌ی آداب معاشرت دستوراتی به ما مسلمانان داده شده است؟

.....
 یکی از فواید مهم رعایت کردن آداب معاشرت را بنویسید.

تحقیق و پرس و جو کنید و حدیث نوشته شده را کامل نمایید.
 پیامبر (ص) فرمود: «داناترین مردم کسی است که با

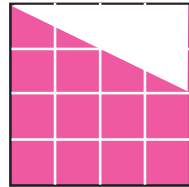
مردم بیشتر ابتدا وضو بگیرد، قرآن را باز کرده و سوره‌ای که خودتان گفتید درباره‌ی آداب معاشرت است را بیاورد و آیات مورد نظر در سوالات زیر را پیدا کنید. آیه‌های مربوطه و ترجمه‌ی فارسی آن‌ها را بخوانید و سپس معنی آن‌ها را بنویسید.

.....
 لَا يَسْخَرُ قَوْمٌ مِنْ قَوْمٍ
 اجْتَنَبُوا كَثِيرًا مِنَ الظَّنِّ




هفتم فروردین

قسمت رنگی کدام یک از شکل های زیر مساحت بیشتری دارد؟



(۱)



(۳)



(۲)

برای پیدا کردن پاسخ این سوال از چه روشی استفاده کردید؟ آن را توضیح دهید.

در تصویر زیر بجای ؟ چه عددی باید نوشته شود؟ توضیح دهید چگونه پاسخ را محاسبه کردید.

$$\text{Tomato} = 9$$

$$\text{Cucumber} = 5 + \text{Tomato}$$

$$\text{Tomato} = 3 + \text{Cherry}$$

$$\text{Cucumber} + \text{Cherry} + \text{Tomato} = ?$$

«وَكُلُوا وَاشْرَبُوا وَلَا تُسْرِفُوا.....» بخورید و بیاشامید ولی اسراف نکنید!



صرفه‌جویی در مصرف آب، برق، گاز و...

کشور عزیز ما ایران، کشوری با اقلیم عمدتاً گرم و خشک است و رشد سریع جمعیت و نیز کاهش چشمگیر بارندگی باعث شده که با خطر جدی بحران آب رو به رو باشیم. جمعیت ایران در سال ۱۳۰۶ حدود ۸ میلیون نفر بود و اکنون در سال ۱۳۹۷ به حدود ۸۰ میلیون نفر رسیده است، گرچه حدود ۹۳ درصد مصرف آب در ایران به بخش کشاورزی و فقط حدود ۶ درصد به بخش خانگی می‌رسد اما با این وجود صرفه‌جویی در مصرف آب و مخصوصاً صرفه‌جویی در مصرف محصولات کشاورزی و نیز مدیریت صحیح در سطح کشور می‌تواند کمک مؤثری در این زمینه باشد.

به سوالات زیر پاسخ دهید

آب مورد نیاز کشاورزی در مناطق مختلف ایران از چه راه‌هایی تأمین می‌شود؟

میزان متوسط بارندگی در ایران را با میزان متوسط بارندگی در جهان مقایسه کنید.

خلیج فارس و دریای عمان از نظر شوری آب و عمق، چه تفاوتی با هم دارند؟

آب راهه چیست؟

