

پیک خوردوزی

پنجم دبستان

۵



آیات زیر را با صدای بلند قرائت کرده و اتصالات آن‌ها را مشخص کنید:

يا أَيُّهَا الَّذِينَ أُوتُوا الْكِتَابَ آمِنُوا بِنِزْلِنَا

وَقَالَ الرَّسُولُ يَا رَبِّ إِنَّ قَوْمِي اتَّخَذُوا هَذَا الْقُرْآنَ مَهْجُورًا

فرزندم! کدام سوره‌های قرآن کریم سجده‌ی واجب دارند؟

۱. ۲. ۳. ۴.

پیامبران اولوالعزم را نام ببرید و کتاب هر یک را بنویسید.

				
.....
.....

معنی لغات زیر را بنویسید.

تدبیر:

فارغ:

اهتزاز:

متانت:

کاهلی:

بحر:

نکوهیده:

مهیّب:

ضایع:

$\frac{2}{3}$ بدن هر انسانی را آب تشکیل می‌دهد. چند کیلو از وزن شما آب است؟



لیخند

معلم: چرا داری سینه‌خیز میای توی کلاس؟
شاگرد: چون شما گفتین اگر کلاس دیر بشه حق نداریم پامون رو توی کلاس بگذاریم.

پدر شعر فارسی کیست و این شخص، شاعر معروف کدام دوره بوده است؟

عبارات زیر را حل کنید و در پایان، پاسخ را به صورت کسری بنویسید:

$$5/84 + 2/3 =$$

$$1/8 \times 90000/4 =$$

$$9/6 - 3/254 =$$

$$4/156 + 31/074 =$$

خانه‌های مربوط به عشار و شهرنشینان را نقاشی کنید.

هفتم فروردین

برای جدول زیر سوالات مناسب بنویسید:

- ۱-
- ۲-
- ۳-
- ۴-

ز	م	ی	ن
ی	ک	س	ا
خ	و	ا	ن
ی	خ	ب	ن
ن	ا	د	ن

کسرهای زیر را تا حد امکان ساده کنید:

$$\frac{۳۶}{۹۶} =$$

$$\frac{۳۵۰}{۸۵۰} =$$

عوامل مؤثر در موفقیت افراد

- ۱- جزئی نگری
- ۲- قدرشناسی از لحظات
- ۳- خودارزیابی
- ۴- خوش بینی واقع گرایانه
- ۵- بهتر بودن به جای خوب بودن
- ۶-
- ۷-

شغل اولیه برخی مشاهیر جهان؟! :

- ← آلبرت انیشتین (فیزیکدان) منشی اداره ثبت
 - ← ناپلئون بناپارت (امپراتور فرانسه) افسر توپخانه
 - ← نادرشاه افشار (مؤسس افشاریه) پوستین دوز
 - ← امیرکبیر (صدر اعظم ناصرالدین شاه) آشپز
 - ← شون کانزی (هنرپیشه) راننده کامیون
- پس با تلاش و پشتکار می توانیم به آنچه می خواهیم برسیم.

آیا میدانتید؟

نهم فرودین


وقتی هدفی داری، به سمت آن برو و هیچ وقت نا امید نشو.

زهرة و رعنا درباره ی ترس با یکدیگر صحبت می کردند، اما در بعضی موارد نمی دانستند که کدام ترس درست و بجا و کدام ترس نادرست است. به آن ها کمک کنید و جدول را کامل نمایید.

ترس های ناپجا



ترس های بجا



تغییر رنگ فرش در اثر نور آفتاب یک تغییر است.

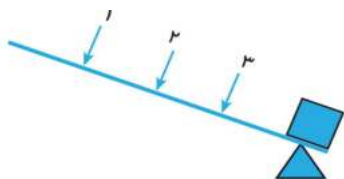
اهرم چیست؟

.....


سه قسمت اصلی اهرم های زیر را مشخص کنید؟



در شکل زیر، نیرو را در کجا قرار دهیم، تا نیروی کم تری برای جابه ا کردن جسم وارد شود؟ چرا؟



دهم فروردین



در کدام مصراع دو کلمه‌ی مخالف به کار رفته است؟

- الف) به نام خداوند خورشید و ماه
- ب) ز نادان بنالد دل سنگ و کوه
- ج) ز دانش در بی نیازی بجوی
- د) ز دانش دل پیر برنا بود

۳۰ درصد عددی ۹۰ است، ۳۵ درصد آن چند می شود؟

.....

ایستگاه فکر

تینا تعدادی طوطی و تعدادی قفس در اختیار دارد. اگر او در هر قفس ۴ طوطی نگه دارد، یک قفس، خالی باقی می ماند. اگر او در هر قفس ۳ طوطی قرار دهد، یک طوطی بی قفس خواهد ماند. آیا می توانید بگویید تینا چند طوطی و قفس دارد؟

.....

.....

جدول زیر را کامل کنید.

از ماه ها	جاه
آفت گندم	شن
	آفرینش زیبایی
	ثمر
تکه پاره ها	از میوه ها
	برتر

